

## 2012 年度国家公务员录用考试 《行政职业能力测验》全真模拟预测试卷(五)

### 注意事项

- 1.行政职业能力测验共有五个部分,135 道题,总时限为 120 分钟。各部分不分别计时,但都给出了参考时限,供答题时参考。
- 2.将姓名与准考证号在指定位置上用黑色字迹的钢笔、签字笔或圆珠笔填写,并用 2B 铅笔在准考证号对应的数字上填涂。
- 3.请将题本上的条形码揭下,贴在答题卡指定位置。没有贴条形码的答题卡将按作废处理,成绩计为零分。
- 4.题目应在答题卡上作答,在题本上作答一律无效。
- 5.待监考老师宣布考试开始后,你才可以开始答题。
- 6.监考老师宣布考试结束时,你应立即停止作答,将题本、答题卡和草稿纸都翻过来放在桌上,待监考老师确认数量无误、发出离开指令后,方可离开考场。
- 7.试题答错不倒扣分。
- 8.严禁折叠答题卡!

### 第一部分 常识判断 (共 25 题,参考时限 15 分钟)

根据题目要求,在四个选项中选出一个最恰当的答案。

请开始答题:

1.关于我国区域开放,以下说法正确的是:

- A.我国经济特区的成立按先后顺序分别为:深圳、珠海、汕头、海南、厦门
- B.开放的沿江和内陆省会城市横贯我国东、中、西三大经济带
- C.东北老工业基地的对外开放主要是吸引外国直接投资和大力发展加工贸易的出口部门
- D.厦门经济特区首次开放了服务业

2.在我国,保障人民当家作主的国家制度是:

- A.中华人民共和国宪法
- B.我国的基层民主制度
- C.中国共产党领导的多党合作制度
- D.我国的国体和政体

3.\_\_\_\_\_省国家资源型经济转型综合配套改革试验区,是我国第一个全省域、全方位、系统性的国家级综合配套改革试验区。

- A.山西
- B.陕西
- C.安徽
- D.河南

4.我国少数民族中,人口最多的是:

- A.维吾尔族      B.藏族      C.壮族      D.蒙古族

5.中国共产党在民主革命中战胜敌人的三大法宝是:

- A.土地革命、党的建设、武装斗争      B.统一战线、武装斗争、党的建设  
C.武装斗争、土地革命、统一战线      D.工农运动、武装斗争、党的建设

6.根据《村民委员会组织法》,下列说法正确的是:

- A.村民委员会向村民会议、村民代表会议负责并报告工作  
B.村民委员会的选举,由村民委员会主持  
C.本村五分之一以上的村民代表联名,可以提出罢免村民委员会成员的要求,并说明要求

罢免的理由

- D.村民代表会议由村委会主任召集

7.下列说法不正确的是:

- A.公安机关、人民检察院是取保候审、监视居住执行机关  
B.只要国家机关工作人员实施了包庇黑社会性质的组织的行为,就构成包庇、纵容黑社会

性质组织罪

- C.行政机关作出责令停产停业处罚决定之前,应当告知当事人有要求举行听证的权利  
D.经营者不得捏造、散布虚伪事实,损害竞争对手的商业信誉、商品声誉

8.根据《行政监察法》的规定,下列说法不正确的是:

- A.县级以上地方各级人民政府监察机关负责本行政区域内的监察工作  
B.监察人员办理的监察事项与本人或者其近亲属有利害关系的,可以回避  
C.监察机关之间对管辖范围有争议的,由其共同的上级监察机关确定  
D.上一级监察机关认为下一级监察机关的监察决定不适当的,可以责成下一级监察机关

予以变更或者撤销

9.毛泽东军事思想形成于\_\_\_\_\_时期。

- A.土地革命战争时期      B.抗日战争时期  
C.解放战争时期      D.抗美援朝时期

10.下列关于我国科技史,不正确的是:

- A.1965年,我国首次人工合成了结晶牛胰岛素  
B.世界上首次作出哈雷彗星的确切记录的是《春秋》  
C.我国古代最初采用的计算工具是算筹  
D.“月光生于日之所照,魄生于日之所蔽,当日则光盈,就日则光尽。”是元朝天文学家郭守

敬对日食现象作出的科学解释

11.我国海拔最高、面积最大的自然保护区是:

- A.长白山自然保护区      B.三江源自然保护区  
C.鼎湖山自然保护区      D.卧龙自然保护区

12.以下说法不正确的是:

- A.“三江并流”中的三江分别指的是怒江、金沙江、澜沧江  
B.长江全长 6300 多公里,是中国第一大河,也是亚洲最长的河流,世界第三大河  
C.“坝子”广泛存在于云贵高原上

D.中国著名的淡水湖有鄱阳湖、洞庭湖、太湖、洪泽湖、青海湖、巢湖

13.国家通过调节利率高低可以影响经济活动。一般认为,利息增加后带来的经济影响是:

- A.刺激需求,生产扩大,经济活动水平上升
- B.货币供给增加,将引起适度的通货膨胀
- C.货币供给减少,对生产的影响不能确定
- D.抑制需求,缓解通货膨胀

14.关于我国外汇储备,说法不正确的是:

- A.2006年我国外汇储备超过日本成为全球第一外汇储备国
- B.外汇储备经营始终坚持“安全、流动、增值”的原则
- C.2010年我国为美国最大债权国
- D.外汇储备越多,对我国经济发展越有利

15.关于我国少数民族及其传统节日对应不正确的是:

- A.蒙古族 那达慕大会
- B.壮族 火把节
- C.傣族 泼水节
- D.苗族 跳花节

16.以下说法不正确的是:

- A.深入贯彻落实科学发展观,目的在于推动经济社会又好又快发展
- B.科学发展观是实现“十二五”时期经济社会发展目标的根本保证
- C.党内民主是党的生命,党务公开是党内民主的重要内容
- D.深入贯彻落实科学发展观,动力在于创新体制机制

17.我国社会主义民族关系的基本特征是平等、团结、互助、和谐,其中\_\_\_\_\_是主线。

- A.平等
- B.团结
- C.互助
- D.和谐

18.造成我国近海海域海水富营养化程度不断加重的主要原因是:

- A.大量生活污水和富含有机物的工业废水被直接排入大海
- B.渔业捕捞的失控
- C.近海的石油开采
- D.近大陆架消化污染的能力比较差

19.下列各项,说法正确的是:

- A.“连中三元”的“三元”是指秀才、举人、进士
- B.我国文化将五行、五色、五方位等一一对应,红色对应的方向应该是南
- C.《二十四史》中,只有《史记》是断代史,其他都是通史
- D.椿萱是对他人母亲的雅称

20.围绕着人与神、人与社会、人与自然等问题的思考,公元前6~5世纪,东西方社会几乎同时诞生了一批伟大的思想先哲。下列说法不正确的是:

- A.孔子思考人与人、人与社会关系,具有人文精神
- B.老子注重探讨宇宙本源的问题,用以指导人生
- C.佛陀关注心灵智慧的觉悟
- D.苏格拉底着重讨论的是人与自然的问题

21.以下关于石墨烯材料,说法正确的是:

- A.石墨烯是目前世界上最薄的材料

- B.石墨烯的导热效果虽然不如硅材料,但其坚固性比目前任何其他材料都好  
C.石墨烯是由海姆和诺沃肖洛夫制备出的,并使其于当年获得诺贝尔物理学奖  
D.石墨烯为粒子物理学的研究提供了很好的平台

22.关于我国文化,下列说法不正确的是:

- A.我国宋代豪放派最杰出的词人是苏轼  
B.五代时期的董源被认为是南派山水画的开创者  
C.我国“折柳送行”的习俗最早见于《诗经》里的《小雅·采薇》,寓含“惜别怀远”之意  
D.《金匱要略》是医学家陶弘景的著作

23.以下各项中,说法不正确的是:

- A.英国文艺复兴戏剧的创始人是马洛  
B.俄国批判现实主义文学流派的别称是“唯美派”  
C.日本近代文坛上影响最大、持续时间最长的文学流派是自然主义  
D.《古兰经》是伊斯兰教最基本的法典,也是阿拉伯文学史上成文的第一部散文巨著

24.从环境保护的角度出发,下列做法正确的是:

- A.焚烧树叶,以减少垃圾运输量  
B.将废弃塑料就地烧掉,以消除“白色污染”  
C.加高工厂烟囱,以减少二氧化硫对环境的污染  
D.运输沙土的车辆盖上苫布,以免增加空气中的粉尘含量

25.下列说法不正确的是:

- A.利用太阳能等清洁能源代替化石燃料,有利于节约资源、保护环境  
B.含有食品添加剂的食物对人体健康均有害,不可食用  
C.为防止电池中的重金属等污染土壤和水体,应积极开发废电池的综合利用技术  
D.提倡人们购物时不用塑料袋,是为了防止“白色污染”

※※※第一部分结束,请继续做第二部分! ※※※

## 第二部分 言语理解与表达

(共 40 题,参考时限 35 分钟)

本部分包括表达与理解两方面的内容。请根据题目要求,在四个选项中选出一个最恰当的答案。

请开始答题:

26.清凉的天气已经\_\_\_\_\_了整整一周时间,气象部门提醒,由于春天是雷电和强降水多发季节,市民要及时做好\_\_\_\_\_ ,减少因强对流天气造成的损失。

填入划横线部分最恰当的一项是:

- A.持续 防御 B.继续 抵御  
C.连续 预防 D.维持 防范

27.从鸦片战争到甲午战败,这个“数千年未有之大变局”的酿成乃是中国农耕文明\_\_\_\_\_

与西方工业文明\_\_\_\_\_的双重结果。

填入划横线部分最恰当的一项是:

- A.式微 侵袭                      B.消亡 侵略  
C.衰落 熏陶                      D.变革 影响

28.大卫体格健壮,神态坚定,左手轻推肩上的投石带,在投入战斗前的瞬间,他侧首\_\_\_\_\_左前方,目光如炬。《大卫》象征着为正义事业而奋斗的力量,雕塑家在他身上\_\_\_\_\_了自己炽烈的爱国主义理想。

填入划横线部分最恰当的一项是:

- A.环视 赋予                      B.远眺 灌注  
C.凝视 倾注                      D.注视 寄托

29.文化是一个民族成为自己而不是别人的根,传承和振兴文化是一项责任和使命并存的任务,每个人都\_\_\_\_\_。

填入划横线部分最恰当的一项是:

- A.息息相关      B.义不容辞      C.责无旁贷      D.不可偏废

30.作为阅兵仪式的“主战场”,3月起,有“神州第一街”之称的长安街迎来 10 年来首次大修,重点在于\_\_\_\_\_路面抗碾轧和防滑的能力。作为阅兵重要路段的复兴门桥至建国门桥,\_\_\_\_\_后实现双向十车道,将提高阅兵车辆的通行效率。

填入划横线部分最恰当的一项是:

- A.强化 修缮                      B.加强 修筑  
C.增强 修建                      D.增加 修葺

31.在很多人的记忆里,蝉是夏季的\_\_\_\_\_代言人。没有蝉鸣的夏天,很难说是真正的夏天。而且习惯了蝉鸣,“寂静的夏天”反而会让人觉得不习惯。然而,要有蝉鸣,便得有自然泥地,而自然泥地对大城市来说往往是\_\_\_\_\_品。

填入划横线部分最恰当的一项是:

- A.最佳 消费                      B.时令 艺术  
C.首选 稀缺                      D.自然 奢侈

32.城市建筑\_\_\_\_\_着诸多功能,其名字应该符合这个城市的历史、文化特质,并与周围的建筑相协调。那些不伦不类的“洋地名”不仅\_\_\_\_\_了城市的个性与文化内涵,而且损害了城市的历史根基。

填入划横线部分最恰当的一项是:

- A.具备 掩饰                      B.承载 湮没  
C.包含 淹没                      D.具有 破坏

33.有许多好书的价值只限于某一特定历史时期,它们没有展示出那种\_\_\_\_\_的吸引力,这种吸引力来源于用各个时代、各个地区的人都能理解的方式来讨论各时代、各地区的人都要\_\_\_\_\_的问题。

填入划横线部分最恰当的一项是:

- A.一如既往 解决                      B.历久弥新 考察  
C.一唱百和 思考                      D.经久不衰 面对

34.成为英雄的条件是:要勇敢,但是不能急躁;要行动迅速,但是不能\_\_\_\_\_;要服从,

但是不能卑躬屈膝;要能统率,但是不要\_\_\_\_\_。

填入划横线部分最恰当的一项是:

- A.草木皆兵 肆意妄为                      B.轻举妄动 盛气凌人  
C.草率行事 恃才傲物                      D.打草惊蛇 颐指气使

35.书是作者思想表达的重要载体和有效形式,我们在阅读的时候,要\_\_\_\_\_作者的原意,大不可\_\_\_\_\_,也不能妄加猜测,将自己的意志强加于作者之上,把自己的价值观带入阅读之中,而是要设身处地地站在作者的角度去了解作者想要表达的意思。

填入划横线部分最恰当的一项是:

- A.体会 寻章摘句                      B.尊重 断章取义  
C.揣摩 生吞活剥                      D.挖掘 牵强附会

36.为了研究和预报空间天气灾变规律,\_\_\_\_\_或减轻灾害性空间天气可能给人类活动带来的灾害和损失,一门把空间天气的监测、研究、模式、预报、效应、信息传输与处理以及对人类活动的影响加以综合而成的新学科\_\_\_\_\_。

填入划横线部分最恰当的一项是:

- A.消除 水到渠成                      B.消除 脱颖而出  
C.避免 浮出水面                      D.避免 应运而生

37.书法艺术在总体上是一种\_\_\_\_\_美,它与人品的关系曲折错综。许多性格柔弱的文人却有一副\_\_\_\_\_的笔墨,而沙场猛将的字迹倒未必有\_\_\_\_\_之气。

填入划横线部分最恰当的一项是:

- A.形象 奇崛 暴戾                      B.形象 雄健 杀伐  
C.形式 雄健 暴戾                      D.形式 奇崛 杀伐

38.虽然很多论调认为印刷出版物已经\_\_\_\_\_,金融危机更是让报刊伤亡\_\_\_\_\_,但是一些历史悠久、口碑甚好的报刊却依然是人们心目中权威媒体的代言。

填入划横线部分最恰当的一项是:

- A.不堪一击 惨烈                      B.日薄西山 惨重  
C.穷途末路 惨痛                      D.明日黄花 惨厉

39.最近,在广大 MSN 用户中\_\_\_\_\_着信使(messenger)服务将要收费的消息。昨天,微软在华的 MSN 负责人告诉记者,这是由于中美商业模式差别造成的\_\_\_\_\_,基于个人计算机的 MSN messenger 将\_\_\_\_\_免费下去。

填入划横线部分最恰当的一项是:

- A.流传 误解 一直                      B.传播 误读 始终  
C.传扬 误会 永远                      D.谣传 曲解 继续

40.他的伟大不在于\_\_\_\_\_了一份宏图伟业,也不在于\_\_\_\_\_了波澜壮阔的时代传奇,而是忠诚,是对党的事业和人民群众的\_\_\_\_\_,是对肩负职责的一丝不苟和兢兢业业。

填入划横线部分最恰当的一项是:

- A.获得 成就 不辞劳苦                      B.建立 创造 满腔热忱  
C.成就 书写 赤胆忠心                      D.创立 制造 忠贞不渝

41.VIP 班里人数有限,普通班里\_\_\_\_\_;VIP 班里空调、电视\_\_\_\_\_,普通班里只有粉笔和黑板。这是在义务教育阶段就人为地制造不公,是阴魂不散的“教育产业化”的变种体现。

填入划横线部分最恰当的一项是:

- A.熙熙攘攘 应有尽有 B.人山人海 琳琅满目  
C.人满为患 一应俱全 D.摩肩接踵 有求必应

42.《禅宗少林·音乐大典》既注意挖掘和反映优秀传统文化,又努力实现中国元素的\_\_\_\_\_制作、传统故事的\_\_\_\_\_表达,做到了民族性、包容性和\_\_\_\_\_性的有机统一。

填入划横线部分最恰当的一项是:

- A.本土 经典 传统 B.国际 现代 时代  
C.标准 充分 完整 D.音乐 另类 艺术

43.在养生专家的\_\_\_\_\_下,在环保主义者的\_\_\_\_\_下,在时尚的引领下,世界许多国家和地区的公众流行着一种新的行为方式——素食。这种饮食行为的极端者被称为素食主义者。而素食主义者除了极力提倡素食和把素食的优点扩大和\_\_\_\_\_到极致外,还对荤食极其不屑。

填入划横线部分最恰当的一项是:

- A.倡导 影响 渲染 B.建议 游说 宣扬  
C.影响 倡议 夸张 D.督促 推动 鼓吹

44.说“把玩学术”不太合适,显得有点\_\_\_\_\_,但如果是“沉潜把玩”呢?其实,读书做学问,目的性太强,很难达到痛快淋漓、出神入化的地步。这一点,学问与游戏之道是\_\_\_\_\_的,缺乏足够的好奇心、求知欲、距离感,反而做不好。按照今日不少人的“学者”标准,恐怕传统中国读书人,全都是业余性质——可那种“爱美的”读书人,自有\_\_\_\_\_之处。

填入划横线部分最恰当的一项是:

- A.轻浮 相近 可叹 B.轻佻 相通 可爱  
C.轻慢 相似 可敬 D.轻视 相仿 可赞

45.长江流域,无疑也是中华民族文化的\_\_\_\_\_之一。考古发现\_\_\_\_\_,旧石器时代处于长江上游今云南境内的元谋人,与黄河流域今陕西境内的蓝田人\_\_\_\_\_。这个结论具有划时代的意义。

填入划横线部分最恰当的一项是:

- A.发源地 表明 共存 B.发祥地 证明 并存  
C.发源地 证明 并存 D.发祥地 表明 共存

46.一位年老的印度大师身边有一个总是抱怨的弟子。有一天,他派这个弟子去买盐。弟子回来后,大师吩咐这个不快活的年轻人抓一把盐放在一杯水中,然后喝了。“味道如何?”大师问。“苦。”弟子龇牙咧嘴地吐了口唾沫。大师又吩咐年轻人把剩下的盐都放进附近的湖里,并让他再尝尝湖水。“你尝到咸味了吗?”大师问。“没有。”年轻人答道。这时,大师对弟子说道:“生命中的痛苦就像是盐,不多,也不少。我们在生活中遇到的痛苦就这么多。但是,我们体验到的痛苦却取决于它盛放在多大的容器中。”

这段文字主要想告诉我们的是:

- A.当你处于痛苦时,请开阔你的胸怀 B.对他人宽容也就是对自己宽容  
C.海纳百川,有容乃大 D.快乐在于自己的选择

47.“刻板成见”是指人们对特定的事物所持的固定化、简单化的观念和印象。媒体在报道时对当事人身份的过分突出,很有可能会强化公众对这种身份的认识,使之刻板化,并自觉不自觉地以

身份来判断某些人的品行,这很容易在公众的人际交往中制造误解,甚至人为地在不同身份的人中制造对立情绪。比如,普通公众中一些人对“富二代”的反感很难说与媒体的报道没有关系。

这段文字意在说明:

- A.媒体对公众身份的过分突出淡化了作为个体的人的丰富性
- B.媒体在报道中应就事论事,不要过分强调新闻当事人的身份
- C.“刻板成见”不利于公众对新闻进行更准确的判断和思考
- D.在新闻报道中,应强调要微观真实和宏观真实相结合

48.回避制度是我国传统任官制度的重要特点,此制始于东汉,后为历代沿袭,至清已形成一种非常重要的人事管理制度,其目的是防止官员因某些关系徇情营私。清代回避制度主要有籍贯回避、亲属回避、师生回避。清代任官的回避制度,规则繁密,超过往代,在嘉道之前执行尤为严格,在防止官员利用亲缘、乡土、师生关系为亲戚、好友、学生营私舞弊方面,起到了重要作用。知县异地为官,客观上遏制了知县原来各种盘根错节的关系,既保护了知县行事的独立性,又减少了任官勾结营私的风险性。

对这段文字理解准确的是:

- A.在我国传统任官制度中,回避制度规则严密、执行严格
- B.知县异地为官是清代回避制度中效果最好的一种回避方式
- C.回避制度的发展在清代达到了顶峰,效果明显
- D.回避制度所起的作用是防止官员因某些关系徇情营私

49.《阿 Q 正传》是一部韵味隽永的作品,它做到了结尾而不是结束,甚至使作品从结尾处往上翻,引领读者回到开头去重新检视刚刚结束的生命的历程,重温生命体验。小说中的阿 Q 直到在为自己的生命画句号时,还不知道自己已经面临毁灭,还在为自己画押的圆圈画得不够圆而感到“羞愧”。就在这一刻,鲁迅便把阿 Q 这个愚昧和麻木不仁的个性悲剧推向极致,让他久久存活在读者心中,并成为永恒的一个永恒的鉴戒。

这段文字意在说明:

- A.好的作品应该做到结尾却不结束
- B.鲁迅塑造阿 Q 这个形象非常成功
- C.阿 Q 是一个愚昧和麻木不仁的悲剧人物
- D.阿 Q 已经成了读者心中永恒的鉴戒

50.其实,我们每个人的生命最初都是一片光秃秃的土地。只是后来,在我们经历了许多物事之后,我们的种种体验就像一张柔韧而尖锐的犁铧一样,将我们的生命一点一点地开垦出来。被开垦的土地从此便不再是一片不毛之地,我们所有的体验都会在不同的时间里,将根须扎进我们生命的深处疯狂地生长,这些生长的植物中有清丽高贵也有瑕疵世俗。

根据这段文字,理解不正确的是:

- A.体验依附并丰富着生命
- B.人生应该努力获取多种经验
- C.人生经历种种滋味是不以个人意志为转移的
- D.生命底色纯洁无瑕

51.企业是社会的细胞,社会是企业利益的源泉。企业作为社会的重要组成部分,同样是“国家公民”之一,它有追求自身经济利益最大化的权利,又承担着“积善扬德、助困扶弱”的社会责



任。企业竞争力在很大程度上依赖于企业竞争环境,企业慈善行为则可以博得更多的社会认同和影响,能增强企业的竞争力。一个有社会责任感的企业,消费者对其产品也就更加信赖。因此,成功的企业既要做好自己的商业品牌,也要树立企业的社会公民品牌。

这段文字的主要内容是:

- A.高度的社会责任感是一个成功企业的必要条件
- B.企业慈善行为能够增强企业的市场竞争力
- C.成功的企业要做好商业与社会公民两个品牌
- D.做慈善既是企业的社会责任,也是企业发展的需要

52.中国的传统庙会是集宗教祭祀、文艺表演、商品交易为一体的民间集会。庙会的最初形式并没有商品交换的内容,而只是纯粹的宗教祭祀活动。随着集会人数的不断增多,自然也就导致商人的汇集,定期的集市也就自然形成。演变到后来,庙会商品交易的功能变得比宗教祭祀功能更为重要。

这段文字意在说明:

- A.庙会商品交易的功能比宗教祭祀功能更为重要
- B.宗教的传播带动了商品的流通
- C.庙会的最初形式并没有商品交换的内容
- D.商品的流通也带动了宗教的传播

53.传说老子遇到一位年逾百岁的老翁,老翁得意地说:“我从年少到现在,一直是游手好闲地轻松度日。我的同龄人辛苦一生却早已作古。现在我是否可以嘲笑他们忙碌一生,只是给自己换来一个早逝的结果呢?”老子拿了一块砖头和一块石头放在老翁面前说:“如果只能选择其一,您是要砖头还是要石头呢?”老翁选择了砖头,并指着石头说:“这石头没棱没角,要它何用?”老子又问老翁:“是石头寿命长呢还是砖头寿命长?”老翁说:“当然是石头了。”老子笑着说:“石头寿命长,您却不选择它;砖头寿命短,您却选择了它,不过是有用和没用罢了,天地万物莫不如此。”老翁顿然大惭。

这个故事给我们的启示是:

- A.个体的生命终会腐朽,但精神却可以得到永存
- B.个人的价值大小取决于其为社会创造的财富大小
- C.生命的意义不在于长短,而在于对社会的贡献
- D.人除了追求生命的长度外,也要追求生命的质量

54.就好比古代中国的读书人绕不开《易经》一样,现代中国的读书人是避不开《红楼梦》的。所以,自王国维发表《〈红楼梦〉评论》以来,中国现代各路“文化豪杰”在学有所成后都会在“红学”里一试身手,似乎不露一手就不足以显示自己的学问如何了得。也正是这种意义上,《红楼梦》产生了一种“正典效应”。

作者接下来最有可能重点介绍的是:

- A.王国维的《〈红楼梦〉评论》
- B.《红楼梦》的“正典效应”
- C.各路“文化豪杰”的“红学成就”
- D.现代中国的读书人避不开《红楼梦》的原因

55.最初的生命可能就是一群偶然聚集在一起的有机物,之后,这群偶遇的有机物有了明确的分工。蛋白质负责提供支架和生产能量,DNA 和 RNA 则保存和实施群体的“复制图纸”,磷脂分子和蛋白质还联手建了细胞膜。正是这层神奇的膜,将有机物集群包裹在一个稳定的环境

中。生命的单元——细胞就这样诞生了。

这段文字主要描述的是:

- A.细胞诞生的科学假说
- B.细胞初始的变化过程
- C.生命单元的形成条件
- D.生命演化的合理猜想

56.肉、禽、蛋等主要副食品与米、面等粮食价格的每次上涨,都会引起社会的广泛关注。客观看,有些价格上涨是合理的,有些上涨是不合理的。对此,政府和城镇居民要理性分析,尤其要善于倾听广大农民的心声,然后予以协调和平衡,使其价格趋于合理。在当今我国城乡二元制没有打破的前提下,政府不能简单以牺牲农民利益来维护城市需要,动辄祭出“限价”的法器打压农产品价格,来维持副食品价格的表面稳定,要知道城里人的利益需要维护,农民的利益也不能舍弃。

这段话主要支持了这样一个观点,即:

- A.肉、禽、蛋、米、面等价格波动会牵动多方利益
- B.城里人的利益和农民的利益因为农产品得以衔接
- C.缺乏理性分析的“限价”其实是损害农民的利益
- D.舍弃农民利益而维护城里人利益实在是本末倒置

57.社会冲突扮演了一个激发器的角色,它激发了新规范、规则和制度的建立,从而充当了促使敌对双方社会化的代理人。此外,冲突重新肯定了潜伏着的规范,从而强化了对社会生活的参与。作为规范改进和形成的激发器,冲突使得调整已经发生变化了的社会关系成为可能。但是,社会冲突是否有利于内部适应,取决于是在什么样的问题上发生冲突,以及冲突发生的社会结构。

这段文字主要说明:

- A.社会冲突有助于社会整合
- B.社会冲突的整合功能是需要条件的
- C.社会冲突是社会化的表现
- D.社会冲突是参与社会生活的方式之一

58.依次填入下面一段文字横线处的语句,衔接最恰当的一项是:

2008年北京奥运会的开幕式,把历史悠久的中华文明,通过现代化的光电手段,舒展成一幅优美动人的精彩画卷。\_\_\_\_\_;\_\_\_\_\_;\_\_\_\_\_;\_\_\_\_\_;\_\_\_\_\_。中华民族以这些杰出的贡献,证明了自己是人类大家庭中的伟大一员。

- ①造纸术使人类告别了羊皮和纸草,人类的知识有了更加便利的记录和传播的载体
- ②茶叶不仅是一种芬芳馥郁的饮品,也是神秘东方淡定从容的生活方式的一种体现
- ③印刷术使人类告别了绳泥木石,人类的创作有了更加迅捷的表达和交流的媒介
- ④之后,火药炸开了中世纪领主的堡垒,指南针指明了全球化步伐的方向
- ⑤而瓷器不仅是一件晶莹绚丽的容器,更是华贵中华沉静细腻的审美情趣的一种展现

- A.④①③②⑤
- B.①④②⑤③
- C.③①②④⑤
- D.①③④②⑤

59.依次填入下面一段文字横线处的语句,衔接最恰当的一项是:

衡水,古时地处燕南赵北,东与齐鲁接壤,历来是燕赵文化和齐鲁文化的交汇处,千百年来,\_\_\_\_\_,\_\_\_\_\_,\_\_\_\_\_,\_\_\_\_\_:\_\_\_\_\_,\_\_\_\_\_,文能治国的宰相,武能安邦的将帅;有著书立说的思想家,发明创造的科学家,开馆讲学的教育家,蜚声文坛的文学家,造诣深厚的艺术家;还有乐善好施、急公好义的仁人,侠肝义胆、见义勇为的志士,以及叱咤风云、反抗暴政的农民起义领袖等等。

- ①母仪天下的太后                      ②名贤俊杰史不绝书  
③人文资源丰富                        ④有主政一国的帝王  
⑤得文化发展风气之先                ⑥文化积淀厚重  
A.⑤⑥③②④①                      B.⑤⑥④①②③  
C.③②④①⑥⑤                      D.③②⑥⑤④①

60.①《禹贡》主要以山脉、河流和海洋为自然分界,把所描述的地区分为九州,不受当时诸侯割据形势的局限把广大地区作为一个整体来研究,分别阐述九州的山川、湖泽、土壤、物产等,是自然区划思想的萌芽。

②此后,主要论述疆域、政区建制沿革的著作不断涌现,除正史有地理志外,各省、府、州、县也多编有地方志。

③《山经》以山为纲,综述远及黄河和长江流域之外的广大地区的自然条件。

④班固所著《汉书·地理志》是中国第一部疆域地理著作。

⑤中国最早的区域地理著作是战国前后出现的《山经》和《禹贡》。

将以上5个句子重新排列,语序正确的是:

- A.⑤③①④②      B.⑤③①②④      C.④②③⑤①      D.④②③①⑤

61.幸运固然好,不幸也未必就一定是坏事,海伦·凯勒、居里夫人、华罗庚,都各自有自己的不幸,\_\_\_\_\_。这就是艰难困苦,玉汝于成。

填入下面句子横线处最恰当的文句是:

- A.然而不幸并没有使他们消沉,反而变成了促使他们前进的动力  
B.只是他们并没有屈服于不幸的遭遇,他们扼住了命运的咽喉  
C.但是不幸不仅没有成为他们的拦路虎,而且成为促使他们前进的动力  
D.可是不幸只能吓倒懦夫,对强者却无可奈何

62.有一些老东西虽粗糙,却有非凡的价值。特别是食物,愈粗糙愈有益健康,像糙米胜过白米,黑麦面包胜过白面包、天然食物胜过加工食品。我们不断地把食物做得精致,事实上是在为自己制造祸害。在“过度加工”与“过度精制”的时代,使我们产生了巨大的盲点,并把这些盲点传给下一代,误以为加工与精制是好的,那些传统的、天然的事物反而被舍弃了。

这段话主要支持了这样一种观点,即:

- A.越是粗糙的食物对身体健康越有裨益  
B.返璞归真是重要的养生之道  
C.“过度加工”时代,人们陷入“精即是好”的误区  
D.精制未必是好的,传统和天然的可能更有价值

63.雕塑在人类的所有艺术门类里,论资历可谓“天字第一号”。梁思成曾有言:“艺术之始,雕塑为先。”梁先生何出此言呢?“盖在先民穴居野处之时,必先凿石为器,以谋生存;其后既有居室,乃作绘事。故雕塑之术,实始于石器时代,艺术之最古者也。”所以,雕塑是所有造型艺术的源头,是历史最为久远的艺术。

这段文字主要阐述的是:

- A.雕塑的资历      B.雕塑的起源      C.雕塑的历史      D.雕塑的价值

64.基因疗法是一种全新的治疗方式。科学家发现,遗传密码对一切生物都是通用的,他们想到利用对人体无害的逆转录病毒充当载体,把正常基因输送到人体内。这个过程是先从患者

身上取下一些细胞,然后把正常基因嫁接到病毒上,再让这些病毒去感染取出的人体细胞,让它们把正常基因插入细胞的染色体中,这样人体细胞就能够获得正常的基因,来取代原有的异常基因。把这些修复好的细胞培养、繁殖到一定数量后送回患者体内,这些细胞就会发挥“医生”的功能治好疾病。

对“基因疗法”理解正确的是:

- A.基因疗法无需服用药物,安全性高,副作用小
- B.基因疗法需要把正常基因嫁接到待修复细胞中的病毒上
- C.基因疗法需要以病毒为载体,这种病毒对人体无害
- D.基因疗法将在医学领域获得大规模的应用

65.除了中国之外,没有哪个国家会把英语强调到比本国语言还重要的程度。这绝对令人悲哀。语言的背后是文化,而文化的背后是实力,英语在世界范围内的盛行是英美体系获胜的结果。中国虽然经济快速发展,但软实力不够,语言文化的发展落后于经济的发展,自信心不足,故而才有对英语的崇拜;对英语的崇拜,实际上是对本民族文化不自信的体现。

这段文字意在说明:

- A.应加快文化的发展步伐,使其与经济的快速发展同步
- B.应破除对英语的盲目崇拜,树立对本民族文化的自信心
- C.目前对英语的重视程度是不正常的,应该引起人们的反思
- D.语言是民族文化的重要部分,必须重视对本国语言的保护

※※※第二部分结束,请继续做第三部分! ※※※

### 第三部分 数量关系

(共 15 题,参考时限 20 分钟)

在这部分试题中,每道题呈现一段表述数字关系的文字,要求你迅速、准确地计算出答案。

请开始答题:

66.有三堆棋子,每一堆棋子数一样多,并且都只有黑白两种颜色的棋子。第一堆的黑子和第二堆的白子数量相同,第三堆里黑子占了全部黑子的 $\frac{2}{5}$ ,把三堆棋子集中在一起,那么白子占了全部棋子的几分之几?

- A.  $\frac{4}{9}$
- B.  $\frac{2}{3}$
- C.  $\frac{5}{11}$
- D.  $\frac{6}{13}$

67.数列 $(\frac{1}{4}+9), (\frac{1}{2}+\frac{9}{2}), (\frac{3}{4}+3), (1+\frac{9}{4}), (\frac{5}{4}+\frac{9}{5}), \dots$ 中,数值最小的项是:

- A.第 4 项
- B.第 6 项
- C.第 9 项
- D.不存在

68.王主任现在有一个紧急通知需要传达给宿舍区内的 2095 人。如果用电话联系,一次可以通知 1 个人,需要 1 分钟;如果见面通知,一次可以通知 130 个人,需要 7 分钟。请问至少需要多少分钟才能把消息通知到所有人?

A.9                      B.10                      C.11                      D.12

69.有 48 本书分给两组小朋友,已知第二组比第一组多 5 人,如果把书全部分给第一组,那么每人 4 本,有剩余;每人 5 本,书不够。如果只分给第二组,那么每人 3 本,有剩余;每人 4 本,书不够,问第二组有多少人?

A.13                      B.14                      C.15                      D.16

70.甲、乙共有图书 63 册,乙、丙共有图书 77 册,已知三人中图书最多的那个人的书数是最少的那个人的 2 倍,请问图书最多的那个人有多少册图书?

A.36                      B.42                      C.44                      D.56

71.一列火车长 110 米,现在以 30 千米/小时的速度向北缓缓行驶,12:20 追上向北行走的路人甲,15 秒钟后离开甲。12:26 迎面遇上向南行走的路人乙,12 秒后离开乙。请问甲和乙将于( )相遇。

A.12:30                      B.12:40                      C.12:45                      D.12:50

72.现在将编号为 1、2、3、4、5、6 的 6 个球分别放入编号为 1、2、3、4、5、6 的 6 个盒子里,每个盒子放 1 个球。请问,恰好有 2 个盒子编号与球编号一样的投放方法有多少种?

A.15                      B.24                      C.135                      D.270

73.有 4 支队伍进行 4 项比赛,每项比赛的第一、第二、第三、第四名分别得到 5、3、2、1 分。每队的 4 项比赛得分之和算作总分,如果已知各队的总分不相同,并且 A 队获得了三项比赛的第一名,问总分最少的队伍最多得多少分?

A.7                      B.8                      C.9                      D.10

74. 7:03:07 这个时间是一个很奇特的时间,它不管正读还是倒读都是“70307”,我们称之为“回文时间”。请问一天中,有多少个这样的“回文时间”?

A.360                      B.600                      C.660                      D.684

75.甲、乙、丙三人合买一本书,他们的钱刚好够购买一本书。甲说:“如果我能再得到 16 元,那么我的钱数将是乙的 2 倍。”乙说:“如果我能再得到 3 元,那么我的钱数将是丙的 3 倍。”丙说:“如果我能再得到 3 元,那么我的钱数将是甲的一半”。问此书的价格为多少元?

A.25                      B.30                      C.40                      D.45

76.某工厂出厂一批零件,包含 A、B、C 三种,其中 A、B 两种零件总数是 C 的 7 倍。已知 A 零件出厂单价为 83 元,B 零件出厂单价为 79 元,C 零件出厂单价为 3 元,这批零件总价为 16604 元。请问 A 零件有多少个?

A.120                      B.89                      C.83                      D.70

77.甲、乙、丙三个仓库共有一些大米,第一天将甲仓库中  $\frac{2}{3}$  的大米运到乙仓库,第二天将乙仓库中  $\frac{1}{2}$  的大米运到丙仓库,第三天将丙仓库中  $\frac{3}{4}$  的大米运到甲仓库。此时,三个仓库大米的重量比为 4:2:1。问最初三个仓库大米的重量比为多少?

A.3:2:2                      B.3:3:1                      C.3:4:2                      D.1:2:4

78.金苹果幼儿园有一堆梨,个数不超过 100 个,将其中的  $\frac{2}{7}$  分给 1 班,  $\frac{1}{3}$  分给 2 班,余下的给 3 班,那么 3 班最多分到梨( )个。

A.24

B.28

C.32

D.36

79.某商店销售一批同型号的电风扇,按高于进价的 20% 的价格定销售价,预计获利 9000 元。由于其中 20 台电风扇的外皮有些损伤,这 20 台按销售价打八五折出售,因此最后获利只有预计获利的 94%。这批电风扇共有多少台?

A.280

B.300

C.320

D.355

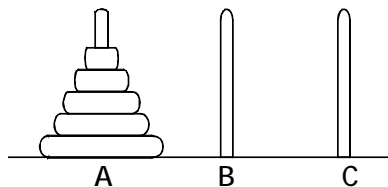
80.如图所示,有 A、B、C 三根木柱,已知 A 柱上有 5 个中间有孔且大小不同的圆盘,大的在下,小的在上。现要将 A 柱上所有的圆盘移到 C 柱上,每次只能将最上面的一个圆盘从一根柱子移到另一根,且大盘不能在小盘上面,问至少需要移多少次?

A.15

B.17

C.31

D.33



※※※第三部分结束,请继续做第四部分!※※※

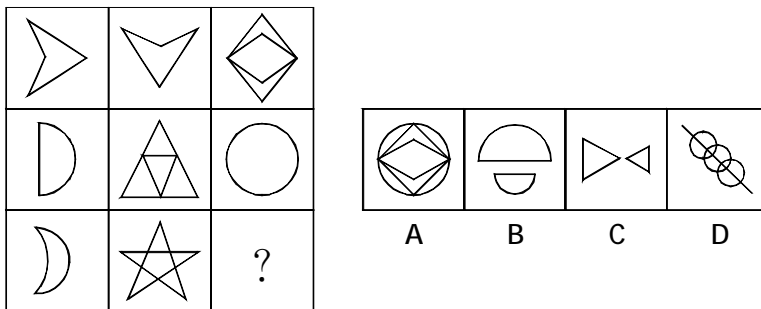
#### 第四部分 判断推理

(共 40 题,参考时限 35 分钟)

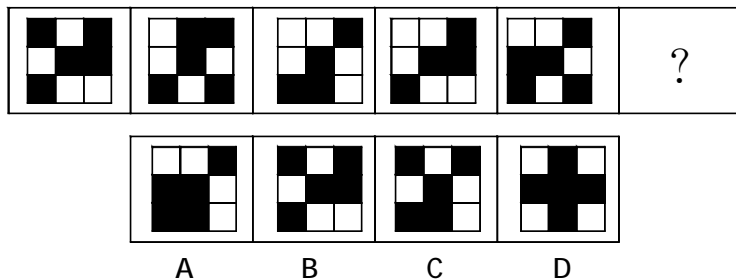
一、图形推理。请按每道题的答题要求作答。

请开始答题:

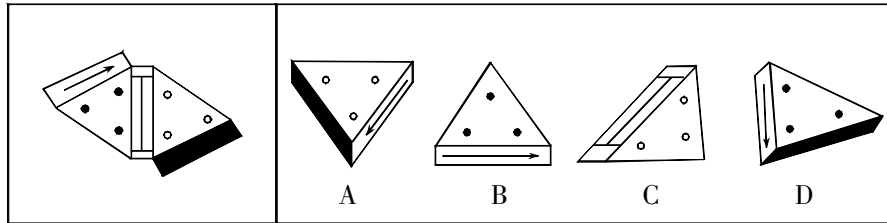
81.从所给的四个选项中,选择最合适的一个填入问号处,使之呈现一定的规律性:



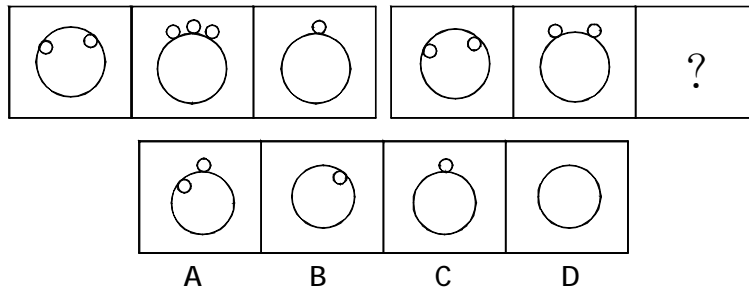
82.从所给的四个选项中,选择最合适的一个填入问号处,使之呈现一定的规律性:



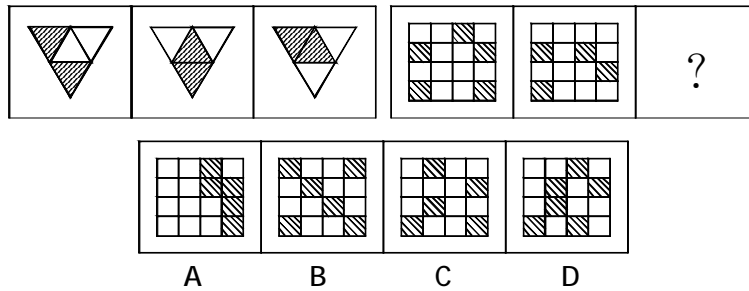
83. 左边给定的是纸盒的外表面, 下面哪一项能由它折叠而成?



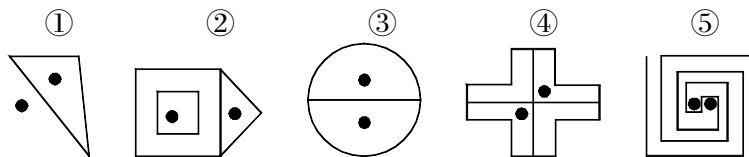
84. 从所给的四个选项中, 选择最合适的一个填入问号处, 使之呈现一定的规律性:



85. 从所给的四个选项中, 选择最合适的一个填入问号处, 使之呈现一定的规律性:



86. 把下面的图形重新排列, 使这一列图形表现出某种规律:



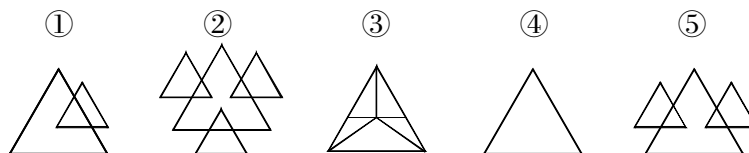
A. ①②③④⑤

B. ①③④②⑤

C. ⑤①④③②

D. ⑤①③②④

87. 把下面的图形重新排列, 使这一列图形表现出某种规律:



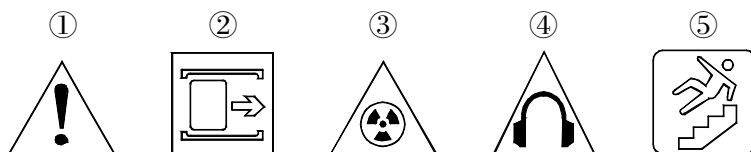
A. ④①⑤②③

B. ④③①⑤②

C. ①④③⑤②

D. ④①②③⑤

88. 把下面的图形重新排列, 使这一列图形表现出某种规律:



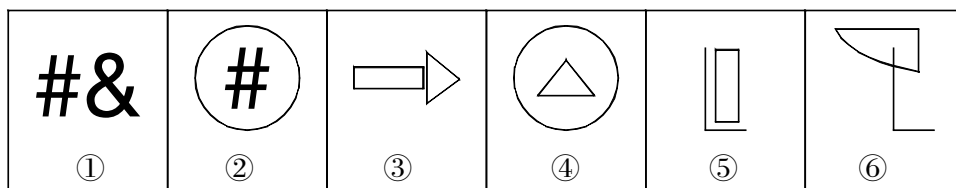
A. ④①⑤②③

B. ①⑤④②③

C. ④①②③⑤

D. ①④③②⑤

89. 请交换题干中两个图形的位置, 使之呈现一定的规律性:



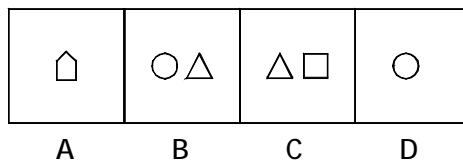
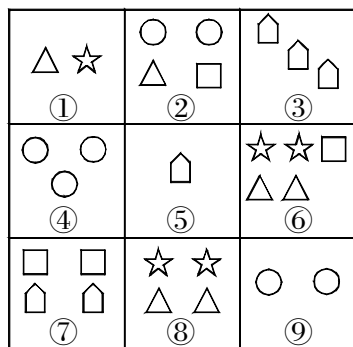
A. ③与④互换

B. ③与⑤互换

C. ④与⑤互换

D. ⑤与⑥互换

90. 从所给的四个选项中, 选择最合适的一个替换图形⑨, 使之呈现一定的规律性:



二、定义判断。每道题先给出定义, 然后列出四种情况, 要求你严格依据定义, 从中选出一个最符合或最不符合该定义的答案。注意: 假设这个定义是正确的, 不容置疑的。

请开始答题:

91. 舆论: 指相当数量的个人、群体或组织对公共事物所发表的倾向一致的言论。

下列属于舆论的是:

A. 某公司领导成员全体到会向新职工介绍公司发展前景

B. 某航空公司发生飞行员集体返航事件后, 很多乘客认为这些飞行员对乘客的安全不太负责任, 表示不再乘坐该航空公司的飞机

C. 李勇的亲戚朋友对他家购买的新房一致赞赏

D. 高山对本公司的某一决策发表不同意见

92. 企业社会责任: 指企业生产经营活动中在顾及企业自身利益的同时考虑社会利益, 承担社会义务, 满足社会要求。



下列属于企业社会职责的是:

- A.某市政府出巨资把某大型化工企业搬迁出市区,以减少城市污染,创建最佳人居环境
- B.台湾遭强台风袭击后,大陆某新兴企业在第一时间,向灾区捐资数十万人民币,并准备了上百套活动板房及时运往台湾受灾地区
- C.某企业为提高职员的业务能力,以便尽快拓展市场,不久前高薪聘请专家作各种专题讲座,大大开阔了职员的业务视野
- D.某企业在金融危机爆发后,通过大幅裁员来节约支出,同时要求被裁人员主动到社会相关部门登记,以便领取最低生活保障金

93.劳务派遣,是指由劳务派遣机构与派遣劳工订立劳动合同,由派遣劳工向要派企业给付劳务,劳动合同关系存在于劳务派遣机构与派遣劳工之间,但劳动力给付的事实则发生于派遣劳工与要派企业之间。

根据上述定义,下列属于劳务派遣的是:

- A.某甲通过市人才市场举办的招聘会找到了工作,与乙公司签订了为期一年的劳动合同
- B.某市对外服务有限公司通过招聘会与某甲签订了劳动合同,后又将某甲安排至乙公司工作
- C.某甲被某劳务派遣公司安排至某 IT 公司工作,双方约定,由该 IT 公司与某甲签订新的劳动合同并支付某甲的工资
- D.某农民工为甲市的某建筑公司打工,双方并未签订合同,该建筑公司按月付予农民工工资

94.彼得反转原理:一个员工的胜任与否,是由组织层级中的上司判定的。如果上司已到达不胜任的阶层,他或许会以制度的价值来评判部属。例如,他会注重员工是否遵守规范、整洁有礼等。因此,缺乏独立判断、只是服从而不作决定的职业性机械行为者会被认为是能胜任的工作者而获得晋升。

根据上述定义,下列符合彼得反转原理的是:

- A.总经理助手胡某被提升为副总经理之后,对工作力不从心,经常造成重大决策失误
- B.只会钻营的王局长非常赏识循规蹈矩、善于逢迎的科员小李,对他进行了破格提升
- C.小张因为为人勤奋热情,严格遵守公司规范,得到上司赏识,职位得到迅速地升高
- D.新上任的董事长有某名牌大学的 MBA 学位,但是董事会很快发现他不能胜任其工作

95.抢劫罪,是以非法占有为目的,对财物的所有人或者保管人当场使用暴力、胁迫或者其他方法,强行将公私财物抢走的行为。

以下各项中,属于抢劫罪的一项是:

- A.李某潜入王某家中行窃,被发现后携所窃赃物逃跑,王某紧追不舍。李某见杂货店旁有一辆未熄火摩托车,车主正站在车旁边吸烟,便骑上摩托车
- B.郑某骑摩托车见田某提着精致皮包行走,从背后用力拉皮包带,试图将皮包抢走。田某拽住皮包带不放,见此情景,郑某突然对摩托车加速,并用力猛拉皮包带抢走皮包,田某当即被摔成重伤
- C.某晚,马某在大街上见赵某一人行走,即起歹意,将其奸污,并将显示其身份的皮包等物带走
- D.林某潜入胡某家中盗窃贵重物品,被主人发现后逃走,躲在农民家的草垛里睡了一晚。

第二天村长高某路过时,发现林某行踪诡秘,林某以为高某发现了自己昨晚的盗窃行为,对高某进行攻击,致其重伤

96.反暗示效应,是指在有一定心理对抗的情况下,用夸张或者激将的间接方法影响别人的行为,产生相反结果的效应。一般是通过说反语或过分夸大,以诱导别人达到自己想要的结果或者发生想得到的事件为目的。

根据上述定义,下列不属于反暗示效应的一项是:

- A.痛失街亭之后,诸葛亮临危不乱,上演空城计使司马懿退兵
- B.街边摆摊卖化妆品的小贩把其产品的功能吹得神乎其神,结果几乎无人购买
- C.制片方在某恐怖片上映前宣称“胆小者和心脏病患者不宜观看”,但上映后座无虚席
- D.王先生教育儿子小王好好读书,不要天天玩网游,然而小王对他的教诲置若罔闻

97.酝酿效应是指当一个人长时间致力于解决某一个问题而又百思不得其解时,如果他暂时停下来去做别的事情,一段时间之后,他可能会忽然想到解决的办法。

下列属于酝酿效应的是:

- A.小王找某份文件一时没有找到,过了两个小时后他发现了那份文件
- B.晓峰写毕业论文遇到困难,几天后他参加学术会议时得到很多相关信息,回来后茅塞顿开,理清了思路
- C.某修理人员在修理电视时查阅了大量线路图,终于修好了电视
- D.某研究人员申请了一个项目迟迟没有得到有关部门的批复,他转而研究别的课题,几个月后该项目得到了批准

98.斯德哥尔摩综合症是指被害者被犯罪者控制一段时间后,对犯罪者产生情感,甚至反过来帮助犯罪者的一种情绪。

根据上述定义,下列表述不属于斯德哥尔摩综合症的是:

- A.某银行职员被歹徒劫持数日,获救后在歹徒服刑期间与其订婚
- B.某甲入户行窃时被主人乙发现,甲持刀威胁乙并逼问其银行卡密码,在对峙中甲被乙制服。乙得知甲因急需大笔钱给母亲治病后深感同情,放走甲并给其一笔钱
- C.某年轻姑娘被绑架数年,受尽虐待,侥幸逃离后却不愿报案,并一直和绑架者保持联系
- D.甲男以找工作为诱饵,将乙女骗至家乡。乙女几次试图逃脱都未成功,在生了孩子后便安心在当地生活,并协助甲男从事拐卖人口的活动

99.价格竞争是通过降价来使顾客花更少的钱却得到同样满足的一种竞争。非价格竞争,即价值竞争,就是为顾客提供更好、更有特色,或者更能适合各自需求的产品和服务的一种竞争。

根据上述定义,下列不属于非价格竞争策略的一项是:

- A.加强品牌建设
- B.压缩生产成本
- C.进行产品创新
- D.提供个性服务

100.微观营销,是指企业必须研究消费者的特点,根据消费者的需求生产、销售产品和服务,使自己的产品、服务和营销方案与地理、人口、心理和行为因素相适应。

根据上述定义,下列一定属于微观营销的是:

- A.某百年老字号烤鸭店生意一直非常红火,其新口味烤鸭一推出来就备受顾客好评
- B.某饮料公司根据各地人的口味偏好制造产品,有针对性地进行广告宣传,大获成功

- C.某名牌化妆品经常引领时尚,其新研制出的高级香水限量版一上市就被抢购一空  
D.某家电企业为顾客提供优质的售后服务,获得了良好的口碑,销售额不断上升

三、类比推理。每道题先给出一组相关的词,要求你在备选答案中找出一组与之在逻辑关系上最为贴近、相似或匹配的词。

请开始答题:

101.梅花:坚强

- A.大海:理想      B.牡丹:富贵      C.老鼠:奸诈      D.狗:忠诚

102.军官:上校

- A.教师:教授      B.警察:狱警      C.经理:总裁      D.红酒:葡萄酒

103.新闻:采访

- A.特技:特效      B.电影:剪辑      C.图像:播放      D.成绩:考试

104.水杯:透明:光线

- A.学生:勤奋:成绩      B.道路:畅通:交警  
C.身体:健康:疾病      D.植物:观赏:绿叶

105.二胡:提琴:弦乐

- A.水杉:兔子:生物      B.MP3:MP4:电器  
C.汽车:自行车:机器      D.铅笔:钢笔:笔

106.游子:思念:家乡

- A.政府:制定:法律      B.法庭:审理:案件  
C.农民:耕种:庄稼      D.老人:回忆:往事

107.传递:信息:网络

- A.搜索:结果:百度      B.运输:货物:卡车  
C.编织:毛衣:毛线      D.书写:汉字:毛笔

108.恐惧 对于 ( ) 相当于 虚弱 对于 ( )

- A.希望 强壮      B.勇气 力量  
C.奴役 鄙夷      D.害怕 无奈

109.( ) 对于 岛屿 相当于 陆地 对于 ( )

- A.海洋 湖泊      B.荒凉 辽阔  
C.山岗 海洋      D.海洋 泰山

110.电视 对于 ( ) 相当于 ( ) 对于 变质

- A.节目 饮料      B.转播 发霉  
C.损坏 水果      D.故障 过期

四、逻辑判断。每道题给出一段陈述,这段陈述被假设是正确的,不容置疑的。要求你根据这段陈述,选择一个答案。注意:正确的答案应与所给的陈述相符合,不需要任何附加说明即可以从陈述中直接推出。

请开始答题:

111.缺少睡眠已经成为影响公共安全的一大隐患。交通部的调查显示,有 37%的人说他们

曾在方向盘后面打盹或睡着了。因疲劳驾驶而导致的交通事故大约是酒后驾车所导致的交通事故的 1.5 倍。因此,我们今天需要做的不是加重对酒后驾车的惩罚力度,而是制定与驾驶者睡眠相关的法律。

如果以下陈述为真,哪一项对上述论证的削弱程度最小?

- A.目前,世界上没有任何一个国家制定了与驾驶者睡眠相关的法律
- B.目前,人们还没有找到能够判定疲劳驾驶的科学标准和法定标准
- C.酒后驾车导致的死亡人数与疲劳驾驶导致的死亡人数几乎持平
- D.加重对酒后驾车的惩罚与制定关于驾驶者睡眠的法律同等重要

112.父母不可能整天与他们的未成年孩子呆在一起。即使他们能够这样做,他们也并不总是能够阻止他们的孩子去做可能伤害他人或损坏他人财产的事情。因此,父母不能因为他们的未成年孩子所犯的过错而受到指责或惩罚。

如果以下一般原则成立,哪一项最有助于支持上面论述中的结论?

- A.人们只应该对那些他们能够加以控制的行为承担责任
- B.在司法审判体系中,应该像对待成年人一样对待未成年人
- C.未成年孩子所从事的所有活动都应该受到成年人的监管
- D.父母有责任教育他们的未成年孩子去分辨对错

113.有关数据显示,从 2005 年以来,广东高校毕业生自主创业的数量约占当年高校毕业生的 1%-2%。以 2008 年为例,应届高校毕业生中选择自主创业的仅占 1.2%,而在西方发达国家,这个数字为 20%-30%。由此看来,西方发达国家的大学生更具有创业才能。

以下哪一项正确,最能对上述结论构成质疑?

- A.中国关于鼓励高校毕业生创业的政策较少,创业环境不佳
- B.中国高校毕业生的绝对数量比西方发达国家多
- C.西方发达国家大学生创业成功率不比中国大学生高
- D.西方发达国家的大学生更喜欢挑战自我

114.成品油生产商的利润很大程度上受国际市场原油价格的影响,因为大部分原油是按国际市场价购进的。近年来,随着国际原油市场价格的不断提高,成品油生产商的运营成本大幅度增加,但某国成品油生产商的利润并没有减少,反而增加了。

以下哪项如果为真,最有助于解释上述看似矛盾的现象?

- A.原油成本只占成品油生产商运营成本的一半
- B.该国成品油价格根据市场供需确定,随着国际原油市场价格的上涨,该国政府为成品油生产商提供相应的补助

C.在国际原油市场价格不断上涨期间,该国成品油生产商降低了个别高薪雇员的工资

D.该国成品油生产商的原油有一部分来自国内,这部分受国际市场价格波动影响较小

115.在本年度篮球联赛中,长江队主教练发现,黄河队五名主力队员之间的上场配置有如下规律:

- 1.若甲上场,则乙也要上场;
  - 2.只有甲不上场,丙才不上场;
  - 3.要么丙不上场,要么乙和戊中有人不上场。
- 若乙不上场,则以下哪项配置合乎上述规律?

- A.甲、丙、丁同时上场                      B.丙不上场,丁、戊同时上场  
C.甲不上场,丙、丁都上场                  D.甲、丁都上场,戊不上场

116.两组学生,其中一组参加了古文训练班,另一组没有参加。在语文考试中,参加过古文训练班的学生比那些没有参加过的学生的平均分数高很多,因此,要想让学生在语文考试中的成绩提高,就必须让他们参加古文训练班。

下列是上述论证依赖的假设是:

- A.很多学生参加了古文训练班  
B.学生的父母应该教给学生一些古文知识  
C.语文成绩的提高与参加古文训练班没有必然的联系  
D.只有参加古文训练才能够提高语文成绩

117.2005 年打捞公司在南川岛海域调查沉船时意外发现一艘载有中国瓷器的古代沉船,该沉船位于海底的沉积层上。据调查,南川岛海底沉积层在公元 1000 年形成,因此,水下考古人员认为,此沉船不可能是公元 850 年开往南川岛的“征服号”沉船。

以下哪项如果为真,最严重地弱化上述论证?

- A.历史学家发现,“征服号”既未到达其目的地,也未返回其出发的港口  
B.通过碳素技术测定,在南海沉积层发现的沉船是在公元 800 年建造的  
C.公元 700-900 年间某些失传的中国瓷器在南川岛海底沉船中发现  
D.在南川岛海底沉积层发现的沉船可能是搁在海底礁盘数百年后才落到沉积层上的

118.某国采用了一种新方法测试献血者是否携带 NANB 肝炎病毒。在实施这种方法前估计因此将被淘汰的 NANB 病毒携带者将占整个报名献血者的 5%。实际结果显示,仍然有三分之二的携带 NANB 病毒的报名献血者通过测试而献了血,他们占实际献血人数的 10%。

由此可以推出,( )。

- A.NANB 病毒的测定是国际范围内医学界的难题  
B.实施测试方法前对被淘汰的 NANB 病毒携带者数量百分比的估计偏高  
C.实施测试方法前对被淘汰的 NANB 病毒携带者数量百分比的估计偏低  
D.实施测试方法前对被淘汰的 NANB 病毒携带者数量百分比的估计非常准确

119.有人从一手纸牌中选定一张牌,他把这张牌的花色告诉 X 先生,而把点数告诉了 Y 先生。两位先生都知道这手纸牌是:黑桃 J、8、4、2;红心 A、Q、4;方块 A、5;草花 K、Q、5、4。X 先生和 Y 先生都很精通逻辑,很善于推理。他们之间有对话如下:Y 先生:我不知道这张牌。X 先生:我知道你不知道这张牌。Y 先生:现在我知道这张牌了。X 先生:现在我也知道了。

根据以上对话,你能推测出这是下面哪一张牌?

- A.方块 A              B.红心 Q              C.黑桃 4              D.方块 5

120.某大公司的会计部经理要求总经理批准一项改革计划。

会计部经理:我打算把本公司会计核算所使用的良友财务软件更换为智达财务软件。

总经理:良友软件不是一直用得很好吗,为什么要换?

会计部经理:主要是想降低员工成本。我拿到了一个会计公会的统计,在新雇员的财会软件培训成本上,智达软件要比良友低 28%。

总经理:我认为你这个理由并不充分,你们完全可以聘请原本就会使用良友财务软件的雇员嘛。

以下哪项如果为真,最能削弱总经理的反驳?

- A.现在公司的所有雇员都曾经被要求参加良友财务软件的培训
- B.当一个雇员掌握了财务会计软件的使用技能后,他们就开始不断地更换雇主
- C.有会计软件使用经验的雇员通常比没有太多经验的雇员要求更高的工资
- D.智达财务软件的升级换代费用可能会比良友财务软件升级的费用高

※※※第四部分结束,请继续做第五部分!※※※

### 第五部分 资料分析

(共 15 题,参考时限 15 分钟)

所给出的图、表、文字或综合型资料均有若干个问题要你回答。你应根据资料提供的信息进行分析、比较、计算和判断处理。

请开始答题:

一、根据以下资料,回答 121~125 题。

#### 2008 年北京市规模以上工业增加值

单位:万元

	2008 年 12 月	同比增长(%)	2008 年 1-12 月	同比增长(%)
煤炭开采和洗选业	41982	-25.7	567671	-9.7
石油和天然气开采业	105472	670.6	433783	207.5
黑色金属矿采选业	14251	49.1	218494	4.1
非金属矿采选业	1175	-22.0	9835	-16.2
农副食品加工业	19310	-4.8	219565	-2.4
食品制造业	34075	-13.0	376899	-3.5
饮料制造业	32386	2.8	372527	5.0
烟草制品业	9696	0.9	206885	16.5
纺织业	16688	-23.1	154549	-11.8
纺织服装、鞋帽制造业	28678	4.2	264199	2.9
皮革、毛皮、羽毛(绒)及其制品业	981	-10.4	10922	5.7
木材加工及木、竹、藤、棕、草制品业	1412	-37.9	19584	-20.1
家具制造业	8703	-20.4	92419	-1.5
造纸及纸制品业	12401	-11.2	151233	4.5
印刷业和记录媒介的复制	36350	-0.6	358931	7.6
文教体育用品制造业	3557	-10.5	36400	-1.2
石油加工、炼焦及核燃料加工业	33595	-21.2	468365	9.8
化学原料及化学制品制造业	75628	-4.7	1158814	-3.7
医药制造业	91132	25.3	932648	17.0
化学纤维制造业	781	-21.9	11055	-1.4

121.2007 年 1-12 月规模以上工业中,文教体育用品制造业的增加值是:

A.3557 万元      B.3974.3 万元      C.36842 万元      D.37528 万元

122.2008 年 12 月北京市规模以上工业中,增加值同比下降的行业有:

A.6 个      B.9 个      C.11 个      D.14 个

123.下列行业中,2008 年 1-12 月规模以上工业中增加值与上年同期相比相差最大的是:

A.纺织业      B.家具制造业

C.煤炭开采和洗选业      D.医药制造业

124.2007 年 12 月黑色金属矿采选业增加值占全年的比重为:

A.3.8%      B.4.6%      C.5.7%      D.6.5%

125.下列陈述可以从资料得出的是:

A.2008 年 1-12 月规模以上工业中,农副食品加工业增加值的下降幅度比化学原料及化学制品制造业增加值的下降幅度大

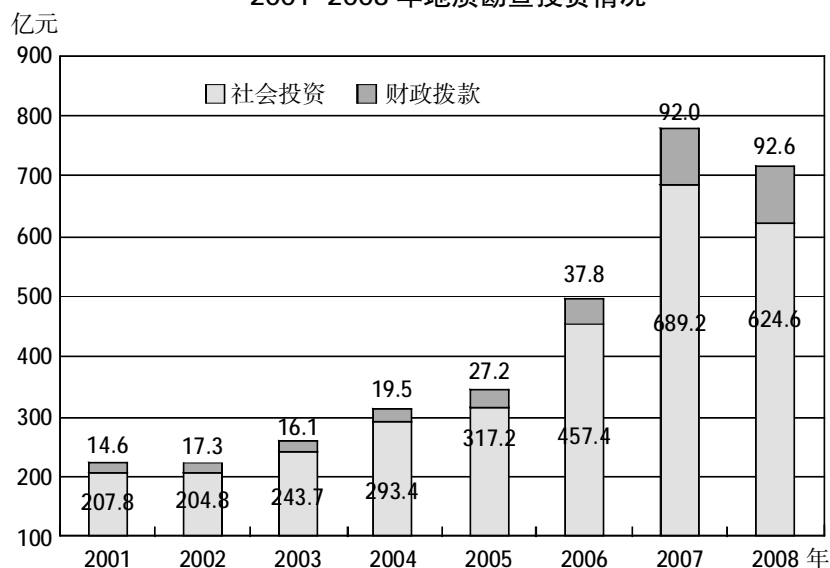
B.2007 年 12 月北京市规模以上工业中,石油和天然气开采业增加值最大

C.2007 年 1-12 月北京市规模以上工业中,造纸及纸制品业增加值约是 13965 万元

D.2007 年 1-12 月规模以上工业中,饮料制造业增加值小于食品制造业的增加值

二、根据以下资料,回答 126~130 题。

2001-2008 年地质勘查投资情况



126.2001-2008 年,财政拨款用于地质勘查投资的增长幅度最大的是:

A.2002 年      B.2004 年      C.2005 年      D.2008 年

127.若按照 2005 年的增长率来计算,2010 年的社会投资用于地质勘查投资的资金约是:

A.730 亿美元      B.765 亿美元      C.640 亿美元      D.688 亿美元

128.用于地质勘查投资的资金最多的一年比最小的一年多出:

A.152%      B.225%      C.252%      D.352%

129.2001-2008 年,社会投资用于地质勘查投资的资金平均每年约增加( )亿美元。

A.52.1      B.59.5      C.72.9      D.416.8

130. 下列说法正确的是:

A. 这八年来, 财政拨款用于地质勘查投资资金逐年上升

B. 与 2003 年相比, 2007 年社会投资用于地质勘查投资的比重增加了

C. 社会投资用于地质勘查投资的增长幅度从 2001-2007 年一直高于财政拨款的增长幅度

D. 2004 年财政拨款用于地质勘查的投资比 2002 年增长了约 12.7%

三、根据以下资料, 回答 131~135 题。

2009 年前三个季度, 我国规模以上电子信息制造业扭转了上半年下滑的势头, 但比去年同期增速下降 10 个百分点以上。重点产品增长面逐步扩大。9 月, 重点监测的 27 个产品中, 14 个产品产量出现正增长, 比上半年多了 3 个产品; 其中计算机、显示器、彩电、数码相机继续保持增长, 手机、集成电路扭转上个月下降的势头, 分别增长 2.4%、4.7%。1~8 月, 规模以上电子信息制造业实现主营业务收入 29618 亿元, 同比下降 4.8%, 实现利润 892 亿元, 同比下降 21.5%, 二者降幅分别比 1~5 月缩小 3.7、19.5 个百分点。电子信息 11 个行业中实现利润增长的行业扩大为 4 个, 其中通信设备、视听产品行业分别增长 28.1%、6.4%, 计算机、电子元件行业分别下降 35.5%、29.4%, 电子器件行业扭亏为盈, 实现利润 35 亿元。2009 年 1~9 月, 我国规模以上电子信息制造业完成出口交货值 20329 亿元, 同比下降 10.6%。1~9 月全行业实现出口交货值占销售产值的比重为 57.6%, 比去年同期回落 5.7 个百分点。1~9 月, 电子信息产业 500 万元以上项目完成固定资产投资 2808 亿元, 同比增长 17.2%, 增速低于去年同期 12.1 个百分点, 低于同期全国制造业增速 11.5 个百分点。

131. 2008 年 1~9 月, 规模以上电子信息制造业出口交货值约为:

A. 20329 亿元      B. 22061 亿元      C. 22739 亿元      D. 31223 亿元

132. 2009 年 1~8 月, 规模以上电子信息制造业主营业务收入利润率约为:

A. 2%      B. 3%      C. 4%      D. 5%

133. 2008 年 1~9 月, 电子信息产业 500 万元以上项目完成固定资产投资额约为:

A. 2396 亿元      B. 2502 亿元      C. 2618 亿元      D. 2808 亿元

134. 2008 年 1~9 月, 电子信息制造业全行业实现销售产值约为:

A. 33109 亿元      B. 35923 亿元      C. 37988 亿元      D. 40276 亿元

135. 根据以上资料, 无法推出的是:

A. 2009 年上半年, 在规模以上电子信息制造业重点监测的 27 个产品中有 11 个产品产量出现正增长

B. 2009 年 1~9 月, 电子信息产业 500 万元以上项目的固定资产投资同比增长超过 10%, 但增速低于去年同期

C. 2009 年 1~8 月, 电子器件行业的利润超过 30 亿元

D. 2009 年前三季度, 在规模以上电子信息制造业重点监测的产品中仅计算机、显示器和彩电保持增长

※※※全部测验到此结束! ※※※