
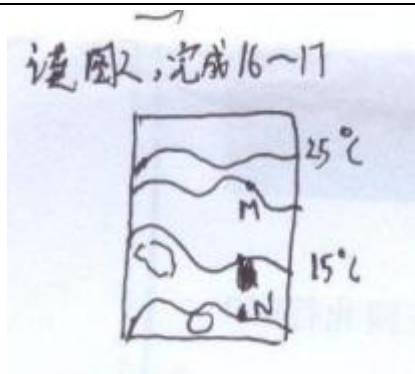


2010 年河北省政法干警考试文综真题

- 1、二里头文化发现于今天的（ ）
- 2、东汉建立后出现光武中兴的局面，当时的皇帝是（ ）
- 3、唐代农民改进的耕地工具是（ ）
- 4、我国古代废除人头税的赋税制度是（ ）
- 5、第二次鸦片战争中，增开汉口、九江、南京、镇江等十处为通商口岸的不平等条约是（ ）
- 6、甲午中日战争中，英勇牺牲的经远舰管带是（ ）
- 7、戊戌变法期间，康有为、梁启超创办的进步刊物是（ ）
- 8、20 世纪 60 年代，成为我国最大的石油基地的是（ ）
- 9、在开辟新航路的过程中，由欧洲向东绕过非洲达到亚洲的是（ ）
- 10、1867 年美国从以下哪个国家购得了阿玛斯加？
- 11、第二次世界大战中开辟欧洲第二战场的战役是（ ）
- 12、冷战爆发后，为复兴欧洲经济美国提出（ ）



- 13、地球绕太阳公转到 N 位置，下列现象有可能出现的是
A、南极大陆为极昼 B、地中海沿岸地区多雨 C、塔里木河为汛期 D、印度半岛盛行东北风
- 14、地球绕太阳公转到 M 位置，大约是
A、1 月初
B、3 月
C、7 月
D、9 月
- 15、全球荒漠化地区的主要气候类型是（ ）




16、M处与N处之间的温差是

- A、5
- B、10
- C、15
- D、20

17、在澳大利亚东海岸，等温线向南弯曲是由于

- A、暖流的影响
- B、寒流的影响
- C、有大河注入
- D、信风的影响



18、根据图中信息判断，与死海相比，贝加尔湖

- A、面积大
- B、海拔低
- C、深度小
- D、盐度高

19、死海位于贝加尔湖的（ ）方向、

20、台湾岛西岸布袋盐场形成的条件是

- A、附近海水盐度大

- B、气候干旱
- C、多岩石海岸、透水性差
- D、地势平坦、晴天多
- 21、预防滑坡的工程措施是
- A、迁移居民
- B、修建水库
- C、建立监测网络
- D、砌石护面，设置排水沟
- 22、我国煤炭资源储量位于前两位的省级行政区是
- A、四川省、贵州省
- B、新疆维吾尔自治区、湖南省
- C、江苏省、河北省
- D、山西省、内蒙古自治区
- 23、中国制造的常规消费品拥有巨大国际市场的主要原因是
- A、制造业科技含量高
- B、劳动力数量充足，成本低
- C、自有国际知名品牌众多
- D、在海外拥有众多生产基地
- 24、爱因斯坦提出的想象力比知识更重要，因为知识是有限的，而想象力概括着世界的一切，推动着进步，并且是知识进化的源泉，这表明想象力
- A、是知识的根本源泉
- B、可以直接把握事物的本质规律
- C、是知识创新的基础
- D、可以启发人们把握事物的本质规律
- 25、2009年11月，农业部颁布了两种转基因水稻，一种转基因玉米的安全证书。此举引发了对转基因食品安全的讨论，这一讨论从一个侧面表明
- A、实践检验认识的真理性的过程是一个曲折的过程
- B、实践不可能检验诸如转基因食品安全性的认识的真理性的过程
- C、人的认识未经实践验证就没有价值

D、存在重大争议的认识不可能是真理

26、“只有音乐才能激起人的音乐感；对于没有音乐感的耳朵来说，最美的音乐也毫无意义。”从价值论上看，这个论断表明事物的价值

- A、是由事物本身的属性决定的
- B、是由主体需要的满足决定的
- C、是主客体相互作用的结果
- D、是相对的，没有客观性

27、西方管理心理学中有一条著名的“苛希纳定律”：在管理中，如果实际管理人员比最佳人数多两倍，工作时间就要多两倍，工作成本就多四倍；如果实际管理人员比最佳人数多三倍，工作时间就要多三倍，工作成本就多六倍。因此，在管理上并非人多就好，合适的人数才能收到最好的效果。“苛希纳定律”说明，在经济社会生活中①量变决定事物的性质和发展方向②量变引起质变的条件是客观的③量变引起质变需要发挥人的主观能动性④量变引起质变的形式是多样的

- A、①②
- B、②③
- C、①④
- D、③④

28、我国社会主义市场经济宏观调控的手段有

- A、经济手段、行政手段、法律手段
- B、经济手段、行政手段、计划手段
- C、行政手段、法律手段、市场手段
- D、法律手段、市场手段、计划手段

29、某产品上市后因质量原因而卖不出去，导致生产企业严重损失。从商品二重性的角度去审视，这是因为

- A、该产品不符合市场需要
- B、价值与使用价值的背离使该产品不能成为商品
- C、该产品有价值无使用价值
- D、有交换价值无使用价值

30、在市场经济中，政府往往采用货币政策和财政政策来调控经济。下列措施中，属于货币政策的是

- A、央行降低基准利率
- B、财政部发行长期国债
- C、财政部给企业提供补贴
- D、商业银行提高住房贷款利率

31、中国共产党领导的多党合作与政治协商制度是我国一项基本政治制度，遵守宪法和法律是多党合作的根本活动准则。这一准则包括①各民主党派与共产党一样，得到宪法的承认和保护②各民主党派法律地位平等③各政党在政治生活中地位平等④各民主党派坚持中国共产党的领导

- A、①②
- B、①④
- C、②③
- D、③④

32、科学发展观的第一要义是

- A、发展
- B、以人为本
- C、统筹兼顾
- D、全面、协调、可持续

33、下列属于基层群众自治组织的是

- A、业主委员会
- B、消协
- C、居委会
- D、乡镇人民政府

34、2009 年 11 月，成立的经济区时

- A、上海浦东新区
- B、天津滨海新区
- C、海南
- D、重庆

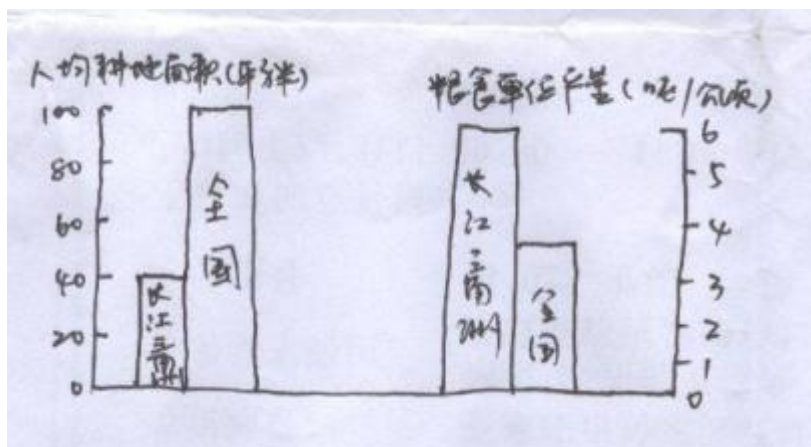
35、除俄罗斯和巴西外，金砖四国还有

- A、中国、伊朗
- B、中国、南非
- C、中国、印度
- D、南非、印度

36. 简述唐朝安史之乱的原因、经过和影响。

37. 简要述评斯大林时期的苏联社会主义工业化。

39.



(1) 长江三角洲地区人均耕地面积约是全国水平的____%

(2) 长江三角洲地区的粮食单位面积产量是____吨/公顷，全国平均是____吨/公顷。

(3) 长江三角洲地区粮食单产远高于全国平均水平的主要原因是____、____。

40、2010 年 2 月，胡锦涛主席在省级干部落实科学发展观研讨班上讲话指出，加快经济发展方式转变是我国经济领域的一场深刻变革，关系改革开放和社会主义现代化建设全局。

简要说明我国经济发展方式应实现怎样的转变。

41、地摊经营活动是我国城市传统生活的组成部分，它不但以其廉价、便捷的商品服务满足普通百姓的生活需要，活跃城市交流，而且还因为低成本经营丰富了市场活动，拓宽了普通群众的就业渠道。但是，地摊经营活动也因存在环境污染，

影响交通和市容市貌、不文明经营等问题而遭到许多居民的批评和反对。许多地方为了树立现代化城市形象、追求城市的洁净、整齐，出台管理办法禁止商贩的地摊经营活动，由此引发了一些城市管理人员与商贩的冲突。

(1) 运用政治常识，说明政府应当如何对待地摊经营活动。

(2) 为了构建城市管理人员、商贩、居民之间的和谐关系，运用社会主义价值观说明应当如何认识和妥善处理各方的利益。