

行政职业能力测验标准预测试卷（一）

第一部分 数量关系

本部分包括两种类型的试题：

一、数字推理：给你一个数列，但其中缺少一项，要求你仔细观察数列的排列规律，然后从四个供选择的选项中选择你认为最合理的一项，来填补空缺项，使之符合原数列的排列规律。

请开始答题：

1. 1, $-\frac{1}{2}$, $\frac{1}{3}$, $-\frac{1}{4}$, $\frac{1}{5}$, ()
A. $-\frac{1}{6}$ B. $\frac{1}{8}$ C. $\frac{1}{7}$ D. $\frac{1}{6}$
2. $\frac{3}{2}$, $\frac{5}{4}$, $\frac{9}{8}$, $\frac{11}{10}$, ()
A. $\frac{13}{12}$ B. $\frac{12}{11}$ C. $\frac{14}{13}$ D. $\frac{15}{14}$
3. 2.1, 3.2, 4.3, 5.4, ()
A. 4.5 B. 6.5 C. 3.5 D. 5.6
4. 11, 13, 17, 19, ()
A. 23 B. 29 C. 21 D. 27
5. 1, 4, (), 10, 13
A. 7 B. 9 C. 8 D. 6

二、数学运算：你可以在草稿纸上运算。遇到难题，可以跳过暂时不做，待你有时间再返回解决它。

请开始答题：

6. 将某两位数的个位与十位上的数字第换，所得的数是原来的数是原来的 $\frac{1}{10}$ ，刚此两位数是 ()。
A. 10 B. 12 C. 13 D. 11
7. 小周、小李、小方的工资比数是 3: 4: 5，小李工资是 300，则小周与小方工资分别是多少？ ()
A. 230、280 B. 225、375
C. 220、370 D. 240、290
8. 在比例尺为 1: 100000 的地图上两地的距离为 113.8cm，则两地水平距离的公司数是（保留两位有效数字） ()
A. 120 B. 110 C. 11 D. 12
9. 甲、乙两数的和是 456，甲数末位数是 5，如果把这个 5 去掉就和乙数相等，甲数是多少？ ()
A. 155 B. 415 C. 355 D. 215
10. $25 \times 22 \times 32 \times 42 \times 52$ 的值为 ()
A. 5640 B. 1440 C. 14400 D. 16200
11. 黄、白、蓝三个球，从左到右顺次排序，有几种排法？ ()
A. 4 B. 6 C. 8 D. 10
12. 一家 3 口人，3 人年龄之各是 74，妈妈比爸爸小 2 岁，妈妈的年龄是儿子的四倍，爸爸今年多少岁？ ()
A. 36 B. 34 C. 40 D. 38
13. 青蛙在进底向上爬，进深 10 米，青蛙每次跳上 5 米，又滑下来 4 米，像这样青蛙需跳几次方可出进？ ()
A. 5 次 B. 10 次 C. 6 次 D. 9 次

14. $9876 \times 7 - 9877 \times 76$ 的值为 ()
- A. 9877 B. 8776 C. 9801 D. 9800
15. 分针走 100 圈时, 时针走多少圈? ()
- A. 1 B. 2 C. $\frac{5}{3}$ D. $\frac{3}{4}$

第一部分结束, 请继续做第二部分!

第二部分 判断推理

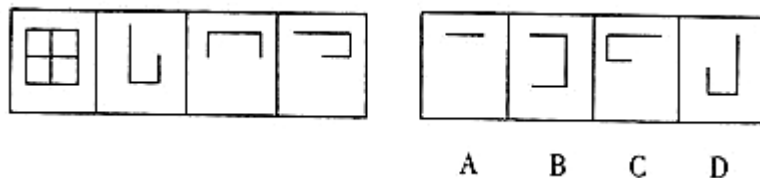
(共 35 题, 参考时限 35 分钟)

一、图形推理: 本部分包括两种类型的题目, 共 10 题。

1. 第道题目的左边 4 个图形呈现一定的规律性。你需要在右边所给出的备选答案中选出一个最合理的答案。每道题只有一个正确答案。

请开始答题:

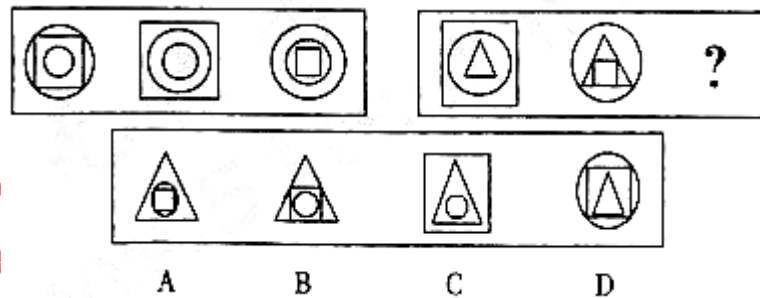
16.



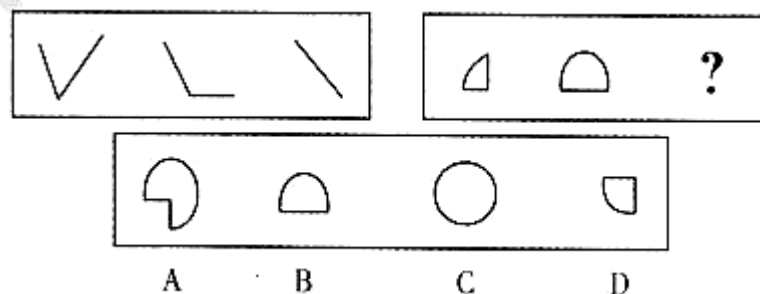
2. 每道题包含两套图形和可供选择的 4 个图形。这两套图形具有某种相似性, 也存在某种差异。要示你从四个选项中选择你认为最适合取代问号的一个。正确的答案应不仅使两套图形青现出量大的相似性, 而且使第二套图形也表现出自己的特征。

请开始答题:

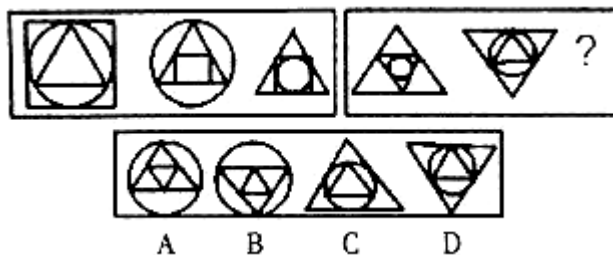
17.



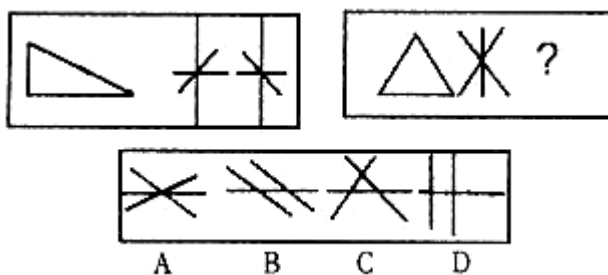
18.



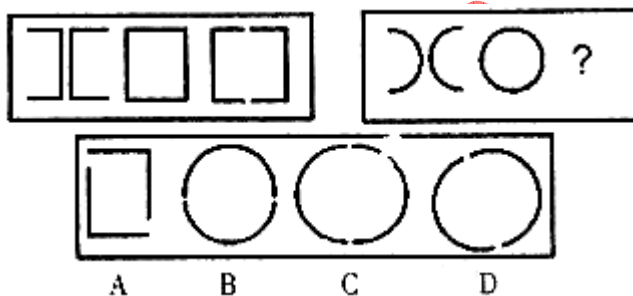
19.



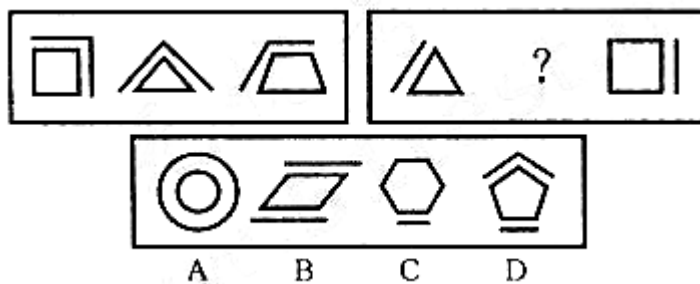
20.



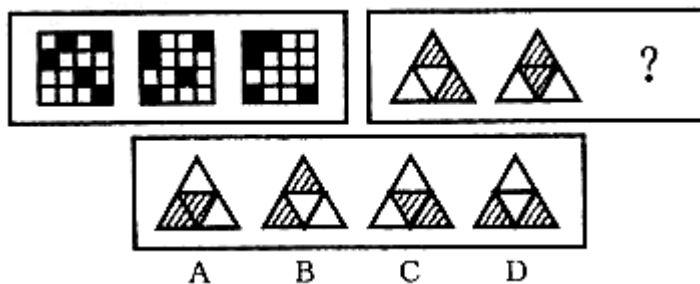
21.



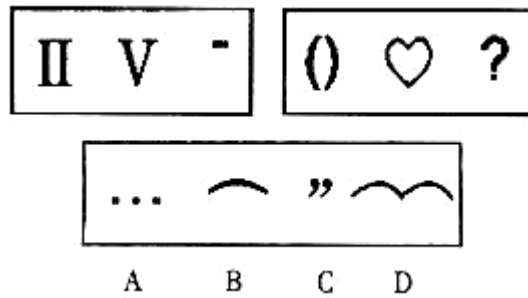
22.



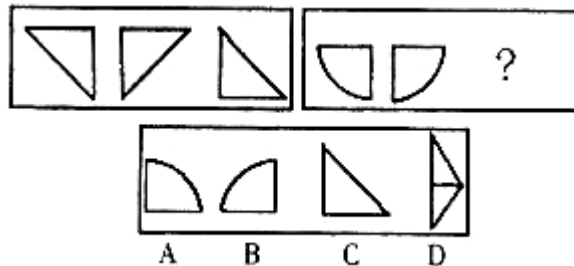
23.



24.



25.



二、演绎推理：共 15 题，每题给出一段陈述，这段陈述被假设是正确的，不容置疑的。要求你根据这段陈述，选择一个答案。注意，正确的答案与所给的陈述相符合，不需要任何附加说明即可以从陈述中直接推出。

请开始答题：

26. 过去人们认为知识就是力量，大多数教师只传授具体知识，教师讲，学生听，学生被动地接受知识。新的教育观念认为，学生必须掌握独立探索新知的方法，获得不断深造的能力；具有与集体合作的品质，与他人合作解决问题的社交能力；具备自如表达思想的能力等等。这意味着（ ）。

- A. 旧的传统教育观念不教授学生方法
- B. 知识本身并没有多大的力量
- C. 掌握方法比掌握知识更重要
- D. 新、旧两种教育观念是彼此矛盾、互不相容的

27. 中国的高速公路上有一种很有特色的建筑——收费站，从河北石家庄到北京一路上要碰到不下十几处收费站，这不仅给人一种随意设卡乱收费的犯象，更为重要的是严重影响了车速，造成高速不速。因此（ ）

- A. 撤掉收费站，高速路不收费
- B. 改革高速公路收费办法，保障公路畅通
- C. 大量修建高速公路，以避免堵车
- D. 发展航空事业

28. 要从代号为 A、B、C、D、E、F 的六个侦察员中挑选出若干人去破案，人选的配备要求，必须注意下列各点：

- ①A、B 两人至少去一个
- ②A、D 不能一起去
- ③A、E、F 三个中要派两人去
- ④B、C 两人中去一人
- ⑤C、D 两人中去一人

⑥若D不去,则E也不去

由此可见()

- A. 挑了A、B、C、F四人去
- B. 挑了A、B、F三人去
- C. 挑了B、C、D、E四人去
- D. 挑了B、C、E三人去

29. 健康素质只是脱贫致富自然的物质基础。而文化素质则是影响脱贫致富进程的关键性因素。如果物质上的脱贫不同时伴随着文化上及精神上的脱贫,那么真正意义上的脱贫致富将难以实现。可见()

- A. 治穷先要治愚
- B. 只要文化水平高,就可以赚大钱
- C. 今后扶贫款都要用在发展教育上
- D. 提高贫困人口的健康素质不重要

30. 人体不能缺乏少量的碘,缺了碘就会肿脖子,然而大量的碘对人来说却有毒,碘蒸气能够剧烈地刺激粘膜,会把人毒死,因此()

- A. 碘的害处极大
- B. 碘有万害无一利
- C. 适量的碘对人体是有益的
- D. 碘很稀少

31. 在世界范围内,常规能源逐渐减少,所以许多国家都在减少,或摆脱对进口能源的依赖,寻找新能源。由此可知()

- A. 能源是一个人类面临的紧迫的问题
- B. 新能源——核能的开发和利用将会受到越来越多的重视
- C. 常规能源的作用将逐渐减小
- D. 许多国家不再进口外国的能源

32. 只有在统治者不能照旧统治下去,人民群众也不能照旧生活下去的时候,革命才会发生。就一个人而言,选择革命或接受革命,也往往是别的路走不通之后,才“逼上梁山”的。由此可见()

- A. 任何次革命,都不是人为制造的结果
- B. 革命不需要领导力量也会成功
- C. 革命不需要动员,群众会自发参与
- D. 所有在个人生活中遇到挫折的人都会参加革命或支持革命

33. 在计算机语言中有一种逻辑运算,如果两个数同一位上都是0时,其和为0;一个为0、一个为1时或两个都是1时,其和为1。那么()

- A. 如果和为1,则两数必然都为1
- B. 如果和为0,则两数必然都为0
- C. 如果和为0,则两数中可能有一个为1
- D. 如果和为1,则两数中至少有一个为0

34. 根据婚姻法的规定:赠男女双方自愿离婚的,准予离婚。而某婚姻案件中并不是双方自愿离婚的。所以()

- A. 这个案件是不能判决离婚的
- B. 办有双方自愿离婚,法院才准予
- C. 如果法院认为离婚的理由充分,即使不是双方自愿,而是单方面要求,也将准予
- D. 只要有一方提出离婚,法院就将准予

35. 制度包含正式法律规则和非正式的风俗习惯两个方面。它是交易的结果,制度确立之后便形

成相对稳定的利益格局，从而产生制度惯性。在这种惯性中，风俗习惯的变迁与法律规则的变迁都比较缓慢。所以（ ）

- A. 制度的变迁是渐进的过程
- B. 制度形成后便不会发生变化
- C. 制度变迁是自发的
- D. 随着制度的完善，制度变迁就会越来越慢，甚至“终结”

36. 事物的发展，内因是根据，外因是条件，内因和外因同时具备才能使事物发生质的飞跃。因此下列不正确的是（ ）

- A. 石头是不可能孵出小鸡的
- B. 好人是不可能变坏的
- C. 学生在学习中，老师的教学是外因，自己的学习是内因
- D. 有鸡蛋还必须保证有适当的温度才能孵出小鸡

37. 某人开始时说：“你的这个意见很好，我想大家都会同意。”但是，他接着又说：“你的这个意见很好，我想没有准不会不同意的。”（ ）

- A. 该人同意这个意见
- B. 该人反对这个意见
- C. 大家都不反对这个意见
- D. 该人说话前后矛盾，无法判断大家的意思

38. 现在，有各种种样的地震预测，但至今还没有哪个国家能够极其准确地预报地震。这说明（ ）

- A. 地震是神秘的，不可捉摸的
- B. 地震变幻莫测，现有科技还无法精确预知其发生趋势
- C. 设备过于落后
- D. 人太傻

39. 一次，有人请一位作家指认他的著作中写得非常潦草的一段，他说：“我写这几句时，只有怀素和尚与我在一起，现在也只有他才知道。”作家的意思是（ ）

- A. 大部分人不能理解草书
- B. 怀素的草书古今无双
- C. 作家已忘记了这一段话的内容，难以识别自己的字迹
- D. 作家从不轻言创作过的东西

40. 改革开放之初，一些国产商品的商标全用一般百姓看不懂的外文，但销路却还不错。其原因在于（ ）

- A. 人们崇拜外国的先进和繁荣，对外国科技及产品抱有很大企望和幻想
- B. 当时来中国的外国人很多
- C. 商品是卖给发达国家的
- D. 包装出了错误

三、定义判断：共 10 题。每道题先给出一个概念的定义，然后分别列出四种情况，要求你严格依据定义从中选出一个最符合或最不符合该定义的答案。注意：假设这个定义是正确的，不容置疑的。

请开始题：

41. 行政实施是从行政决策一经形成或最后批准时起，行政机关及其工作人员贯彻决策、实施决策的全部活动或整个过程。

下列不属于行政实施的一项是（ ）

- A. 行政部门为推行一项决策，检查行政决策是否与有关法律法规相抵触

- B. 行政部门执行政策时遇上国庆，放假休息
C. 行政部门准备执行救灾措施所需要的经费和物资装备
D. 为推动群众爱卫护城自觉行动，县政府召开动员大会，发布动员令
42. 矿产资源是一批由地质作用形成的，具有利用价值的，呈固态、液态、气态的自然资源。以下哪此示是矿产资源？（ ）
A. 煤 B. 石油 C. 天然后 D. 埋于地下的木棺
43. 定金，是签订合同的一方当事人，为了证明合同的成立和担保合同的履行，依照法律规定或约定，在应该给付的款项内预先向另一方交付的一定金额。
根据上述定义，下面哪一种情况属于定金（ ）
A. 李某做钢材生意，这段时间钢材非常紧俏，物资公司还要求用现金去提货，而且交款的当时是取不到货的。这次他要购买 5 吨螺纹钢，按照定价他交了 14000 元，直到一个月以后，他才取到所需的钢材
B. 齐齐哈尔市的风华公司向内蒙古深达公司订购了 38 吨牛肉，难于收购到所需数量的牛肉，考虑到深达公司的实际情况，为了尽快把生意做成，风华公司给深达公司预先支付了 5 万元
C. 昌海公司与智明油厂签订了一份产销色拉油的合同，合同规定智明油厂应该在合同签订后 5 个月内给昌海公司 80 吨优质色拉油。在此期间，智明油厂发生了机械事故，致使该厂停产 2 个月。由于不能按期交货，智明油厂按合同规定给昌海公司赔款 3 万元
D. 安泰贸易公司的副总经理在一次订货会上与某印染厂签订了一份购销亚麻丝的合同，合同总额达 780 万元。根据双方的协定，印染厂应按合同金额的 20% 付安泰贸易公司 156 万元作为履行合同的诚意，但犯染厂资金非常紧张，一时拿不出这么多钱，东拼西凑地付了 100 万元
44. 固体废物污染是指因对固体废物的处置不当而使其进入环境，从而导致危害人体健康或财产安全，以及破坏生态系统，造成环境质量恶化的现象。
下列不属于固体废物污染的有（ ）
A. 甲工厂非法排污入汉江
B. 乙诊所没有按规定处理使用过的一次性注射器，而是随意丢于路边，被几个三岁小孩拾起，不慎划破手指感染
C. 铁路两边的白色一次性餐盒
D. 某高校物理实验室用过的轴，未埋好，被一拾破烂老发现，该人三星期后身亡
45. 劳动法律关系变更是指劳动者同用人单位依据劳动法律规范，变更其原来确定权利义务内容。根据以上定义，下列属于劳动法律关系变更的是（ ）
A. 某人因挪用公款被解职开除
B. 某人因工作表现出色，被提升为部门经理
C. 某大学生经过一轮轮的笔试、面试，为公司录用
D. 某人因合同到期离开公司
46. 法人，是指具有民事权利能力和民事行为能力，依法独立享有民事权利、承担民事义务的组织。法人需要具备四个条件：①法人必须依法成立；②法人必须有自主经营的财产；③法人必须有明确的组织机构、名称和场所；④法人必须能够独立地承担民事责任。
根据上述定义，下述哪一个属于法人？（ ）
A. 驻港部队
B. 国营百货大楼
C. 清华大学建筑系
D. 省高教自考办公室
47. 光年，指光在一年内所通过的距离，光年常用于天文学中表示距离远近。

根据以上定义，下述哪个概括是正确的（ ）

- A. 光年是时间单位
- B. 光年是光学方面的专业术语
- C. 光年是测算巨型天体面积的单位
- D. 光年是一个长度单位

48. 起诉，是指公民、法人或其他组织认为自己的民事权益受到他人的侵犯或者与他人发生争议，以自己的名义，请求人民法院依法审理，确认民事权利义务关系，制裁对方的民事违法行为，保护自己的合法权益的一种诉讼行为。

根据上述定义，下列情况属于起诉的是（ ）

- A. 某人因家中被盗而报告公安机关
- B. 某人因不服判决而向高级法院递交上诉状
- C. 某企业因对方不履行合同而将其告上法庭
- D. 被告因发现原告侵犯自己的权利而在诉讼过程中反诉原告

49. 环境噪声是指在工业生产、建筑施工、交通运输和社会生活中所产生的干扰周围生活环境的声音。

下列属于环境噪声的是（ ）

- A. 宁静公园中传来的京剧声
- B. 街面上音响店传来的流行歌曲声
- C. 半夜里校园中回荡的施工声
- D. 清晨楼下的读外语声

50. 社会竞争是指在人类生活中，个人或团体为了取得利用某种有限事物，以达到目的，不顾他方的努力，而发生彼此相互争夺的一种行动。

下列不属于社会竞争的一项是（ ）

- A. 人类在进化过程中，为争取基本生存权而进行战争
- B. 商品社会里，商人为了占得市场，花大量的钱做广告
- C. 无产阶级体育场的革命和斗争，主要是为了用社会主义制度取代资本主义制度
- D. 李明在家写求职信，为参加明天的招聘会

第二部分结束，请继续做第三部分！

第三部分 常识判断

（共 30 题，参考时限 20 分钟）

根据题目要求，在四个选项中选出一个正确答案。

请开始答题：

51. 政府职能转变的根本途径是（ ）

- A. 政企分开
- B. 精兵简政
- C. 科学管理
- D. 理顺关系

52. 权力机关对行政机关的监督不包括（ ）

- A. 政治监督
- B. 法律监督
- C. 对行政立法、行政执法、行政司法活动的监督

- D. 市场监督
53. 社会主义社会保持总需求与总供给之间的大体平衡是指（ ）
- A. 消费资料的总供给与生产单位对生产资料的总需求之间的平衡
B. 生产资料的总供给与生产资料的总需求之间的平衡
C. 社会总产品的价值量和实物量之间的平衡
D. 社会可供购买的商品总量与社会有支付能力购买的商品量之间的平衡
54. （ ）是特殊的民事主体
- A. 国家 B. 公民 C. 法人 D. 外国国籍的自然人
55. 下列人员中不属于第一顺序继承人的有（ ）
- A. 配偶 B. 兄弟姐妹 C. 子女 D. 父母
56. 行政处罚只能（ ）
- A. 对行政隶属关系的人实施
B. 由公司机关执行
C. 处罚公务员或公民个人，而不能处罚单位或组织
D. 是国家特定行政机关对违反行政法的个人或组织依法采取的惩罚情况
57. 贪污罪和挪用公款罪的区别在于（ ）
- A. 侵犯对象不尽相同。前者侵犯的公款和公物；而后者仅限于公款
B. 犯罪手段不同
C. 侵犯对象的最后归属不同
D. 犯罪主体不同
58. 会议纪要是一种会议文件，以下关于会议纪要的标题说法正确的是（ ）
- A. 标题需写明会议名称与文种
B. 标题需写明发文机关名称、事由与文种
C. 标题需写明会议名称、事由和文种
D. 可以利用一般文章标题的形式，在标题中简要明确地揭示中心思想
59. 六大高新技术领域中，被称为高新技术物质基础的一项技术是指（ ）
- A. 新能源技术 B. 新材料技术
C. 海洋技术 D. 信息技术
60. 行政行为所依据的规章或者具有普遍约束力的决定、命令、与法律、或者其他规章和具有普遍约束力的决定、命令相抵触时（ ）
- A. 无权予以变更和撤销
B. 一律都可以变更和撤销
C. 报上级行政机关同意后，可以变更和撤销
D. 可以在其职权范围内依法撤销或变更
61. 代位继承适用的范围是（ ）
- A. 遗嘱继承 B. 法定继承
C. 法定继承和遗嘱继承 D. 遗嘱扶养协议
62. 中华人民共和国的国家机构实行（ ）原则
- A. 首长负责制 B. 少数服从多数
C. 民主集中制 D. 议行合一
63. 国有企业改革的方向，是建立现代企业制度。根据产权清晰的要求，企业应该拥有（ ）
- A. 资产所有权 B. 经营自主权
C. 法人财产权 D. 得要决策权

64. “绿色革命”是以利用农作物高产良种为中心的一次新技术革命。它兴起于 20 世纪（ ）
A. 70 年代 B. 80 年代 C. 90 年代 D. 60 年代
65. “有中国特色的社会主义”是在（ ）提出的
A. 十二大 B. 十三大 C. 十一届三中全会 D. 十四大
66. 保护环境的目的（ ）
A. 减少污染 B. 维持生态平衡
C. 保护生物链 D. 美化人类居住环境
67. 我国国民经济自 1978 年以来发展得快，这期间之所以都能够保持长期的快速增长，其主要原因是（ ）
A. 发挥调拨机制作用与健全宏观调控体系相结合
B. 实施科教兴国战略和可持续发展战略
C. 积极推进社会主义精神文明建设
D. 坚持改革开放，解放和发展了生产力
68. （ ）是国家公务员制度的根据标志和特征
A. 考核培训 B. 公务回避
C. 职位分类 D. 考试录用
69. 《国家公务员暂行条例》的颁布日期是（ ）
A. 1993 年 8 月 14 日 B. 1993 年 10 月 1 日
C. 1994 年 8 月 14 日 D. 1994 年 10 月 1 日
70. 美国文官制度形成的标志是（ ）
A. 《文官制度改革法》的出台
B. 《文官制度法案》的出台
C. 《国家行政组织法》的出台
D. 《国家公务员法》的出台
71. 根据我国商标法的规定（ ）
A. 所有商品都必须有商标
B. 所有商标都必须注册
C. 所有商标都可以不注册
D. 有的商标必须注册，有的商标可以不注册
72. 我国公民从（ ）到死亡时止，具有民事权利能力，依法享有民事权利，承担民事义务。
A. 年满 18 岁起 B. 年满 16 岁起
C. 年满 10 岁起 D. 出生时起
73. 根据我国宪法的规定，最高国家权力机关的执行机关是（ ）
A. 全国人民代表大会
B. 全国人民代表大会常务委员会
C. 中央人民政府
D. 最高人民法院
74. 民法各项制度的核心组成部分是（ ）
A. 民事义务 B. 财产所有权制
C. 民事权利 D. 维护国家权利和利益
75. 两审终审不适用于（ ）人民法院。
A. 基层 B. 中级 C. 高级 D. 最高
76. 夫妻离婚后，未与子女共同生活的一方对孩子（ ）

- A. 仍有监护权
B. 没有监护权
C. 经与子女共同生活的一方委托才有监护权
D. 在与子女共同生活的一方死亡后才有监护权
77. 国务院《城镇国有土地使用权出让和转让暂行条例》规定,居住用地出让的最高年限是()年。
A. 50 B. 70 C. 80 D. 99
78. 对于人民法院作出的判决裁定,可以当庭宣判,也可以()
A. 定期宣判 B. 不定期宣判
C. 延期宣判 D. 秘密宣判
79. 律师作为行政机关的诉讼代理人,享有()
A. 起诉权 B. 反诉权 C. 应诉权 D. 和解权
80. 甲公司被乙公司申请破产,人民法院受理了甲公司的破产案件。以下相应的机关和当事人实施的行为中,不符合法律规定的是()
A. 法院批准甲公司为维持经营向乙公司支付货款 10 万元
B. 开户银行直接从甲公司账上扣划 5 万元抵还所欠本银行的贷款
C. 乙公司可以欠甲公司的 8 万元债务抵销了甲公司欠乙公司的 7 万元债务
D. 清算组决定由甲公司继续履行与两公司的合同

第三部分结束,请继续做第四部分!

第四部分 言语理解与表达

(共 30 题,参考时限 30 分钟)

每道题包含一段文字(或一个句子),后面是一个不完整的陈述,要求你从四个选项中选同一个来完成陈述。注意:答案可能是完成对所给文字主要意思的提要,也可能是满足陈述中其他方面的要求,你的选择应与所提要求最符合。

请开始答题:

81. 他说他无论如何也不能不推翻谁都会否认贝费里尔说过的科学上为害最大的莫过于舍弃批评批判的态度的观点。
他对贝费里尔的观点究竟是赞同还是反对()
A. 赞同
B. 反对
C. 与赞同与反对无关
D. 既不赞同也不反对
82. 莫斯科将拒绝批准关于减少美俄核弹头的第二阶段限制战略武器条约。莫斯科批不批准这个条约()
A. 批准 B. 不批准 C. 不置可否 D. 没有说明
83. 正确的观点是从哪里来的呢?是从客观实际中来的。我们在研究任何一个问题的时候,都要从客观存在着的事物出发,详细地占有材料,在马克思主义的基本原理指导下,给以科学的分析,

然后才能在这个问题上形成正确的观点。因此，我们要把正确的观点传达出来，也是离不开材料的。

对这段最准确的复述是（ ）

- A. 正确的观点是从实际材料中出来的
- B. 正确的观点是经科学分析得出来的
- C. 正确的观点是通过材料传达出来的
- D. 正确的观点的是在马克思主义原理指导下，对实际材料进行科学分析行出的

84. 在中国历史上曾经出现过成康之治、文景之治、贞观之治、康乾之治等所畏盛世。盛世的出现是和法制的相对健全分不开的，法制是推动盛世出现的条件，又是盛世的外在标志。从来没有无法制的盛世，也从来没有盛世而法制衰微的现象。即使是人生中原的少数民族，在立定脚跟之后也急于立法，以适应统治广大汉族地区的需要。

最能准确复述这段话意思的是（ ）

- A. 中国历史上曾经出现过四大盛世
- B. 中国历史上出现的盛世是与法制的健全分不开的
- C. 盛需要法治，法治促成盛世，这是一条必然规律。我们应当借鉴历史的经验以法治国
- D. 少数民族统治者在入主中原以后总会受到很大程度的汉化

85. 教育投资是效益最大的一种投资。日本、新加坡自然资源都很缺乏，经济发展却很快，最重要的一条就是抓住教育为放。

最能准确地复述这段话的意思是（ ）

- A. 教育投资能促进工业发展
- B. 教育是一种投资
- C. 教育投资可促进经济快速发展，效益很大
- D. 教育投资可弥补资源不足

86. 种种现象和事例表明，有些同志嘴里说的是社会主义市场经济，而行动上却还停留在计划经济的轨道上；一边要求政企分开，而一边还在对企业进行不适当的干预；一边讲要把国有企业推向市场、自负盈亏，一边却仍是过去的老观念老办法，热衷于向上面要项目要资金，坐在那里等靠要；一边讲要按市场经济一般规律办事，一边又在离开市场经济规则搞“无本生意”；一边要讲平等竞争，一边又在要求减免税收或要求其他优惠待遇。

这段话主要观点是（ ）

- A. 进行社会主义市场经济建设不能停留在观念上，更要落实在行动上
- B. 我国正处在一个社会主义计划经济向市场经济转轨的过渡时期，有些情况是难以避免的
- C. 市场经济是法制经济，只有健全法制才能解决这一切问题
- D. 有些同志的想法是正确的，但做法却是错误的

87. 家庭教育不如学校教育那样正规和系统，但家庭教育是在朝夕相处的日常生活中以潜移默化的方式进行的，因此家庭教育对儿童个性的影响有时比学校教育更持久和深刻。

这段话主要支持了这样一个观点，即家庭教育（ ）

- A. 是比学校教育更重要的教育
- B. 是一种自发的、朝夕相处的教育
- C. 是不正规和不系统的教育
- D. 对儿童个性发展的影响很深远的

88. 在人体的生长发育过程中，脉搏、血压和肺活量指标的机能状况具有明显的年龄特点和性别差异。

能直接支持这句话观点的是（ ）

- A. 年龄和性别对脉搏血压和肺活量有影响
- B. 人体的生长发育是不同的
- C. 男性脉搏比女性慢
- D. 血压和肺活量有关联

89. 目前,内地与香港经贸关系已到了密不可分的程度。据统计,去年内地与香港的贸易额达 9500 多亿港元;时下有 80% 的香港公司在内地有投资,金额超过内地吸引外资总数的 60%;此外,内地在香港的投资额也超过了 400 亿美元。由于香港与内地经济在结构上有着极强的互补性,因此可以断言,“九七”后香港与内地的经贸关系会得到进一步加强。这段话主要支持了这样一个论点,即 ()

- A. 香港与内地的经贸关系联系密切
- B. 内地允许香港大量投资
- C. 香港在内地的投资额在内地引进资金总额中占相当高的比例
- D. 预计简港与内地经贸往来前景乐观

90. 人和动物生命的最根本的区别就在于人能把自己作为控制对象,而控制是开发智力潜力的关键。

从这段话可知下述不正确的一项是 ()

- A. 动物不能控制自己
- B. 动物没有智力可言,不能产生思维
- C. 人成功地控制了自己,开发了智力
- D. 控制自己才能挖掘自身的潜力

91. 分税制是市场经济国家用于处理和规范中央与地方分配关系的普遍选择。它的实质内容是建立中央与地方两套相对独立的税收体系,从而调动中央与地方两个积极性,保证财政收入稳定增长,促进国民经济持续、高效、健康发展。眼下,分税制改革的帷幕已全面拉开,国家与地方两套税务机构已组建完毕。

这段话主要支持了这样一个论点,即 ()

- A. 分税制为市场经济各国普遍采用
- B. 分税制的实质是建立国家和地方两套税收体系
- C. 分税制能够促进国民经济的发展
- D. 我国符合市场经济发展的需要已经开始采用分税制

92. 在市场经济体系之上还需要一个以通过市场中介的间接调控为主的宏观调控体系,包括中央银行体系、财税体系。

在这段话中,可以看出 ()

- A. 通过市场中介的间接调控属于宏观调控
- B. 宏观调控就是通过市场中介的间接调控
- C. 中央银行体系、财税体系就是宏观调控
- D. 市场经济体系中包括通过市场中介的间接调控

93. 森林是人类文明摇篮,是最直接影响人类能否生存下去的生态因子。森林吸收 CO₂, 释放氧气,以此平衡着大气 CO₂ 的比例,据估计,世界上的森林和植物每年产 4000 亿吨氧气。森林是造雨者,但不影响降水量,且减缓山坡上的土壤侵蚀。

这段话主要支持了这样一种观点,即森林 ()

- A. 是造雨者
- B. 吸收 CO₂
- C. 是人类文明摇篮
- D. 是最直接影响人类生存的生态因子

94. 新能源,根据联合国 1981 年新型能源和可再生能源会议的定义,包括太阳能、水力发电、风

能、生物质能、薪此、木炭、畜力、海洋热能、波浪力能、潮汐能、泥炭、油母页岩和重质油砂共 14 种，主要指常规化石能源以外的可再生能源。

这段话主要支持了这样一种论点，即新能源（ ）

- A. 有很广泛的用途
- B. 包括很多种类
- C. 发展前景很大
- D. 是新型能源和可再生能源

95. 任何一门理论科学中的每一个新发现——它的实际应用也许还根本无法预见——都使马克思感到喜悦，但是当有了立即会对工业，对一般历史发展产生革命影响的发现的时候，他的喜悦就非同寻常了。最能准确复述这段话意思的是（ ）

- A. 马克思对与实践紧密相关并能对它产生重大影响的科学发现，兴趣基为浓厚
- B. 马克思高度重视理论学科中的每一个新发现，因而对任何一个新发现都感到由衷的喜悦
- C. 马克思十分重视他的发现对工业以及一般历史发展产生的革命影响
- D. 马克思有着非凡的预见性，因而对理论科学中的新发现特别敏感

阅读以下文字，回答第 96—97 题

当生活变得越来越方便时，往往意味着人们应当越来越需要适应新的秩序。正像乘普通的公共汽车时，人们可以随意从三个门上下，而无人售票车却需要按照前后门的秩序上下车。塑料的发明者或许没有想到，在今天塑料会被如此频繁地使用。快餐盒的方便，使买卖双方都感觉方便，然而极大的方便可能孕育着极大的不便。这个不便在当前，不过表现为对视觉的“污染”，而推而远之，最终的不便将落在十年、百年之后的后人身上。如果从小小的塑料袋上，再现“短视哲学”的恶果，那我们所得的方便就太不划算。现代社会的有序性就表现在整个社会的协同性，如果大家都能按照正确的秩序行事，就可以最大限度减小错误率。而克服“白色污染”所需要的就是这种高度协同性，小小塑料代需要整个社会来关注，如果小区的垃圾分类真正到位，如果用过快餐后，让快餐盒不再飘起来，如果这些回收品能被有效再利用，一些一次性快餐盒应当可以是一种资源，而不再是污染物了。

96. 克服“白色污染”的关键是什么？（ ）

- A. 不使用塑料制品
- B. 垃圾分类
- C. 不使用一次性快餐盒
- D. 不使用塑料袋

97. “白色污染”变害为利应该怎么做？（ ）

- A. 不可能
- B. 可回收再利用
- C. 用过之后再用
- D. 用过之后烧掉

阅读以下文字，回答第 98—100 题

目前，世界范围内“回归大自然”的呼声高涨，欧美一些国家“草药风”已悄然兴起，中药正以其高效、安全的独特优势，受到越来越多的海外朋友欢迎，这无疑为我国中药出口带来了福音。然而，作为中药发源地，有几千年中药史的中国，出口的中药在世界市场上却比例很小。仅如此，现在中药的故乡已披着洋外衣的中药团团包围。据统计，我国每年出口的中药材、中成药只占国际市场 10% 左右的份额，年出口仅三亿美元。相反，在我国中药出口比重小得可怜的情况下，中成药进口却来势凶猛。很多中药材在国外二次加工后重新杀回老家。有关专家认为，要在市场经济条件下，加强宏观协调，积极扶持中药产销，加速新技术、新设备的投入，形成国际竞

争力，捏成“拳头”，打好“中华牌”。

98. 中草药为什么越为越受欢迎？（ ）

- A. 治病又好吃 B. 便宜 C. 高效、安全 D. 食用方便

99. 中国中药出口情况怎样？（ ）

- A. 占国际市场大部分 B. 很有优势
C. 来势凶猛 D. 仅占国际市场份额的 1% 左右

100. 怎样扭转这种局面？（ ）

- A. 大面积种植中草药 B. 对中草药进行深加工
C. 拒绝进口中成药 D. 积极扶持中药产销

阅读以下文字，回答第 101—105 题

我国行政职务消费一直由财政大包大揽，许多支出鱼目混珠、公私不分。长期以来，大吃大喝、公车私用、私客公待、公款旅游等不正之风屡禁不绝，导致各级政府行政费用连年攀升，无限膨胀。

湖北省老河口市一个只有 50 多万人口的县级市，财政供养人员 16224 人，除工资外，职务消费支出一年在 3500 元以上。到去年底，全市行政事业单位有各类公务用车 447 辆，别除车辆折旧费，在当地一辆公车年均消耗 5 万元，算下来全市一年公车耗资 2000 万元左右。

当前，社会上对我国现行职务消费体制的改革呼声不绝于耳，但如何改革却有很多不同观点。武汉大学理论经济学博士后流动站焦建国博士认为，应该推行财政预算改革，才能有效解决职务消费中普遍存在的腐败与浪费。

焦建国认为，职务消费是一个“灰箱”，包括三个层次的内容：处在某一个特定职务上的公务员人员在履行公务时必须的消费；履行公务需要，但不需要那么多或那么奢侈的过度消费；不是履行公务需要，而是利用职务之便或假借履行公务用于满足个人需要的个人消费。

严格地说，职务消费是处在某一特定职务上的公务人员为履行公务所必须的、适度的消费。假公济私的个人消费是腐败，过度的职务消费尤其是故意的奢侈浪费也属腐败之列。

101. 不属于我国行政职务消费的不正之风一项是下列哪项？（ ）

- A. 请客吃饭 B. 公车私用
C. 公款旅游 D. 私客公待

102. 湖北省老河口市全市一年公车耗资多少万元？（ ）

- A. 1000 万元左右 B. 2000 万元左右
C. 3000 万元左右 D. 40000 万元左右

103. 焦建国博士认为有效解决职务消费中普遍存在的腐败与浪费的途径是什么？（ ）

- A. 官员收入改革 B. 公车改革
C. 推行财政预算改革 D. 货币化改革

104. 下面选项中哪一项不是材料中提到？（ ）

- A. 社会上对我现行职务消费体制的改革呼声不绝于耳
B. 湖北省老河口市是一个只有 50 多万人口的县级市
C. 职务消费是处在某一特定职务上的公务人员为履行公务所必须的、适度的消费
D. 老河口是湖北省的一个中等县级市

105. 下面选项中哪一项可以从材料中推断出？（ ）

- A. 过度的职务消费尤其是故意的奢侈浪费也属腐败之列
B. 老河口市的公车改革肯定会减少一定的职务消费
C. 利用职务之便或假借履行公务用于满足个人需要的个人消费
D. 职务消费是处在某一特定职务上的公务人员为履行公务所必须的、适度的消费

阅读以下文字，回答第 106—110 题

2003 年以来北京市交通拥堵现象日益严重。北京市交通管理局提供的数据表明，北京市机动车总数已经超过了 202 万辆，全市交通道路 90% 以上处于饱和或超饱和的状态，早晚流量高峰期间，整个城区的道路基本处于拥堵状态，经常发生拥堵的点段达 65 处。

交通拥堵已成为北京市民心中的“一堵墙”。经市发的生活、工作带来了极大的不便。出门办事，堵车半个小时是十分正常的事；有的市民为准时上班，不得不将起床闹铃再提前一个小时。

北京市交通管理局认为，新车多、新司机多、违章多、事故多，是北京当前交通的一个显著特点，同时也是拥堵加剧的一个主要原因。北京市机动车发展速度太快，修路的速度远远赶不上车辆、流量的快速增长。2002 年全市新增机动车 27.6 万辆；而今年前 8 个月，全市又新增机动车 24.6 万辆，已经逼近上年的总数；同时，今年新增驾驶员 13.8 万人，有“本”人数已达到 312 万人。

106. 2003 年以来北京市交通处于一个什么样的状态？（ ）
- A. 饱和 B. 超饱和
C. 饱和或超饱和 D. 饱和或半饱和
107. 北京市交通拥堵的点段多达多少处？（ ）
- A. 55 B. 65 C. 75 D. 85
108. 交通拥堵带来的直接结果是什么？（ ）
- A. 给市民的生活、工作带来了极大的不便
B. 北京市机动车发展速度太快
C. 北京交通显得脆弱不堪
D. 北京市交通拥堵现象日益严重
109. 下面选项中哪一项不是材料中提到的？（ ）
- A. 2002 年全市新增机动车 27.6 万辆
B. 北京普通时段车堵得像从前的上下班高峰，上下班高峰堵得像赶集
C. 北京市机动车发展速度太快
D. 修路的速度远远赶不上车辆、流量的快速增长
110. 下面选项中哪一项可以从材料中推断出？（ ）
- A. 新车多、新司机多、违章多、事故多，是北京当前交通的一个显著特点
B. 有的市民为准时上班，不得不将起床闹铃再提前一个小时
C. 2003 年以来，许多市民拿到了驾照
D. 每逢节假日，出北京的放射路都堵得厉害

第四部分结束，请继续做第五部分

第五部分 资料分析

(共 20 题, 参考时限 20 分钟)

所给出的图、表或一段文字均有 5 个问题要你回答。你应根据资料提供的信息进行分析、比较、计算和判断处理。

请开始答题:

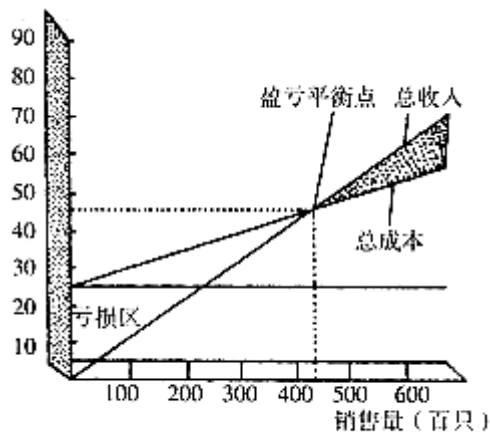
一、根据下表回答问题。

我国 1988 年乡镇企业产品出口行政分类 (单位: 亿元)

行业	全部产值	出口值	出口值占全部行业产值比重 (%)
轻工	322. 05	28. 72	8. 92
食品	267. 71	27. 13	10. 13
纺织	462. 99	55. 92	12. 08
服装	102. 08	30. 17	29. 56
工艺品	58. 88	37. 92	64. 40
化工	390. 44	15. 05	3. 90
机械	847. 04	11. 23	1. 33

111. 1988 年乡镇企业中, 产值最高的行业是 ()
A. 轻工 B. 食品 C. 机械 D. 化工
112. 1988 年乡镇企业中, 出口值占全部行业产值一半以上的行业是 ()
A. 纺织 B. 服装 C. 机械 D. 工艺品
113. 1988 年食品行业出口值比化工行业出口值高多少? ()
A. 27. 13 亿元 B. 12. 08 亿元
C. 54. 37 亿元 D. 10. 07 亿元
114. 1988 年乡镇企业中, 出口值最高的行业是 ()
A. 纺织 B. 服装 C. 工艺品 D. 食品
115. 1988 年, 服装业出口值占全部行业产值比重与轻工业相比高多少? ()
A. 17. 46% B. 18. 46%
C. 20. 64% D. 20. 46%

二根据下图回答问题



某养料制品厂塑料桶月生产盈亏分析图

116. 该厂 11 月份塑料桶销售量为 4 万只，请判断本月盈亏情况 ()
- A. 盈利 B. 亏损 C. 不盈不亏 D. 无法确定
117. 假若计划月盈利达 10 万元，每月塑料桶的销售量不得少于 ()
- A. 4 万只 B. 5 万只 C. 6 万只 D. 7 万只
118. 该厂盈亏平衡点为 ()
- A. 2 万只 B. 3.5 万只 C. 4.5 万只 D. 5.5 万只
119. 该厂每月的的基本维持费为多少万元 ()
- A. 270 B. 300 C. 350 D. 400
120. 估计每只塑料桶的销售价为多少元 ()
- A. 400 B. 300 C. 200 D. 100

三、根据下列文字资料回答问题

到 2000 年底，中国基本普及了九年义务教育，基本扫除了青壮年文盲，普及九年义务教育的人口覆盖率达到 85%，青壮年文盲率下降到 5% 以下。据统计，2000 年，全国幼儿园共有在园幼儿 2244 万；全国普通小学在校长生 1.3 亿多人，小学学龄儿童入学率达 99.1%；初中在校生 6256 万人，初中生入学率达 88.6%；普通高中 1.46 万所，在校生 1201 万人；普通高校长 1041 所，在校生 556 万人；成人高校 772 所，在校生 354 万人；研究生培养单位 738 个，在校生 30.1 万人；特殊教育教学校在校生 37.8 万人。

121. 小学应有多少在校生？ ()
- A. 1.3 亿 B. 2244 万 C. 1.31 亿 D. 无法确定
122. 初中应有多少在校生？ ()
- A. 6256 万 B. 1201 万 C. 7061 万 D. 7357
123. 下面哪一种学校多？ ()
- A. 普通高校 B. 普通高中
C. 成人高校 D. 特殊教育学校
124. 下面哪一种学校在校生少？ ()
- A. 普通高校 B. 普通高中
C. 成人高校 D. 特殊高校
125. 普通高中在校生比初中在校生少多少？ ()
- A. 5700 万 B. 5055 C. 2244 万 D. 354 万

四、根据下表回答问题

某区高中二年级 548 名学生英语测试成绩

组别	男生	女生	合计
95-100	3	0	3
90-95	10	2	12
85-90	30	12	42
90-85	45	33	79
75-80	70	60	130
70-75	67	75	142
65-70	32	46	77
60-65	22	33	55
55-60	3	7	10
50-55	1	0	1
合计	280	268	548

126. 哪一个分数段的学生最多? ()
- A. 95-100 B. 75-80
- C. 70-75 D. 60-65
127. 85 分以上的学生有多少人? ()
- A. 45 B. 12 C. 32 D. 57
128. 以下说法正确的是哪项? ()
- A. 85-90 分数段的学生人数最多
- B. 得分最高的学生是男生
- C. 得分最高的学生是女生
- D. 该校男生比女生少 12 人
129. 60 分以下的学生有多少人? ()
- A. 3 人 B. 4 人 C. 7 人 D. 11 人
130. 得分最低的学生是哪项? ()
- A. 男生 B. 女生 C. 不能确定 D. 男女生一样
- 全部测验到此结束

参考答案

第一部分 数量关系

- 1、A 2、A 3、B 4、A 5、A 6、A 7、B 8、D
- 9、B 10、C 11、B 12、A 13、C 14、D 15、C

第二部分 判断推理

一、图形推理

- 16、B 17、C 18、A 19、A 20、C
- 21、C 22、C 23、B 24、A 25、A

二、演绎推理

- 26、C 27、B 28、A 29、C 30、C 31、B 32、A 33、B
- 34、C 35、A 36、B 37、D 38、B 39、C 40、A

三、定义判断

- 41、B 42、D 43、D 44、A 45、B
- 46、B 47、D 48、A 49、C 50、D

第三部分 常识判断

51、A 52、D 53、D 54、A 55、B 56、D 57、A 58、A
59、B 60、D 61、B 62、C 63、C 64、D 65、B 66、B
67、D 68、D 69、A 70、B 71、A 72、D 73、C 74、C
75、D 76、A 77、B 78、A 79、C 80、B

第四部分 言语理解与表达

81、A 82、B 83、D 84、B 85、C 86、A 87、D 88、A
89、A 90、B 91、B 92、A 93、D 94、B 95、A 96、B
97、B 98、C 99、D 100、D 101、A 102、B 103、C 104、D
105、B 106、C 107、B 108、A 109、B 110、D

第五部分 资料分析

111、C 112、D 113、B 114、A 115、C 116、B 117、C 118、C
119、A 120、D 121、C 122、C 123、B 124、D 125、B 126、C
127、D 128、B 129、D 130、A