

2012 年度国家公务员录用考试 《行政职业能力测验》全真模拟试卷(六)

注意事项

- 1.行政职业能力测验共有五个部分,135 道题,总时限为 120 分钟。各部分不分别计时,但都给出了参考时限,供答题时参考。
- 2.将姓名与准考证号在指定位置上用黑色字迹的钢笔、签字笔或圆珠笔填写,并用 2B 铅笔在准考证号对应的数字上填涂。
- 3.请将题本上的条形码揭下,贴在答题卡指定位置。没有贴条形码的答题卡将按作废处理,成绩计为零分。
- 4.题目应在答题卡上作答,在题本上作答一律无效。
- 5.待监考老师宣布考试开始后,你才可以开始答题。
- 6.监考老师宣布考试结束时,你应立即停止作答,将题本、答题卡和草稿纸都翻过来放在桌上,待监考老师确认数量无误、发出离开指令后,方可离开考场。
- 7.试题答错不倒扣分。
- 8.严禁折叠答题卡!

第一部分 常识判断 (共 25 题,参考时限 15 分钟)

根据题目要求,在四个选项中选出一个最恰当的答案。

请开始答题:

1.中国对外政策的根本准则是:

- | | |
|------------|----------------------|
| A.和平共处五项原则 | B.独立自主 |
| C.不称霸 | D.维护世界和平,促进人类共同繁荣和发展 |

2.建设和谐文化是建设社会主义和谐社会的主要任务。_____是建设和谐文化的根本,是社会主义意识形态的本质体现。

- | | |
|-----------|--------------|
| A.公平正义理念 | B.四项基本原则 |
| C.社会主义荣辱观 | D.社会主义核心价值体系 |

3.2010 年度国家科学技术奖励大会上,_____获得国家最高科学技术奖。

- | | |
|-----------|-----------|
| A.黄昆、王选 | B.闵恩泽、吴征镒 |
| C.师昌绪、王振义 | D.王忠诚、徐光宪 |

4.下列不属于中国特有的动物是:

- A.金丝猴 B.扬子鳄 C.东北虎 D.华南虎

5.我国增强区域发展协调性,坚持把_____放在区域发展总体战略优先位置。

- A.大力促进中部地区崛起 B.全面振兴东北地区等老工业基地
C.深入实施西部大开发战略 D.积极支持东部地区率先发展

6.下列关于党的基层组织的说法,不正确的是:

- A.党的基层委员会每届任期三年至五年
B.党的基层组织是党在社会基层组织中的战斗堡垒,是党的全部工作和战斗力的基础
C.企业、农村、机关、学校、科研院所、街道社区、社会组织、人民解放军连队和其他基层单

位,凡是有正式党员五人以上的,都应当成立党的基层组织

- D.国有企业和集体企业中党的基层组织,发挥政治核心作用,围绕企业生产经营开展工作

7.根据《食品安全法》,以下说法不正确的是:

- A.食品生产者负有保证食品安全的社会责任
B.市级以上地方人民政府负有对本行政区域的食品安全监管工作统一领导、组织、协调的

责任

- C.食品行业协会应当加强行业自律,引导食品生产经营者依法生产经营

D.取得餐饮服务许可的餐饮服务提供者在其餐饮服务场所出售其制作加工的食品,不需
要取得食品生产和流通的许可

8.根据《国家赔偿法》,下列说法不正确的是:

- A.赔偿义务机关决定不予赔偿的,应当书面通知赔偿请求人,并说明不予赔偿的理由

B.被羁押人在羁押期间死亡的,赔偿义务机关的行为与被羁押人的死亡是否存在因果关
系,赔偿义务机关应当提供证据

- C.致人精神损害,造成严重后果的,应当支付相应的精神损害抚慰金

- D.财政部门应当自收到支付申请之日起三十日内支付赔偿金

9.1949年后,中国积极主动地融入世界。将下列重大外交事件按时间先后顺序排列,正确
的是:

- ①重返联合国 ②中美关系正常化
③参加万隆会议 ④加入世界贸易组织
A.③①②④ B.③②①④ C.①②③④ D.②①③④

10.下列关于能源的叙述,正确的是:

- A.天然气和地热是来自太阳辐射的新能源

B.我国能源消费构成单一依靠煤炭的局面已大有改变,石油、天然气和水电的比重已十分
接近煤炭

- C.我国能源的流向是北煤南运、西电东送

- D.在经济发达的国家中,除俄、美、英等少数国家外,能源都不能自给

11.下列省区全称、简称和行政中心连线正确的是:

- A.浙江—沪—杭州 B.山西—晋—太原
C.江西—赣—合肥 D.湖南—湘—武汉

12.以下不属于中国的世界文化遗产的是:

- A.故宫 B.莫高窟 C.西藏布达拉宫 D.云南三江并流

13. 下列措施中能拉动内需的是:

- A. 提高准备金率
- B. 提高利率
- C. 降低汇率
- D. 降低贴现率

14. 我国的根本政治制度是:

- A. 人民代表大会制度
- B. 人民民主专政
- C. 社会主义制度
- D. 政治协商制度

15. 关于我国之最, 以下说法正确的是:

- A. 人口最多的省——四川省
- B. 最大的岛屿——台湾岛
- C. 最热的地方——乌鲁木齐
- D. 最大的淡水湖——洞庭湖

16. 下列关于“十二五”时期的历史定位, 叙述不正确的是:

- A. 全面建设小康社会的关键时期
- B. 深化改革开放、加快转变经济发展方式的攻坚时期
- C. 综合国内外形势, 是一个可以大有作为的重要战略机遇期
- D. 是追求 GDP 增长指标, 实现经济飞速发展的重要时期

17. 建国 60 多年来, 人民民主专政的国家政权不断巩固, 人民代表大会制度、中国共产党领导的多党合作和政治协商制度、民族区域自治制度和基层群众自治制度不断完善。上述制度:

- ①是由我国的国家性质决定的政权组织形式
 - ②是我国人民当家作主和享有广泛民主权利的保障
 - ③是符合我国国情的政治制度, 必须毫不动摇地坚持
 - ④有利于调动亿万人民群众的积极性和创造性
- A. ①③ B. ①②③④ C. ②④ D. ②③④

18. 关于泥石流下列说法不正确的是:

- A. 泥石流常见于山区或者其他沟谷深壑, 地形险峻的地区
- B. 暴雨、长时间的连续降雨为泥石流的动力来源
- C. 我国西南地区的泥石流多发生于 6-9 月, 西北地区的泥石流多发生于 5-6 月
- D. 人为的不合理开发往往成为泥石流的诱发性因素

19. “以德治民, 取信于民”体现了哪家的思想?

- A. 墨家
- B. 道家
- C. 儒家
- D. 法家

20. 下列各项, 说法不正确的是:

- A. 汉字属于表意文字
- B. 徐光启的《农政全书》与宋应星的《天工开物》是明朝两部著名的农书
- C. 对联是由古代宫中嫔妃猜谜赏花灯的习俗演变而来
- D. 道教所信奉的“太上老君”就是老子

21. 目前世界上的磁悬浮技术主要有:

- ①常导电式磁悬浮
 - ②超导电动磁悬浮
 - ③永磁悬浮
 - ④粒子束悬浮
- A. ① B. ①② C. ①②③ D. ①②③④

22. 下列有关文学常识的表述不正确的是:

- A. “骚体”又称“楚辞体”, 得名于屈原的“离骚”, 特点之一是多用“兮”字

B.散曲包括套曲和杂剧,是盛行于元代的一种曲子形式,形式比较自由

C.《白洋淀纪事》是孙犁最负盛名和最能代表他创作风格的一部作品集

D.惠特曼是美国伟大诗人,他的诗对我国五四以来的诗影响很大

23.关于两汉天文学成就的叙述,不正确的是:

A.制订出中国第一部较完整的历书——太初历

B.张衡对月食作了最早的科学解释

C.最早记录太阳黑子

D.制订出当时世界上最先进的历法《授时历》

24.关于武器常识,以下说法不正确的是:

A.爱国者导弹是我国研制的全天候多用途地空战术导弹

B.作为第四代战斗机,歼-20 具有超音速巡航的能力

C.空天战斗机将打破航空与航天的界限

D.电磁炮是利用电磁系统中电磁场的作用力提高弹丸的速度和射程

25.圆珠笔(签字笔、中性笔)是我们很熟悉的书写工具。在设计制造时,笔芯内的油墨量与金属笔嘴的寿命存在科学的对应关系,且笔芯上端通常都留有一小孔。关于这些设计的说法不正确的是:

A.油墨量的设计遵循了设计的经济原则

B.小孔的设计遵循了设计的科学原则

C.油墨量和小孔的设计都是为了减少用料,降低成本

D.设计小孔的主要意图是平衡气压,书写时便于油墨从笔嘴顺畅流出

※※※第一部分结束,请继续做第二部分! ※※※

第二部分 言语理解与表达

(共 40 题,参考时限 35 分钟)

本部分包括表达与理解两方面的内容。请根据题目要求,在四个选项中选出一个最恰当的答案。

请开始答题:

26.奥运一百多年的历史始终陷入一种_____。一方面它高扬超越民族的人类精神,另一方面参与竞争的基本单位是民族国家。前者表现为超越功利的尊重和欣赏;后者则是更实在的、不敢怠慢的国家荣誉和自尊心,金牌多寡成了竞争的_____。

填入划横线部分最恰当的一项是:

A.困境 准则 B.矛盾 标志 C.争议 目的 D.悖论 核心

27.“蜗居”、“蚁族”这两个词非常_____地反映出以“80 后”为主的中国年轻一代既有目标又充满困惑、既努力奋斗又充满_____地“混”在大城市的实况。他们心中更大的信仰,应该是对未来成功和幸福的强烈渴望吧。

填入划横线部分最恰当的一项是:

A.准确 自卑 B.生动 无奈 C.清晰 疑虑 D.形象 感伤

28.我喜欢雨,尤其_____在雨天散步。在雨中回眸人生的苦乐酸甜,与在书斋中伏案回忆往事,是迥然不同的两种境界。后者,因为缺少了雨作_____,如同人生戏剧少了背景,总是感觉有点不够味。

填入划横线部分最恰当的一项是:

A.钟情 陪衬 B.偏爱 衬托 C.迷恋 反衬 D.向往 烘托

29.古筝悠扬,清茶沁人,加之窗外的西湖美景,令人心旷神怡,_____。

填入划横线部分最恰当的一项是:

A.乐不思蜀 B.乐此不疲 C.物我两忘 D.感慨万千

30.音乐电视这种_____的艺术形式,已在中国民族化的过程中,_____出了一条成功的路子。

填入划横线部分最恰当的一项是:

A.舶来 探索 B.传统 摸索 C.引进 创造 D.外来 发展

31.殷墟以造字方法_____、表现内容_____、传承有序的甲骨文而在世界文明史上独领风骚。

填入划横线部分最恰当的一项是:

A.娴熟 多样 B.独特 完整 C.成熟 丰富 D.得当 全面

32.闭关自守的民族不喜欢聆听,他们只会_____,浅陋和愚昧妨碍了他们的进取;急功近利的民族不喜欢聆听,他们只会_____,浮躁和短视制约了他们的见识。

填入划横线部分最恰当的一项是:

A.自得其乐 鼠目寸光 B.孤芳自赏 浮光掠影
C.坐井观天 浅尝辄止 D.夜郎自大 一知半解

33.股市上的投资者,大多被人性的贪婪和恐惧这两种情绪所_____,在股市大涨时不愿意放手,总以为好日子会永远继续,而当股市一片_____之时,便失魂落魄,以为黑暗的日子看不到尽头。

填入划横线部分最恰当的一项是:

A.拖累 凄风冷雨 B.蛊惑 愁云惨雾
C.奴役 哀鸿遍野 D.左右 惨不忍睹

34.相比美国人,中国人一直生活得_____,总是在不停地积蓄,中国人在银行里存了大把的钱,以备将来不时之需。这种忧患意识、这种_____的生活习惯,让中国人不会像美国人那样在金融危机来临时掉入万劫不复的深渊。

填入划横线部分最恰当的一项是:

A.谨小慎微 未雨绸缪 B.小心翼翼 有备无患
C.谨言慎行 防患未然 D.提心吊胆 克勤克俭

35.如果哪个国家真的为不负责任的经济教条所_____,国门大开,放任掠夺资金进出,相当于_____,则很难要求追逐利润的跨国大鳄手下留情或者良心发现。

填入划横线部分最恰当的一项是:

A.诱惑 引狼入室 B.误导 自讨苦吃
C.诱导 自寻烦恼 D.迷惑 开门揖盗

36.即席发言,要力求说到点子上,_____地表明自己的看法,褒贬_____,毫不含糊。

填入划横线部分最恰当的一项是:

- A.直截了当 得体 B.旗帜鲜明 得体
C.直截了当 分明 D.旗帜鲜明 分明

37.他说,能当选校长可能是基于自己对东西方价值观基本要素的_____,但还远谈不上融会贯通。世界不同文化之间其实_____着很多共同之处,阿卜杜拉国王科技大学的建立就是要_____这些共同点。

填入划横线部分最恰当的一项是:

- A.认识 蕴含 开发 B.掌握 蕴藏 挖掘
C.理解 包含 学习 D.了解 隐藏 发掘

38.《吕氏春秋》又称《吕览》,是杂家学说的代表作。该书兼收并蓄,_____,以儒家为主流,以道家为基础,旁采名、法、墨、兵、农、阴阳诸家之长。文章_____犀利,故事、比喻、议论有机结合。

填入划横线部分最恰当的一项是:

- A.包罗万象 明确 B.纤悉无遗 明确
C.细大不捐 明朗 D.不厌其详 明朗

39.“汾涅可乐”曾经以“中国人自己的可乐”_____,随后迅速一蹶不振的经历,也许可以给喜欢用这句广告语作为诉求的厂家些提醒:产品归根到底,拼的还是技术、管理与服务,而不是爱国口号。

填入划横线部分最恰当的一项是:

- A.名闻遐迩 B.名扬四海 C.名噪一时 D.声名大噪

40.资料显示,国际上公认的职业_____的_____年龄是 35 岁至 45 岁,根据通行的国际标准,大多数国家把青年的年限_____为不超过 45 岁。

填入划横线部分最恰当的一项是:

- A.生涯 黄金 界定 B.经历 最佳 确定
C.生计 理想 界定 D.履历 青春 确定

41.他不是一个瞻前顾后、_____的人,做人做事都很有原则、率直坦诚。他深知人生有时需要一点_____的架势,需要一点点鲁莽,有时甚至还要有点破罐破摔的劲道。

填入划横线部分最恰当的一项是:

- A.患得患失 破釜沉舟 B.唯唯诺诺 背水一战
C.患得患失 大刀阔斧 D.唯唯诺诺 无所畏惧

42.圆明园流失海外的诸多文物,大多是第二次鸦片战争中被英法联军_____,并流失多年的中国珍贵文物,中国对其拥有不可_____的所有权。这些文物理应归还中国,回到它的_____地。

填入划横线部分最恰当的一项是:

- A.搜刮 质疑 生源 B.劫掠 置疑 原生
C.褫夺 置疑 产生 D.抢夺 质疑 出产

43.读书属于个人的精神生活,必定是非常个人化的。可以成为时尚的不是读书,而是买书和谈书。譬如说,在媒体的_____下,某一时期有某一本书特别畅销,谈论它显得很

_____,插不上嘴便显得很_____。

填入划横线部分最恰当的一项是:

- A.影响 时髦 落伍 B.指导 前卫 保守
C.引导 时尚 落后 D.主导 现代 守旧

44.崛起最本质的意义,是在_____体系中相对力量的快速增强。有力量_____是一件好事,但也可能是一件坏事。崛起带给中国决策层和知识分子最_____的议题之一是:如何看待中国力量的快速增长?更进一步,中国应该如何运用已经或即将获得的力量?

填入划横线部分最恰当的一项是:

- A.既定 多半 迫切 B.现有 自然 现实
C.当前 也许 棘手 D.固有 通常 严峻

45.“不折腾”其实是对一个常识的_____ :一个正常的社会,必须_____ 致力于增进以民主和民生为双轴的全民核心利益,必须_____ 改善包括物质生活、精神生活、政治生活在内的公共生活,必须在安定和谐中让民众免于匮乏与恐惧。

填入划横线部分最恰当的一项是:

- A.确认 全心全意 自力更生 B.重申 坚定不移 殚精竭虑
C.阐发 矢志不渝 高瞻远瞩 D.概括 聚精会神 锲而不舍

46.一天,一个农民的驴子掉到枯井里,那可怜的驴子在井里凄凉地惨叫了几个钟头,农民亦急得团团转,就是毫无办法把它救起来,最后,他断然认定:驴子已老了,这口枯井也该填起来,不值得花精力去救驴子。他请来所有邻居帮他填井。大家抓起铁锹,开始往井里填土。驴子很快意识到发生了什么事,起初,它恐慌地大哭,不一会儿,居然安静下来。人们忍不住往井里看,奇迹发生了。每一铲砸到驴子背上的土,它都作了出人意料的处理:迅速抖落一身尘土,然后狠狠地用脚踩紧。这样,没过多久,驴子竟然自己把自己升了起来,到了井口,它纵身一跳,平安地跑开了,在场的人均惊诧不已。

这段文字告诉我们的道理是:

- A.人生中的每一个困难都是通往成功的垫脚石
B.换一种思维常常能够产生意想不到的效果
C.冷静思考是克服困难的首要条件
D.求人不如求己,很多时候,自己才是自己最大的救星

47.在全球热议经济仍处低谷之际,来自 86 个国家的 1400 多位经济领域的精英为重振经济出谋划策,远道而来向中国“取经”。波士顿咨询公司中国区主席麦维德赞扬中国说,中国是富有巨大潜力的市场,跨国公司来到中国的发展势头是好的。在全球经济危机中,中国政府大力实施救市计划,保证经济平稳发展,中国政府的对策令人钦佩。中国政府为克服金融危机所采取的种种策略以及付出的努力,为世界经济的复苏起到了巨大作用;中国经济回升为全球经济增长树立了信心。中国更愿意与世界各国分享这份成功,参会者更愿意聆听中国的声音。

这段文字主要支持的观点是:

- A.中国救市措施令人钦佩,世界看好中国经济
B.中国经济在世界经济中占有举足轻重的作用
C.中国愿意将救市的成功经验分享给世界各国
D.金融危机将是中国扩大经济影响力的重要契机

48. 动态口令技术采用一种称之为动态令牌的专用硬件, 内置电源、密码生成芯片和显示屏, 密码生成芯片运行专门的密码算法, 根据当前时间或使用次数生成当前密码并显示在显示屏上。认证服务器采用相同的算法计算当前的有效密码。用户使用时只需要将动态令牌上显示的当前密码输入客户端计算机, 即可实现身份的确认。由于每次使用的密码必须由动态令牌来产生, 只有合法用户才持有该硬件, 而用户每次使用的密码都不相同, 即使黑客截获了一次密码, 也无法利用这个密码来仿冒合法用户的身份。

以下对“动态口令技术”理解不正确的是:

- A. 用户的密码按照时间或使用次数不断动态变化且每个密码只能用一次
- B. 认证服务器在不同时间产生的密码不同是因它使用的计算方法不尽相同
- C. 动态令牌上显示的当前密码是用户实现身份确认的唯一有效密码
- D. 用户每次使用的密码都是由认证服务器即时算出的, 其安全性极高

49. 关于通胀的界定, 现在大家普遍接受的是两个最起码的表现: 货币贬值与物价持续上涨。尽管这样的界定也不一定能反映通胀本质, 但作为一种表象描述方式还是比较贴近实际的, 就好比发烧不是感冒的本质, 但感冒确实经常表现为发烧, 这就是普遍接受的标准, 虽然不科学, 但实践中还是比较准确的。现在要把资产价格也纳入进来, 也就等于这样来界定通胀: 通胀就是物价和资产价格的持续上涨。表面上看只是一个范围问题, 可如果深入思考进去, 就会发现它对通胀本性界定的破坏作用。

这段文字主要支持的观点是:

- A. 现在对于通胀的界定未能反映通胀本质
- B. 资产价格不应该被列入通胀指标
- C. 通胀直接表现为商品价格的持续高涨
- D. 资产价格猛涨并不一定意味着存在通胀风险

50. 据报载, 著名物理学家、英国剑桥大学教授斯蒂芬·霍金宣布他已放弃对“万有理论”(Theory of Everything)的追求。过去他认为人们很快就能找到一个至少能在原则上描述、预测宇宙中所有事物的终极“万有理论”, 而现在他认为, 人们永远都获得不了这样的理论; 因为根据数学中的“哥德尔不完备性定理”, 这样的理论根本就不可能有。

根据这段文字, 理解不正确的是:

- A. 任何一种学科的发展都离不开其他学科的支持
- B. “哥德尔不完备性定理”比“万有理论”更加接近事物的真相
- C. 追求真理的道路并不总是一帆风顺的
- D. 霍金过往对“万有理论”的追求显示了人们不竭的探索精神

51. 海洋表层的运动主要受海平面风的牵制。信风的存在使得大量暖水被吹送到赤道西太平洋地区, 而赤道东太平洋地区暖水被刮走后, 主要靠海面以下的冷水进行补充, 因此, 赤道东太平洋海温比西太平洋海温明显偏低。当信风加强时, 赤道东太平洋深层海水涌升上翻现象更加剧烈, 导致海表温度异常偏低, 使得气流在赤道太平洋东部下沉, 而气流在西部的上升运动更为加剧, 有利于信风的加强, 这进一步加剧了赤道东太平洋冷水的发展, 引发了所谓拉尼娜现象。

这段文字主要谈的是:

- A. 海表运动与信风的关系
- B. 赤道东西太平洋海温差异的原因
- C. 拉尼娜现象的形成原理
- D. 信风的存在对海温的影响

52.这一次为实施宽松货币政策的巨量信贷投放规模,大部分资金投入到了以“4万亿元”为龙头带动的政府投资项目中。“4万亿元”投资中,地方政府3万多亿元的配套资金大都是银行贷款,一些地方政府可能会借这次贷款的“东风”,挪用信贷资金应付日常开支或其他支出,拆东墙补西墙,财政开支膨胀,使未来的贷款偿还成为一笔糊涂账,最后不得不甩给财政买单。

本段文字主要说明的是:

- A.地方财政面临的信贷风险
- B.地方信贷易成一笔糊涂账
- C.宽松货币政策下地方财政的“借钱冲动”
- D.警惕地方信贷资金财政化

53.科学发展观是指导发展的科学理论,是应对危机的有力武器。要运用科学发展观寻找应对之策,坚持走科学发展之路,渡过难关。要进一步深化学习,加深对科学发展观精神实质和现实指导意义的理解,切实增强贯彻落实科学发展观的自觉性和坚定性。要科学分析形势,增强必胜信心,把国际金融危机带来的压力转化为推动科学发展的动力,从实际出发创造性地贯彻落实中央“保增长、扩内需、调结构”的方针政策,着力解决经济运行中的突出问题,把国际金融危机带来的损失降低到最低程度。

这段文字着重强调的是:

- A.要进一步深化学习,加深对科学发展观精神实质和现实指导意义的理解
- B.要以科学发展观为指导,应对国际金融危机给我国经济社会带来的挑战
- C.要增强信心,把国际金融危机带来的压力转化为推动科学发展的动力
- D.要从实际出发创造性地贯彻落实中央“保增长、扩内需、调结构”的方针政策

54.直觉其实是一种无意识的本能反应,不经思考快速地自发产生,不受人的心理状态的影响。但直觉往往具有欺骗性,经常给出错误答案。在中国农村推行计划生育的一大阻力是重男轻女的观念,有许多地方为此作了让步,实行“一胎半”政策——第一胎是男孩的不能再生,是女孩的可以再生一个。这样的做法给人的直觉便是女孩越来越多,男孩越来越少。其实,由于生男生女的概率相同,那么不管采用什么生育策略,都不会改变男女比例。这个结论违反了人的直觉,许多人无法接受,但事实确实如此。

最适合这段文字的标题是:

- A.直觉往往靠不住
- B.生育策略的理性选择
- C.对“一胎半”政策的误读
- D.崇尚理性,排斥直觉

55.寺里有个小和尚,方丈让他每天去寺后两座山外的镇上买日常用品,而别的小和尚都是去山前路途平坦又近的市镇,但却回来得比他还晚,他们对方丈说:“我们说说笑笑,看看风景,就到这个时候了”,小和尚说:“我每天在路上都想着早去早回,由于肩上的东西重,我才更小心去走,所以反而走得稳走得快。我已养成了习惯,心里只有目标,没有道路了!”方丈闻言大笑说:“道路平坦了,心反而不在目标上了。只有在坎坷的路上行走,才能磨炼一个人的心志啊!”这小和尚就是日后声名远扬的玄奘法师。

最适合做这段文字标题的是:

- A.路曲心直
- B.付出才能收获
- C.佛心源自坎坷路
- D.劣势也是优势

56.如果一个社会只允许有“成功/失败”的二元对立语境存在,这个社会是有问题的。事实上,本来就不应该用这种武断的二元对立模式来进行价值判断,有人愿意成功向上、出人头地,这无可厚非,但也要允许一些人发发呆、做做梦,过点没有多少追求的小日子。每个人的性格、

成长经历都各自不同,不是非得每个人都得走不是成功就是失败这两条路,在这两条路之间,还有 N 条路通向各人所理解的成功。

这段话主要支持了这样一个观点:

- A.每个人心中都有不同的标准,成功不能统一
- B.那些发呆、做梦的人永远都不可能获得成功
- C.持有“成功失败”二元观点的人是有问题的
- D.判断一个人成功与否要和其性格与经历结合起来

57.文化艺术不只是专家、艺术家以及少数精英的事情。对于一个国家和社会来说,文化艺术不是可有可无的余兴和奢侈品,而是公众深度的参与,是人对非功利的探求,对普遍性的向往,是真正成为普通大众生活的一部分的共享。文化艺术的本质规律应是普及的,是大众的,是全民的,是全社会的。把文化艺术变成奢侈的东西,消费趋向“昂贵”,让文化艺术彻底变得功利化、商业化,则是从根本上失去了文化艺术的属性。照此发展下去,便是文化艺术的迷向和末路。

这段文字意在说明:

- A.文化艺术不是少数人的事情,应注重大众的广泛参与
- B.文化消费的“昂贵”趋向背离了文化艺术的本质,将其引向歧途
- C.文化艺术的发展应坚持艺术性,杜绝过分商业化倾向
- D.文化艺术并非可有可无的余兴,而是普通大众生活必不可少的一部分

58.把下列句子组成语意连贯的一段文字,排序最恰当的一项是:

- ①近年来,有关学术不端的消息时有发生
- ②或者干脆与当事人划清界限,以示与己无关
- ③相反,还有可能百般抵赖,袒护当事人
- ④学术不端是学术界的一大顽疾
- ⑤人们在痛恨学术不端行为的同时,对某些当事人所在单位也表示失望
- ⑥因为在学术不端被人知晓、批判时,这些单位很少主动站出来承担责任

- A.①⑤⑥③②④
- B.①④⑤⑥②③
- C.④①⑤⑥③②
- D.④⑤⑥③②①

59.依次填入下面一段文字横线处的语句,衔接最恰当的一项是:

黄梅时节,忽阴忽晴,原野间绿荫沉沉,_____,给摇曳的小草挡住,就生出几缕与波纹直交的浪痕,相互交错着。

- ①菱黄的叶尖成行成列地散点在水面上
 - ②有的尚未插秧
 - ③田里面积水盈盈
 - ④微风吹过,波纹如绉
 - ⑤看去白茫茫的一片,只偶然有几根草露出水面
 - ⑥有的刚刚插下了秧
- A.④②⑤⑥①③
 - B.③②①⑥⑤④
 - C.③⑥①②⑤④
 - D.⑤②⑥①③④

60.一个人真正的“精神饥饿感”应该从中小学时期开始培养。现阶段我国亟须在学校教育阶段“拯救阅读”,尤其是儿童阅读。“阅读是消灭无知、消灭贫穷、消灭绝望的武器。”一个民族精神境界的高下取决于阅读的水平;一个人的阅读史,就是他的精神发育史;一个没有阅读的学校永远不可能有真正的教育,而没有阅读的“学习”只能称作“训练”。

对这段话主旨的理解,正确的一项是:

- A.是否从儿时就养成阅读的习惯,将在很大程度上决定一个人的精神境界
- B.阅读应当成为学校教育的重要内容
- C.“学习”与“训练”的最大区别在于“训练”仅仅是技能的培养
- D.阅读是培养“精神饥饿感”的最佳方法

61.“泡沫论”的支持者并非杞人忧天。如果从 2008 年 10 月 28 日的最低点 1664 点算起,截至 2009 年 8 月 6 日的收盘价 3365 点,A 股涨幅已超过了 100%。而从市盈率和市净率来分析,似乎也很容易得出 A 股泡沫严重的结论。根据 8 月 3 日汤森路透全球主要股市估值和表现对比表,上证综指的静态市盈率和市净率已经分别达到 28.03 和 3.77,在全球股市中名列前茅。

根据这段文字,作者要表明的观点是:

- A.A 股没有泡沫
- B.A 股的泡沫达到历史最高点
- C.A 股可能存在泡沫
- D.A 股绝对存在泡沫

62.中山装得智于西服,功能又多于西服,魅力也强于西服。其衣服外的四个口袋代表“四维”,即礼、义、廉、耻;衣领为翻领封闭式,表示严谨的治国理念;衣袋上面弧形中间突出的袋盖,笔山形代表重视知识分子;背部不缝缝,表示国家和平统一之大义。新中国的历代领袖穿中山装参加共和国庆典,用意深远,既有不忘革命传统继承革命先烈之志,又有开拓创新实现伟大民族复兴之宏愿。

对这段文字主旨概括最准确的是:

- A.分析“中山装”与西服的异同点
- B.阐述“中山装”的思想含义和政治含义
- C.说明“中山装”所蕴含的特殊历史意义
- D.解释历代领袖穿“中山装”参加国庆庆典的原因

63.中国足球上不去有很多原因,无论是青少年球员的选拔培养,还是职业联赛的打造,抑或是国家队的建设,都存在着大量问题。这些不同层面的问题归结到根本就是:急功近利和弄虚作假,聪明反被聪明误,糊弄了自己的大好前程。足球是一项简单的运动,有其朴素的发展规律,想把足球搞上去,就必须给足球松绑,把附加在足球之上的功利负担卸去,必须摒弃投机取巧之心,在青少年队和俱乐部队中都把球员的技术、意识作为建队之本,整体实力增强之后,国家队的水平水涨船高,为国争光也就水到渠成了。

对这段文字的主旨概括最准确的是:

- A.分析中国足球水平落后的原因
- B.阐发足球运动本身固有的规律
- C.揭示功利倾向对中国足球的危害
- D.指出改变中国足球现状的途径

64.人类为什么能够区别左右?奥秘在于人类的左右大脑是不对称的!动物的大脑是对称的,因而动物不能区分左右。这一设想最初由奥地利物理学家马赫提出,如今已有实验证明,马赫的洞见是正确的。我们的右脑与直觉、情感有关,左脑与逻辑、语言有关。在日常生活中,我们经常也会有这样的体验:一时想不起某物或某景的抽象名词,但却能在大脑中生动地再现其具体模样。这就是左右大脑分工的不同。人类正常的思维活动有赖于左右脑的合作,否则这个世界在我们眼中就会变得荒唐不堪。

这段文字意在表达:

- A.能够区别左右,是证明人类高于动物世界的关键所在

- B.左右大脑的不同分工及合作是人类认识世界的关键
- C.我们的右脑与直觉、情感有关,左脑与逻辑、语言有关
- D.人们总是钟情于对称之美,但有时创造性恰恰寓于不对称中

65.教育家告诉我们,教育的终极目标应当是培养人格健全、智慧闪耀的大写的人。正是从这个意义上考虑,我国近年来努力推行素质教育,期待培养“有素质的新一代”。但实践中,素质教育在很多地方被曲解以致走入误区:很多学校将素质教育和音体美教育或业余爱好教育等同起来。他们没有认识到,人之所以为人,首先不在于他有多少才艺,而在于他以一个社会有机组成的个体意识,珍爱自己的生命,懂得和掌握生存之道,做到了这一点,就是以对社会、对他人负责的精神,构筑了一个个健全而坚强的个体。

这段文字意在说明:

- A.素质教育不等同于培养个体的才艺,还具有更深层的意义
- B.素质教育在实践中变了味,背离了国家推行素质教育的初衷
- C.音体美教育只能培养个体的才艺,对提升其素质帮助不大
- D.真正的素质教育在于培养个体健全的人格和生存、生活之道

※※※第二部分结束,请继续做第三部分! ※※※

第三部分 数量关系

(共 15 题,参考时限 20 分钟)

在这部分试题中,每道题呈现一段表述数量关系的文字,要求你迅速、准确地计算出答案。

请开始答题:

66.一些小朋友排成一行,从左边第一个人开始每隔 2 人发一个苹果;从右边第一个人开始每隔 4 人发一个橘子,结果有 10 个小朋友拿到苹果和橘子,这些小朋友最少有多少人?

- A.108 B.136 C.127 D.158

67.现将 3 个相同的红球和 4 个相同的白球排成一行,要使红球各不相邻,则有多少种排法?

- A.1 B.5 C.10 D.60

68.某次数学竞赛准备了 22 支铅笔作为一、二、三等奖的奖品,原计划一等奖每人发 6 支,二等奖每人发 3 支,三等奖每人发 2 支。后来又改为一等奖每人发 9 支,二等奖每人发 4 支,三等奖每人发 1 支。问共有多少人获奖?

- A.3 B.6 C.8 D.10

69.某宾馆一层客房比二层客房少 5 间,某旅游团 48 人,若全安排在第一层,每间 4 人,房间不够,每间 5 人,则有房间住不满;若全安排在第二层,每间 3 人,房间不够,每间住 4 人,则有房间住不满,该宾馆一层有客房多少间?

- A.9 B.10 C.11 D.13

70.某部门规定:旅客随身携带的行李的长、宽、高的和不能超过 150 厘米。请问,旅客所带的长方体箱子体积不能超过多少立方厘米?

A.100000 B.125000 C.150000 D.180000

71.三个学生共解出 30 道数学题,每人都解出了其中的 12 道,且每道题都有人解出。只有一人解出的题叫做难题,只有两个人解出的题叫做中等题,三人都解出的题叫做容易题。在这 30 道题中,难题、中等题、容易题均有,且题数各不相等,则难题的题数是:

A.14 B.15 C.22 D.25

72.小明和小强从 400 米环形跑道的同一点出发,背向而行。当他们第一次相遇时,小明转身往回跑;再次相遇时,小强转身往回跑;以后的每次相遇分别是小明和小强两人交替调转方向。小明每秒跑 3 米,小强每秒跑 5 米,则在两人第 30 次相遇时,小明共跑了多少米?

A.11250 B.13550 C.10050 D.12220

73.某工程班被派去抢修灾区路面,工程完成 $\frac{1}{3}$ 时,一半人被调去救援群众,剩下的一半人继续工作 4 小时后,两个新兵班被调来支援抢修,每个新兵班的效率是工程班的 35%,最终比原计划提前 3 小时完工,请问原定几小时完工?

A.48 B.42 C.54 D.60

74.100 个孩子按 1、2、3……依次报数,从报奇数的人中选取 k 个孩子,他们所报数字之和为 1949,问 k 最大值为多少?

A.43 B.44 C.45 D.46

75.173□是个四位数,小明在这个□中先后填入 3 个数字,所得到的 3 个四位数,依次可被 9、11、6 整除。问:小明先后填入的 3 个数字的和是多少?

A.19 B.21 C.23 D.17

76.某车间有 30 名工人,计划加工 A、B 两种零件。这些工人按技术水平分成甲、乙、丙三类人员,人数分别为 6、16、8 人。各类人员每人每天单独加工某一种零件的效率如下表。现在要求加工 A、B 零件各 3000 个,请问至少需要多少天?

零件 \ 人员	效率		
	甲	乙	丙
A	50 个	30 个	12 个
B	80 个	60 个	30 个

A.4 B.5 C.6 D.7

77.一批商品,按 25%的利润率定价,卖出 80%后,打折出售,每件商品依然可获利 25 元,所有商品都卖出后,共获利 45000 元,经计算发现,打折出售的商品所获利润仅占总利润的 $\frac{1}{9}$,问该商品销售后期打几折出售?

A.七折 B.七五折 C.八折 D.九折

78.黑板上写着 8,9,10,11,12,13,14 七个数,每次任意擦去两个数,再写上这两个数的和减 1。例如,擦掉 9 和 13,要写上 21。经过几次后,黑板上就会只剩下一个数,这个数是多少?

A.67 B.71 C.73 D.79

79.有 120 名学生报考语文、数学、英语竞赛,已知现在有 35 人报考语文竞赛,45 人报考数学竞赛,55 人报考英语竞赛,其中 30 人同时报考了语文和数学竞赛,26 人同时报考了语文和英语竞赛,38 人同时报考了数学和英语竞赛,问至少还有多少人没有报考任何一科?

A.0 B.41 C.53 D.79

80.某班男生人数比女生人数的一半多 12 人,女生人数比男生人数的 $\frac{1}{3}$ 多 31 人,问这个班共有多少人?

A.78 B.81 C.95 D.75

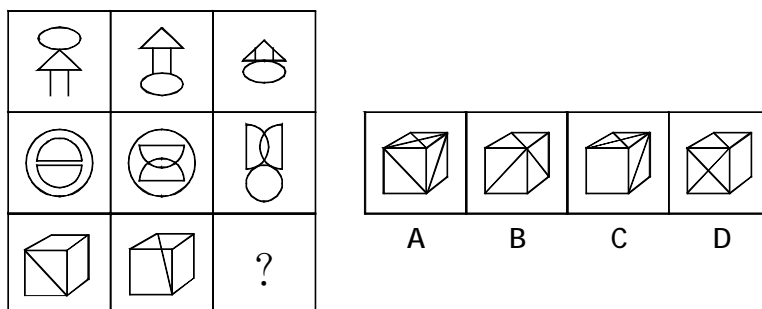
※※※第三部分结束,请继续做第四部分! ※※※

第四部分 判断推理 (共 40 题,参考时限 35 分钟)

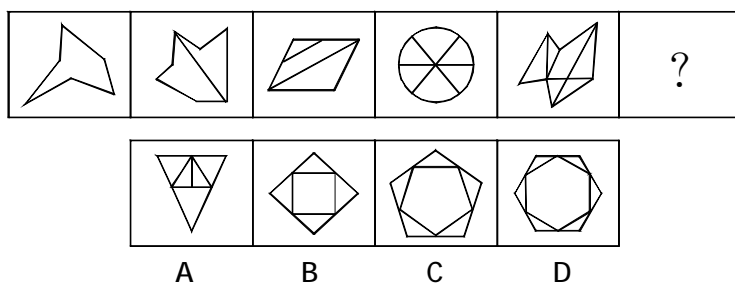
一、图形推理。请按每道题的答题要求作答。

请开始答题:

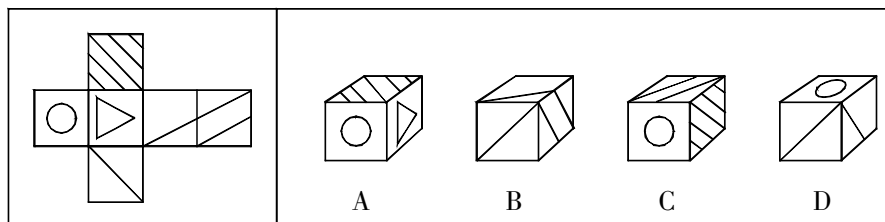
81.从所给的四个选项中,选择最合适的一个填入问号处,使之呈现一定的规律性:



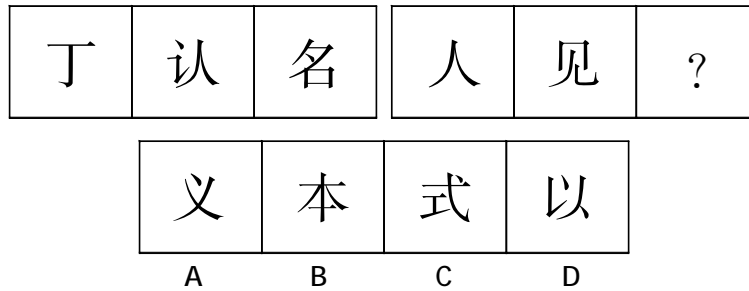
82.从所给的四个选项中,选择最合适的一个填入问号处,使之呈现一定的规律性:



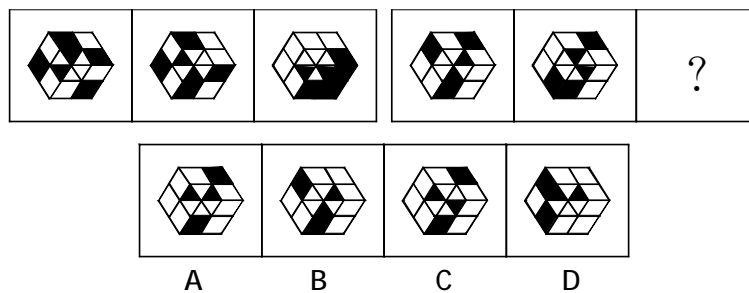
83.左边给定的是纸盒的外表面,下面哪一项能由它折叠而成?



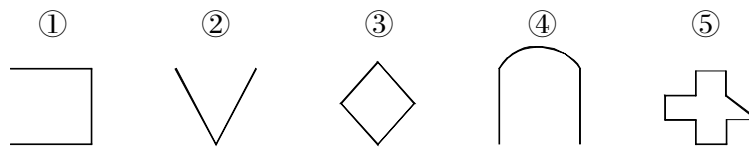
84.从所给的四个选项中,选择最合适的一个填入问号处,使之呈现一定的规律性:



85.从所给的四个选项中,选择最合适的一个填入问号处,使之呈现一定的规律性:



86.将下面的图形重新排列,使这一列图形表现出某种规律。




A.①②③④⑤

B.④②①③⑤

C.①③②⑤④

D.①②③⑤④

87.将下面的图形重新排列,使这一列图形表现出某种规律。




A.②①④③⑤

B.②④①③⑤

C.⑤②①③④

D.⑤①②④③

88.将下面的图形重新排列,使这一列图形表现出某种规律。




A.①②④③⑤

B.⑤①②④③

C.④①②③⑤

D.⑤②④①③

89. 请交换题干中两个图形的位置, 使之呈现一定的规律性。



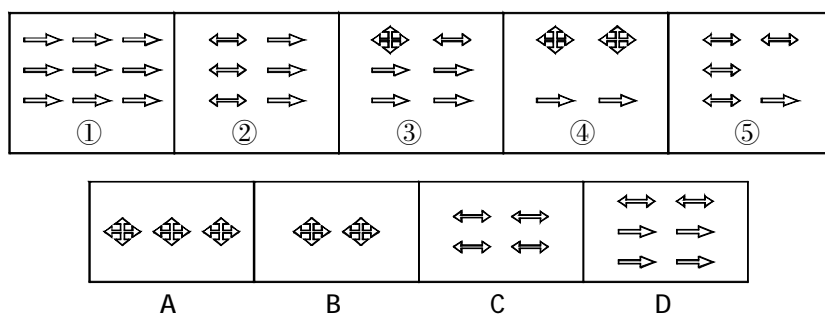
A. ②与⑤互换

B. ④与⑤互换

C. ⑤与⑦互换

D. ⑤与⑧互换

90. 从所给的四个选项中, 选择最合适的一个替换图形④, 使之呈现一定的规律性。



二、定义判断。每道题先给出定义, 然后列出四种情况, 要求你严格依据定义, 从中选出一个最符合或最不符合该定义的答案。注意: 假设这个定义是正确的, 不容置疑的。

请开始答题:

91. 社会公共利益: 指全体社会成员都可以直接享受的利益。

下列不属于维护社会公共利益的是:

A. 某市为了创造良好的投资环境, 决定投巨资修建一条省际高速公路和一座长江大桥, 前期的拆迁安置工作已经做好

B. 某地方政府将原来旧有居民的土地转让给开发商, 开发商在这块地上开发出高级住宅出售

C. 有关部门提出: 北京“秀水市场”存在重大安全隐患, 不利于城市的发展, 有碍城市景观, 为了保障人民安全和财产安全, 必须实行“撤市”

D. 某渡口由于风浪大且年久失修, 已存在很大的安全隐患, 一农民企业家知道后捐资 10 万元重新修建好了该渡口

92. 虚假同感偏差又称“虚假一致性偏差”, 指的是人们常常会高估或夸大自己的信念、判断及行为的普遍性。当遇到与此相冲突的信息时, 这种偏差使人坚持自己的社会知觉。

根据上述定义, 下列不属于虚假同感偏差的是:

A. 小明非常喜欢玩网络游戏, 经常逃课去玩游戏, 他认为那些整天学习的同学, 只不过是家里看得紧才会认真学习

B.一次聚会,小赵点了两盘鱼丸,可却没什么人吃,朋友问小赵:“你点的怎么不吃呢?”小赵说:“我今天胃不太舒服,我觉得鱼丸很好吃,是给你们点的。”

C.木匠甲干活干得大汗淋漓,就把自己的衣服脱掉了,他生怕旁边的孩子也热着,就帮孩子把衣服给脱掉了,导致孩子因受凉而发烧

D.小张和小刘都是哲学系的研究生,经常在一起讨论学术问题,两人往往各执一词,都认为对方是错的

93.职务轮换,也称岗位轮换,是企业有计划的按照大体确定的期限,让员工或管理人员轮换担任若干种不同工作的做法,从而达到考察员工的适应性和开发员工多种能力的目的。

根据上述定义,下列不属于职务轮换的是:

A.新员工在就职培训结束后,让他们在各个工作岗位上轮流工作一定时期,最后才确定他们的正式工作岗位

B.安排员工做不同的工作,开发其潜在能力,以取得多种技能,适应复杂多变的经营环境

C.为了培养经营管理骨干对企业业务工作的全面了解和全局性问题的分析判断能力,对各部门经理级干部实行轮换制

D.对表现优秀的干部和员工进行升职提拔,总公司的部门主管可以升到公司副总或者地方分公司总经理

94.所谓诬告陷害罪是指捏造事实诬告陷害他人,意图使他人受刑事追究,情节严重的行为。

根据上述定义,下列行为构成诬告陷害罪的是:

A.甲捏造“文某强奸幼女”的事实,并向司法部门举报

B.乙与丁某长期不和,便捏造丁某包养情人并匿名举报,使丁某与妻子离婚

C.丙捏造同事万某受贿 10 万元的事实,并印刷大量传单在县城的大街小巷张贴

D.丁匿名举报李某抢劫他人 50 万元。事后查明,李某只抢劫了 5000 元

95.零次情报是指没有正式的固定的载体的,形成一次情报之前的非正规情报。零次情报的“零”具有两个方面的意思:即零散和初始的意思。如果把所获得的零次情报在全社会范围内广泛的、正式的公开发表,那么,零次情报就转化成了一次情报。

根据上述定义,下列属于零次情报来源的一项是:

A.政府工作报告

B.电视新闻报导

C.全国人口普查报告

D.2006 北京统计年鉴

96.形式公正:指个人或权力机关对同样的事件平等对待,以及对所有人按统一标准(而不是根据个人或所从属的特殊集团的立场)施加管束。

根据上述定义,下列属于形式公正的是:

A.国家录用公务员,实行“凡进必考”

B.通过税收杠杆对收入差距进行调节

C.设立保护区,保护濒临灭绝的生物

D.政府对某件商品设立远远低于市场价的指导价

97.服务补救,是指服务性企业在对顾客提供服务出现失败和错误的情况下,对顾客的不满和抱怨当即做出的补救性反应。其目的是通过这种反应,重新建立顾客满意和忠诚。

根据上述定义,下列属于服务补救的是:

A.赵先生在某饭店吃饭时发现一道菜里有头发,饭店老板立刻道歉并且全桌免单

- B.家长抱怨学校为学生提供的住宿条件太差,学校领导请求谅解并决定建新宿舍楼
- C.刘小姐在商场买了一件睡衣,发现质量有问题前去退货,被告知只能调换,无法退货
- D.某品牌巧克力的一批产品在出厂前被检测出大肠杆菌超标,该公司决定将其全部销毁

98.品牌联想是指消费者看到某一特定品牌时,从他的记忆中所能被引发出对该品牌的任何想法,包括感觉、经验、评价、品牌定位等,而这些想法可能来自于消费者在日常生活中的各个层面。

根据上述定义,下列属于品牌联想的一项是:

- A.小芳每次用某个牌子的洗发水时,都会想起自己的初恋男友,因为他一直用这个牌子的洗发水
- B.麦当劳的广告多是以欢乐为主题,并且富有创意,经常让人印象深刻,甚至过目不忘
- C.大伟只要一看见南方黑芝麻糊,就觉得非常亲切,因为会回忆起童年时喝南方黑芝麻糊的幸福时刻
- D.某位著名影星成为某国外电器品牌的代言人,各种代言广告在各大电视台反复播放,以至于观众一看见这位影星就会想起该电器品牌

99.兴趣,是指人对事物的特殊的认识倾向。工作的兴趣激励,就是管理者必须为员工寻求工作的内在意义,也就是要为员工创造工作的内在意义和价值。员工体会到工作的内在意义与价值,才会真正为了这份工作而积极努力,发挥自己的最大力量。

根据上述定义,下列不属于工作的兴趣激励的是:

- A.为新员工进行企业文化培训,使其了解企业的价值观,认识到自己职位的重要性
- B.对管理骨干实行岗位轮换,培养复合型人才,并辅助他们进行职业生涯规划
- C.对工作内容、工作关系等进行设计,既能满足员工个人需要,又能实现组织目标
- D.对员工进行职业培训和定期考核,举办各种讲座,不断提高他们的专业知识水平

100.技术创新:在经济发展理论中,指新技术、新发明在生产中的首次应用,是在生产体系中建立新的生产函数或供应函数,引起一种生产要素和生产条件的新组合,经济学强调技术创新具有非独占性、不确定性、市场性和系统性等特点。

根据以上定义,下列行为属于经济学范畴的技术创新的是:

- A.美国的航天技术极其发达和先进,航天飞机可以在太空自由翱翔
- B.日本某食品制造厂引进国外先进生产技术,提高了产品质量
- C.海尔集团经过不断探索,生产出适合各类人群需要的家用电器,取得极大的市场回报
- D.微软公司的技术可以查到任何一台使用微软的计算机的内容

三、类比推理。每道题先给出一组相关的词,要求你在备选答案中找出一组与之在逻辑关系上最为贴近、相似或匹配的词。

请开始答题:

101.打印机:墨盒

- A.电脑:手指
- B.电筒:电池
- C.纸张:木材
- D.大厦:电梯

102.滑雪:白色

- A.游泳:蓝色
- B.踢球:绿色

C.象棋:黑色

D.晚霞:红色

103.井底之蛙:蛙

A.鼠目寸光:鼠

B.守株待兔:兔

C.虎口拔牙:虎

D.马到成功:马

104.体检:化验:健康

A.质检:公示:达标

B.招聘:面试:录用

C.报关:商标:审核

D.考试:评阅:合格

105.推动:阻碍:阻力

A.按时:迟到:堵车

B.朝霞:傍晚:日落

C.悲伤:幸福:快乐

D.敌人:邻居:街坊

106.茶馆:客人:茶

A.电影院:观众:电影

B.法庭:法官:案件

C.农民:耕种:庄稼

D.医院:病人:疾病

107.医生:看病:病人

A.作家:出书:编辑

B.导游:观光:游客

C.教师:教书:学生

D.演员:拍戏:导演

108.草地 对于 () 相当于 () 对于 棉被

A.地毯 白雪

B.森林 被罩

C.土壤 枕头

D.绿色 温暖

109.() 对于 富足 相当于 丰收 对于 ()

A.饥饿 洪水

B.富有 歉收

C.瑞雪 降雨

D.美好 残酷

110.() 对于 北极熊 相当于 仙人掌 对于 ()

A.北极 蛇

B.科考队 水仙

C.鸟类 植物

D.冰川 骆驼

四、逻辑判断。每道题给出一段陈述,这段陈述被假设是正确的,不容置疑的。要求你根据这段陈述,选择一个答案。注意:正确的答案应与所给的陈述相符合,不需要任何附加说明即可以从陈述中直接推出。

请开始答题:

111.美国的一个动物保护组织试图改变蝙蝠在人们心目中一直存在的恐怖形象。这个组织认为,蝙蝠之所以让人觉得可怕和遭到捕杀,仅仅是因为这些羞怯的动物在夜间表现得特别活跃。

以下哪项如果为真,将对上述动物保护组织的观点构成最严重的质疑?

A.蝙蝠之所以能在夜间特别活跃,是由于它们具有在夜间感知各种射线和声波的特殊能力

B.蝙蝠是夜间飞行昆虫的主要捕食者。在这样的夜间飞行昆虫中,有很多是危害人类健康的

C.蝙蝠在中国及其它许多国家同样被认为是一种恐怖的飞禽

D.美国人熟知的浣熊和中国人熟知的食蚊雀,都是些在夜间特别活跃的羞怯动物,但在人们的心目中一般并没有恐怖的印象

112.旅行社刚刚为三位旅客预订了飞机票。这三位旅客是荷兰人比尔、加拿大人伯托和英

国人丹皮。他们三人一个去荷兰、一个去加拿大、一个去英国。据悉比尔不打算去荷兰,丹皮不打算去英国,伯托既不去加拿大,也不去英国。

由此可以推出:

- A.伯托去荷兰,丹皮去英国,比尔去加拿大
- B.伯托去荷兰,丹皮去加拿大,比尔去英国
- C.伯托去英国,丹皮去荷兰,比尔去加拿大
- D.伯托去加拿大,丹皮去英国,比尔去荷兰

113.美国某大学医学院的研究人员在《小儿科杂志》上发表论文指出,在对 2702 个家庭的孩子进行跟踪调查后发现,如果孩子在 5 岁前每天看电视超过 2 小时,他们长大后出现行为问题的风险将会增加 1 倍多。所谓行为问题是指性格孤僻、言行粗鲁、侵犯他人、难与他人合作等。

以下哪项最好地解释了以上论述?

- A.电视节目会使孩子产生好奇心,容易导致孩子出现暴力倾向
- B.电视节目中有不少内容容易使孩子长时间处于紧张、恐惧的状态
- C.看电视时间过长,会影响孩子与其他人的交往,久而久之,孩子便会缺乏与他人打交道的经验
- D.每天长时间地看电视,容易使孩子神经系统产生疲劳,影响身心发展

114.新型平板电脑比传统平板电脑更便捷,它安装了新型操作系统,因此,新型平板电脑的销售情况比传统平板电脑好。

下列最能削弱上述观点的是:

- A.某些平板电脑使用者的使用环境和平常人不同
- B.传统平板电脑最常用的功能在新型平板电脑中找不到
- C.新型平板电脑的操作系统是全新的
- D.无论平板电脑使用何种操作系统,使用习惯都因人而异

115.由工业垃圾掩埋带来的污染问题在中等发达的国家中最为突出,而在发达国家与不发达国家中反而不突出。不发达国家是因为没有多少工业垃圾可以处理。发达国家或者是因为有效地减少了工业垃圾,或是是因为有效地处理了工业垃圾。H 国是中等发达国家,因此,它目前面临的由工业垃圾掩埋带来的污染在五年后会有实质性的改变。

以下哪项最可能是上述论证所假设的?

- A.H 国将在五年内成为发达国家
- B.H 国将在五年内有效地处理工业垃圾
- C.H 国五年内保持其发展水平不变
- D.H 国将在五年内有效地减少工业垃圾

116.某中药配方有如下要求:(1)如果有甲药材,那么也要有乙药材;(2)如果没有丙药材,那么必须有丁药材;(3)人参和天麻不能都有;(4)如果没有甲药材而有丙药材,则需要有人参。

如果含有天麻,则关于该配方的断定哪项为真?

- A.含有甲药材
- B.没有丙药材
- C.没有乙药材和丁药材
- D.含有乙药材或丁药材

117.2009 年 12 月初,两院院士新增选名单相继公布,继而有统计数据披露:中国科学院新增的 35 名院士中,八成是高校或研究机构的现任官员,中国工程院新增的 48 名院士中,超过 85%是现任官员;工程院 60 岁以下新当选的院士,均有校长、院长、副院长、董事长等职务。所

以有人认为,“官员身份”在院士评选中起到了非常大的作用。

以下哪一项正确,最能对上述结论构成反驳?

- A.院士评选没有规定官员不能当选
- B.许多非常优秀的学者担任了行政职务
- C.有官员身份的学者占学者整体的比例不大
- D.优秀的官员可以兼任学者

118.乐意讲或者听有关自己的有趣故事或笑话,是一个人极为自信的标志。这种品格常常只在人们较为成熟时才会具有,它比默许他人对自己开玩笑的良好品质还要豁达。

由此可以推出:

- A.具有高度自信的人,不讲别人的笑话或有关别人的有趣故事
- B.许多人宁愿自己讲一个有趣故事或笑话,而不愿听别人讲
- C.一个缺乏自信的人既不乐意讲、也不乐意听有关他自己的有趣故事和笑话
- D.当着一个人的面讲述他的有趣故事或笑话,是表示对他尊敬的一种方式

119.一块石头被石匠修整后,曝露于自然环境中时,一层泥土和其他的矿物便逐渐地开始在刚修理过的石头的表面聚集。这层泥土和矿物被称作岩石覆盖层。在安迪斯纪念碑的石头覆盖层下面,发现了被埋藏一千多年的有机物质。那些有机物质肯定是在石头被修理后不久就生长到它上面的,因此,那个纪念碑是在 1492 年欧洲人到达美洲之前很早建造的。

下面哪一项,如果正确,能最严重地削弱上述论述?

- A.岩石覆盖层自身就含有有机物质
- B.在安迪斯,1492 年前后重新使用古人修理过的石头的现象非常普遍
- C.安迪斯纪念碑与在西亚古代遗址发现的纪念碑极为相似
- D.最早的关于安迪斯纪念碑的书面资料始于 1778 年

120.自 1990 年到 2005 年,中国的男性超重比例从 4%上升到 15%,女性超重比例从 11%上升到 20%。同一时期,墨西哥的男性超重比例从 35%上升到 68%,女性超重比例从 43%上升到 70%。由此可见,无论在中国还是在墨西哥,女性超重的增长速度都高于男性超重的增长速度。

以下哪项陈述最准确地描述了上述论证的缺陷?

- A.某一类个体所具有的特征通常不是由这些个体所组成的群体的特征
- B.论证中提供的论据与所得出的结论是不一致的
- C.中国与墨西哥两国在超重人口的起点上不具有可比性
- D.在使用统计数据时,忽视了基数、百分比和绝对值之间的相对变化

※※※第四部分结束,请继续做第五部分!※※※

第五部分 资料分析
(共 15 题,参考时限 15 分钟)

所给出的图、表、文字或综合型资料均有若干个问题要你回答。你应根据资料提供的信息进行分析、比较、计算和判断处理。

请开始答题:

一、根据以下资料,回答 121~125 题。

图 1:2003-2008 年我国国内生产总值与社会消费品零售总额(亿元)

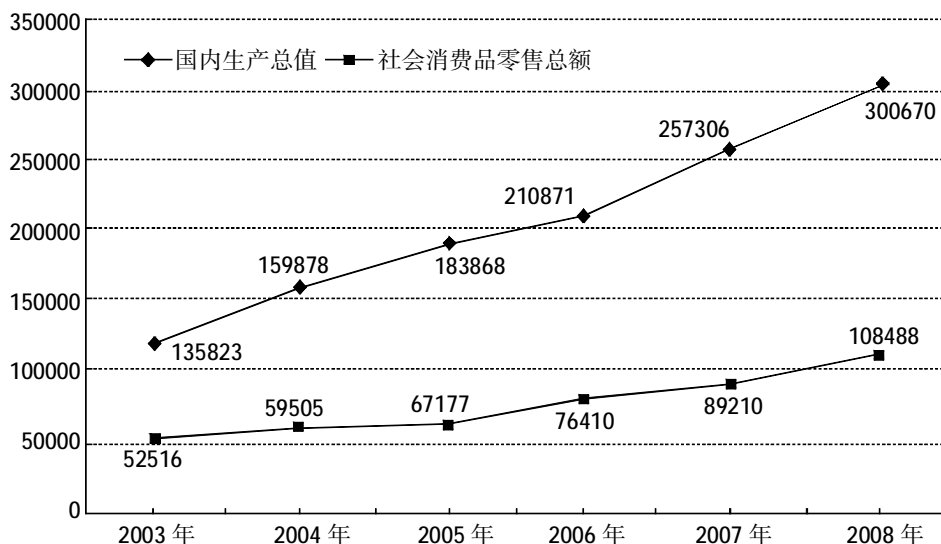
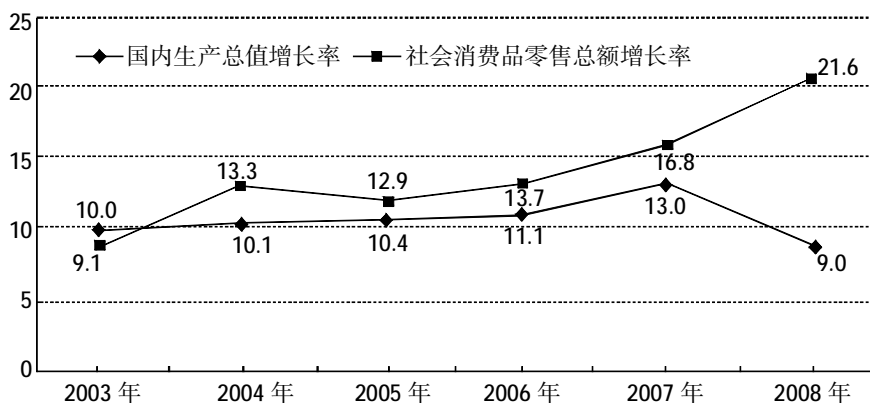


图 2:2003-2008 年我国国内生产总值与社会消费品零售总额增长率(%)



121.2003-2008 年我国国内生产总值的年平均增长量是:

- A.36581 亿元 B.32969 亿元
C.30521 亿元 D.27138 亿元

122.2003-2008 年我国社会消费品零售总额的增长了:

- A.53.6% B.78.3% C.106.6% D.206.6%

123.2003-2008 年中,社会消费品零售总额与国内生产总值之比最大的年份是:

- A.2003 年 B.2004 年 C.2006 年 D.2007 年

124.2003-2008 年国内生产总值的总和是:

- A.95 万亿元 B.105 万亿元
C.115 万亿元 D.125 万亿元

125.下列说法中,正确的有:

- (1)2004-2008 年我国国内生产总值呈逐年递增态势
(2)2004-2008 年我国国内生产总值的年增长率呈逐年递增态势
(3)2004-2008 年我国社会消费品零售总额呈逐年递增态势
(4)2004-2008 年我国社会消费品零售总额的年增长率呈逐年递增态势

- A.4 项 B.3 项 C.2 项 D.1 项

二、根据以下资料,回答 126~130 题。

2008 年全年某省农作物总播种面积 6606.46 万亩,同比增长 0.9%。主要品种中,粮食作物面积 3749.91 万亩,同比增长 0.8%。其中:稻谷面积 2920.35 万亩,同比增长 0.4%。甘蔗面积 224.51 万亩,油料作物面积 485.81 万亩,烟叶面积 35.23 万亩,蔬菜面积 1668.94 万亩,同比分别增长 1.5%、4.3%、19.9%和 4.5%;木薯面积 128.38 万亩,瓜类面积 60.64 万亩,青饲料面积 93.09 万亩,同比分别下降 10.4%、9.8%和 17.6%。

2008 年全年该省粮食作物产量 1243.44 万吨,同比下降 3.2%。其中:稻谷产量 1003.30 万吨,同比下降 4.1%。甘蔗产量 1198.84 万吨,油料产量 81.54 万吨,烟叶产量 4.93 万吨,蔬菜产量 2431.43 万吨,同比分别增长 1.5%、4.9%、18.2%和 3.4%;木薯产量 158.89 万吨,瓜类产量 97.78 万吨,青饲料产量 125.34 万吨,同比分别下降 9.0%、8.2%和 23.4%。

126.2007 年,该省农作物总播种面积约()万亩。

- A.6320 B.6548 C.6453 D.6423

127.2007 年,亩产量最高的作物是:

- A.稻谷 B.甘蔗 C.蔬菜 D.木薯

128.2007-2008 年,总产量绝对值变动最大的作物是:

- A.稻谷 B.蔬菜
C.瓜类 D.青饲料

129.2007 年全年该省农作物总播种面积中,稻谷的种植面积约为()万亩。

- A.2932 B.2909 C.2920 D.2890

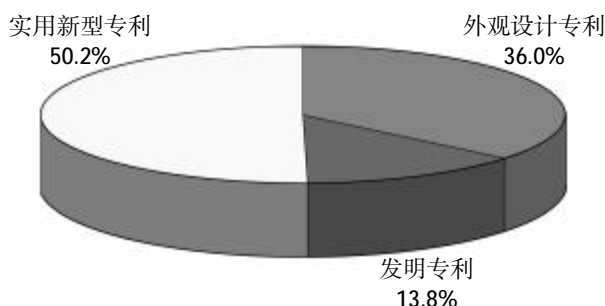
130.根据材料,下列说法中正确的有()项。

- I.2008 年,稻谷种植面积占农作物总种植面积比重低于产量占农作物产量比重
II.2007 年,油料作物播种面积不足 460 万亩,产量超过 78 万吨
III.2008 年,资料中所提及的农作物中,亩产量同比上升的有 3 种

- A.0 B.1 C.2 D.3

三、根据以下资料,回答 131~135 题。

截止 2008 年底,我国的有效专利总量为 119.5 万件。分专利类型看,发明专利、实用新型专利和外观设计专利所占比重分别为 28.2%、39.3%和 32.5%。从专利的国别特征看,国内有效专利和国外有效专利分别为 92.4 万件和 27.1 万件,分别占 77.3%和 22.7%。



国内有效专利按专利类型的分布(2008 年)

131.我国有效实用新型专利总量为:

- A.45.1 万件 B.46.3 万件
C.47.0 万件 D.48.0 万件

132.我国国内有效发明专利占有效专利的比重为:

- A.10.7% B.11.1% C.11.5% D.11.9%

133.我国国外有效专利中,外观设计专利占比为:

- A.13.5% B.20.6% C.30.6% D.34.7%

134.我国国外有效专利中占比最大是:

- A.发明专利 B.实用新型专利
C.外观设计专利 D.无法比较

135.根据所给材料,下列说法中正确的有:

- Ⅰ.我国有效专利中,外观设计专利比发明专利多 5 万件以上
Ⅱ.我国有效实用新型专利中,国内专利不足九成五
Ⅲ.2008 年我国国内专利总量约是国外专利总量的 3.4 倍

- A.0 个 B.1 个 C.2 个 D.3 个

※※※全部测验到此结束! ※※※