

2012 年度国家公务员录用考试 《行政职业能力测验》全真模拟预测试卷(四)

注意事项

- 1.行政职业能力测验共有五个部分,135 道题,总时限为 120 分钟。各部分不分别计时,但都给出了参考时限,供答题时参考。
- 2.将姓名与准考证号在指定位置上用黑色字迹的钢笔、签字笔或圆珠笔填写,并用 2B 铅笔在准考证号对应的数字上填涂。
- 3.请将题本上的条形码揭下,贴在答题卡指定位置。没有贴条形码的答题卡将按作废处理,成绩计为零分。
- 4.题目应在答题卡上作答,在题本上作答一律无效。
- 5.待监考老师宣布考试开始后,你才可以开始答题。
- 6.监考老师宣布考试结束时,你应立即停止作答,将题本、答题卡和草稿纸都翻过来放在桌上,待监考老师确认数量无误、发出离开指令后,方可离开考场。
- 7.试题答错不倒扣分。
- 8.严禁折叠答题卡!

第一部分 常识判断 (共 25 题,参考时限 15 分钟)

根据题目要求,在四个选项中选出一个最恰当的答案。

请开始答题:

- 1.十七大报告指出,改革开放以来我们取得一切成绩和进步的根本原因,归结起来就是:
A.开辟了中国特色社会主义道路,形成了中国特色社会主义理论体系
B.坚持“一个中心,两个基本点”的原则绝不动摇
C.坚持和完善社会主义市场经济体制绝不动摇
D.高举邓小平理论伟大旗帜绝不动摇
- 2.教育、科技和_____,是国家强盛、民族振兴的基石,也是综合国力的核心。
A.国防 B.对外贸易 C.农业 D.人才
- 3.关于 2010 年 11 月 12 日开幕的广州亚运会,以下说法不正确的是:
A.是第十七届亚洲运动会
B.刷新了 3 项世界纪录、15 项亚洲纪录和 27 项亚运会纪录

C.中国体育代表团取得了 199 枚金牌、416 枚奖牌的优异成绩

D.中国体育代表团连续八届名列亚运会金牌榜首位

4.下列表述中正确的是:

A.GDP 的计算包含了伴随经济增长而来的生态与环境变化的影响

B.G20 峰会的宗旨是推动新兴市场国家之间就实质性问题进行讨论和研究,以寻求合作并促进国际金融稳定和经济持续发展

C.“金砖四国”指的是巴西、俄罗斯、印度、中国四个国家

D.东盟是指东亚五国为致力于经济一体化建设而建立的区域性国家联盟

5.中国共产党同民主党派坚持_____的方针,这个方针是正确处理中国共产党同民主党派关系的重要准则。

A.长期共存、互相监督、肝胆相照、荣辱与共

B.团结合作、协商共事

C.长期共存、互相监督

D.政治协商、民主监督、参政议政

6.根据《全国人民代表大会和地方各级人民代表大会代表法》,下列说法不正确的是:

A.代表出席本级人民代表大会会议,参加闭会期间统一组织的履职活动,优先执行本人的生产和工作

B.代表受原选区选民或者原选举单位的监督

C.全国人民代表大会会议期间,三十名以上的代表联名,有权书面提出对国务院的质询案

D.代表的活动经费,应当列入本级财政预算予以保障,专款专用

7.下列有关我国的社会保险制度,说法不正确的是:

A.国务院和省、自治区、直辖市人民政府建立健全社会保险基金监督管理制度

B.基本养老保险基金由用人单位和个人缴费以及政府补贴等组成

C.医疗费用依法应当由第三人负担,第三人不支付或者无法确定第三人的,由基本医疗保险基金先行支付

D.职工应当参加工伤保险,由用人单位和职工本人共同缴纳工伤保险费

8.根据《海岛保护法》,下列说法不正确的是:

A.无居民海岛属于国家所有,国务院代表国家行使无居民海岛所有权

B.沿海县级以上地方人民政府应当按照国家规定,在需要设置海岛名称标志的海岛设置海岛名称标志

C.任何单位和个人都有保护海岛领海基点的义务

D.沿海县级以上地方人民政府应当依法对无居民海岛保护和合理利用情况进行监督检查

9.关于我国现代史,以下说法不正确的是:

A.川藏、青藏、新藏公路的建成是在“一五”计划时期

B.中国共产党党史上的两次重大、具有深远意义的转折点是遵义会议和十一届三中全会

C.在瓦窑堡会议上制定了抗日民族统一战线,是第一次国共合作

D.七届二中全会在西柏坡举行

10.关于我国能源现状,以下说法不正确的是:

A.我国波浪能发电技术达到国际先进水平

B.我国的核电技术已经具备独立自主规模化生产核心设备的能力

C.我国的智能电网被定义为“坚强的智能化电网”

D.风电设备被列入国家产能过剩和重复建设产业

11.关于我国的水利工程,说法不正确的是:

A.建于公元前 214 年的灵渠,是世界最古老的水利工程

B.三峡水电站,位于重庆市市区到湖北省宜昌市之间的长江干流上

C.坎儿井被称为中国古代三大工程之一

D.京杭大运河是世界上开凿最早,里程最长的大运河

12.关于我国宗教,表述不正确的是:

A.我国宗教徒信奉的主要有佛教、道教、伊斯兰教、天主教和基督教

B.佛教是我国土生土长的宗教

C.中国实行宗教与教育分离的原则,在国民教育中,不对学生进行宗教教育

D.伊斯兰教于公元 7 世纪传入中国

13.当经济发展中出现有效需求不足时,需要_____,以刺激经济增长,增加就业。

A.增发国债,增加税收,增加转移支付

B.降低存款准备金率

C.在公开市场上卖出有价证券

D.提高再贴现率

14.关于我国的节气,以下说法不正确的是:

A.公元前 104 年,由邓平等制定的《太初历》,正式把二十四节气订于历法,明确了二十四节气的天文位置

B.“杨花落尽子规啼”反映的是四川盆地谷雨时节的景象

C.节气反映了月球围绕地球运动的过程

D.二十四节气的命名反应了季节、物候现象、气候变化三种,其中,反映物候现象的有惊蛰、清明

15.关于我国的教育,以下说法正确的是:

A.2006 年 9 月 1 日起,我国实现城乡义务教育全部免除学杂费

B.唐代的教育十分繁荣,中央设国子监,是大学的专称

C.春秋战国时期的孔子、孟子、荀子、董仲舒等都是我国古代伟大的教育家

D.礼、乐、射、御、书、数为六艺

16.坚持中国特色农业化道路的首要目标是:

A.保障国家粮食安全

B.加强农村基础设施建设和公共服务

C.增加农村居民收入

D.建设社会主义新农村

17.中国奉行防御性的国防政策,在战略上坚持_____的原则。

A.不首先使用核武器

B.不与任何国家进行核军备竞赛

C.防御、自卫和后发制人

D.反恐维稳、应急救援

18.下面关于气候变化与绿色碳汇说法不正确的是:

A.全球气候变暖主要是由于排放过多二氧化碳气体造成的

B.全球变暖会造成山地冰川消融、全球海平面上升、全球水循环过程加强

C.全球变暖主要是自然因素形成的

D.森林碳汇是指森林生态系统通过光合作用减少大气中二氧化碳浓度的机制

19.“民之所忧,我之所思;民之所思,我之所行”。这一诗句体现了百家争鸣时期:

A.尚力、尚贤,主张节俭的墨家思想

B.关注民生、注重和谐的儒家思想

C.以改革促发展的法家思想

D.“无为而治”的道家思想

20.以下说法不正确的是:

A.汉武帝时期,“罢黜百家,独尊儒术”,加强思想控制

B.春秋时代的老子是道家学派的创始人,具有朴素的辩证思想,代表作为《道德经》

C.西汉人王充是两汉时期杰出的唯物主义思想家

D.宋代的哲学思想是程朱理学,朱熹是集大成者,著有《四书集注》

21.以下说法不正确的是:

A.第 112 号化学元素命名为“Copernicium”是为了纪念著名天文学家哈雷

B.李政道和杨振宁是首两位获诺贝尔奖的美国籍华人

C.地震按震级大小划分为弱震、有感地震、中强震和强震

D.截至 2010 年 9 月,我国南极陨石收集量仅次于日本、美国,位居世界第三

22.19 世纪 60、70 年代,随着光学研究的发展,一个以表现“光”和“色”和谐统一的画派出现了,下列画家是这一画派代表人物的是:

A.德拉克洛瓦

B.梵高

C.罗丹

D.毕加索

23.以下各项,说法不正确的是:

A.中国戏曲发端于远古时期祭祀神鬼的仪式

B.提出“三纲”、“五常”的人是董仲舒

C.我国“四大发明”中,出现最早的是指南针

D.现代汉语方言共有十大方言

24.关于电子信息技术,以下说法正确的是:

A.光计算可以抗电磁干扰

B.量子计算机于 2010 年面世

C.光纤通信的传输过程没有任何损耗

D.DNA 计算是人类基因组计划的一部分

25.下列日常生活的说法,不正确的是:

A.空调车车窗玻璃设计成双层是为了防止传热

B.汽车在夜间行驶时,车内一般不开灯,是为了防止车内乘客在司机前的挡风玻璃上成像,干扰司机正确判断

C.触电时“抽不出”是由于电流形成的磁场吸引着触电处,所以离不开

D.铅笔笔杆上常有“H”、“B”等标识,“H”越多,代表笔芯越硬;B 越多,代表笔芯越软

※※※第一部分结束,请继续做第二部分!※※※

第二部分 言语理解与表达

(共 40 题,参考时限 35 分钟)

本部分包括表达与理解两方面的内容。请根据题目要求,在四个选项中选出一个最恰当的答案。

请开始答题:

26.生命是一场充满意外收获的伟大_____,看上去难以掌握,其实_____无处不在。

填入划横线部分最恰当的一项是:

- A.冒险 机遇 B.历程 惊险
C.历险 机会 D.奇迹 刺激

27.经济“好”的时候,大家趋向于投资_____,而经济“坏”的时候,人们争相追逐_____。

中国有句老话一言蔽之:盛世藏古玩,乱世藏黄金。

填入划横线部分最恰当的一项是:

- A.实业 资产 B.期权 实物
C.商品 期权 D.资产 商品

28.神话基本上不是靠理性原则、逻辑思维来安排的,而是依_____展开,因此充满了_____的色彩。神话之中的神,往往都会有明显的情绪表现,代表着一种尚未经过文化陶冶及修饰的,较为自然、原始、粗糙的人性面貌。

填入划横线部分最恰当的一项是:

- A.情感 感性 B.情节 朴实
C.情绪 率性 D.情趣 喜剧

29.只有当买房者看懂了,搞清了,具备了和房产商讨价还价的条件,专家所大声疾呼的市场定价才会有合理性。否则,再激烈的“炮轰”也只能算是_____。

填入划横线部分最恰当的一项是:

- A.外柔内刚 B.英雄气短 C.色厉内荏 D.虚有其表

30.牺牲在抗灾前线的年轻战士武文斌:山崩地裂之时,绿色的迷彩撑起了生命的希望,他竖起了旗帜,自己却悄然倒下,在那灾难的_____背景下,他 26 岁的青春,是_____的那束光。

填入划横线部分最恰当的一项是:

- A.沉重 明亮 B.阴森 耀眼
C.黑色 最亮 D.慌乱 绚丽

31.中国人民海军要_____的使命,是进一步加强以信息技术为中心的多样化军事行动能力建设,_____构建起与维护国家海洋安全和发展利益要求相适应的海上防卫体系,在维护世界海洋和平的舞台上发挥日益重要的作用。

填入划横线部分最恰当的一项是:

- A.执行 逐步 B.履行 逐步
C.履行 逐渐 D.执行 逐渐

32.守住人生的底线是做人的起码要求,需一辈子努力践行。现实生活中的一些细枝末节,往往也_____人的品格,拷问人的_____。

填入横线部分最恰当的一项是:

- A.检验 灵魂 B.锻炼 内心 C.表现 精神 D.反映 意志

33.《功夫熊猫》的热映说明“中国元素”已不仅仅只是好莱坞电影中的_____,它甚至已经成好莱坞电影导演的灵感来源。片中“功夫”和“熊猫”两个主要元素都来自中国文化,而猴王、老虎、螳螂、毒蛇、丹顶鹤等五大高手更是把中国功夫中的轻功演绎得_____。

填入划横线部分最恰当的一项是:

- A.点缀 惟妙惟肖 B.卖点 栩栩如生
C.陪衬 精妙绝伦 D.题材 活灵活现

34.一些少数民族近年来调整发展思路,经济实现了由畜牧业主导向工业主导的历史性转变。牧民们结束了“_____”、“穹庐帷帐”的游牧生活,住进了砖瓦房,各类设施、电器_____。

填入划横线部分最恰当的一项是:

- A.家徒四壁 应有尽有 B.居无定所 一应俱全
C.四海为家 纤悉必具 D.随遇而安 有求必应

35.社会各界更加关心残疾人群体,残疾人平等参与社会生活的环境进一步_____,现代文明社会的残疾人观逐步_____。

填入划横线部分最恰当的一项是:

- A.改变 取得共识 B.改进 深得人心
C.改善 深入人心 D.完善 初见成效

36.要想有效地管理时间,首先必须搞清楚自己的时间到底是怎么被花掉的,弄清楚自己消费的方式和_____,一个_____的方法就是追踪时间、做时间记录。

填入划横线部分最恰当的一项是:

- A.习惯 无济于事 B.方法 简单有效
C.风格 行之有效 D.喜好 立竿见影

37.我们总是记住痛苦,记住尴尬,记住折磨,而不懂得一个人如果_____太多,生活之路走起来就不_____了。你对记忆的_____和选择,决定了你的生活是快乐还是忧愁。

填入划横线部分最恰当的一项是:

- A.承载 容易 采擷 B.忘却 快乐 舍弃
C.背负 轻松 取舍 D.顾虑 简单 忘却

38.从心理学的角度来说,_____地表达自己想法的人更加具有领导者的_____。

填入划横线部分最恰当的一项是:

- A.无所顾忌 气质 B.肆无忌惮 潜质
C.无所顾忌 潜质 D.肆无忌惮 气质

39.舒芜读《伐木日记》而作名篇《让那伐木者醒来》,_____的声音,让知识界为之警醒。

填入划横线部分最恰当的一项是:

- A.振聋发聩 B.震耳欲聋 C.声嘶力竭 D.激昂慷慨

40.随着手机的普及,短信文化正呈现蓬勃发展、_____的态势,对广大群众和社会生活

的方方面面产生了深远而广泛的影响,我们决不能单纯地将手机短信看成一种信息沟通 _____ 和游戏娱乐_____。

填入划横线部分最恰当的一项是:

- A.轰轰烈烈 媒介 方式 B.方兴未艾 手段 平台
C.蒸蒸日上 形式 目的 D.欣欣向荣 条件 工具

41.以“海派清口”爆红的周立波将出“个人词典”——收集汇总由他制造的“热词”。如今“潮人潮语”_____,有人觉得新鲜有趣,更多的人则_____。

填入划横线部分最恰当的一项是:

- A.数不胜数 莫衷一是 B.层出不穷 无所适从
C.屡见不鲜 如坠云雾 D.比比皆是 不堪其忧

42.在一抹缠绵而又朦胧的夕照的_____下,四周高耸着的伦敦城的房顶和烟囱,似乎就像监狱围墙上的雉堞。从三楼的窗户_____,景色并不令人怡然自得——庭院满目萧条,死气沉沉的秃树_____了暮色。

填入划横线部分最恰当的一项是:

- A.映衬 遥看 划破 B.映衬 鸟瞰 刺破
C.衬托 远望 划破 D.衬托 鸟瞰 打破

43.孩子,在奔跑的过程中,我希望你的步调是_____的,步伐是稳健的,步韵是_____的,步态是_____的。

填入划横线部分最恰当的一项是:

- A.和谐 匀速 优雅 B.匀速 和谐 优雅
C.和谐 优雅 匀速 D.匀速 优雅 和谐

44.作为一名学者,应该具有人格独立、坚持真理的铮铮_____,潜心专注、严谨务实的学术_____,还应该具有虚怀若谷、光风霁月的谦谦_____。

填入划横线部分最恰当的一项是:

- A.风骨 风度 风范 B.风范 风格 风度
C.风骨 风范 风度 D.风格 风骨 风范

45.林则徐小时候去应童子试,因人群拥挤,他的父亲就扛着他进考场。考官见他父子这副样子,开玩笑道:“骑父作马”,引起_____,弄得林则徐父亲十分尴尬。谁知,林则徐脱口而出:“望子成龙”。满场为之_____。林则徐的回答既解除了父亲的_____,又道出了父亲盼儿成才的心情,一时传为佳话。

填入划横线部分最恰当的一项是:

- A.拍手叫好 惊喜欲狂 窘境 B.唏嘘一片 惊愕失色 困境
C.哄堂大笑 惊叹不已 窘迫 D.一片喝彩 惊叹不已 尴尬

46.在伊索寓言中,有这样一个故事:老鼠们在一起开会,商讨怎样才能不被猫抓住。其中一只老鼠提议,在猫的脖子上挂一个铃铛。全体老鼠欢声雷动:“这个主意太好了!”但当有鼠问,怎样才能将铃铛挂到猫的脖子上时,刹那间全体老鼠鸦雀无声。

这个故事所包含的道理不包括:

- A.有时候,方法比想法更重要
B.敢想敢做,梦想才有可能变为现实

C.没有方法对应的想法,是没有价值的

D.想法要切合实际,否则就是空想

47.心理层面上,中国人对自身的确认,有“身体发肤,受之父母,不敢毁伤,孝之始也”的观念,使生命受之于一个体细胞的“克隆”,可能使人们难以接受,并且失却对生命的神圣感。在技术层面上,有性繁殖是自然进化的结果,它所包含的确定性和不确定性,基本上能够保证人类适应自然的生存条件;但是“克隆人”在进化上的不确定性,是否有利于他们适应自然而生存,人们还难以预料。

这段文字的主旨概括最确切的是:

A.“克隆”技术面临的难关

B.中国人的生命观念与“克隆人”技术的冲突

C.有性繁殖与无性繁殖的主要区别

D.中国人难以接受“克隆人”技术的原因

48.人的大脑分为功能不同的左右两个半球,中间由一个叫做“胼胝体”的神经组织带相连,负责两半球间信息传输。研究发现,女性的胼胝体比男性更大。这意味着女性负责情感能力的右脑与负责分析能力的左脑连接更紧密。这一点可以解释为什么女性比男性在情感上更加敏感,并且在思考和说话时时常受情绪影响。在处理复杂问题时,女性往往调动两侧大脑同时工作,而男性则会根据工作性质不同只用一侧大脑工作。

对这段文字理解不正确的一项是:

A.女性在情感上的敏锐与其大脑的独特结构有关

B.在处理复杂问题上,女性比男性有着天然的优势

C.男性和女性在大脑的结构和功能上存在诸多差异

D.人大脑的两个半球担负不同功能,但可以相互传输信息

49.安定的住房,是尊严的前提,幸福的第一步。城市如果让生活更美化,就要从让每个人都住有所居开始。但住房问题又是城市最大的挑战,“房荒是城市特有的问题”。恩格斯 1872 年的名著《论住宅问题》就提出住房问题的根源是城市和城乡发展不平衡的问题。城市化和工业化带来人口在城市的高度集中,带来城市土地资源的稀缺,从而产生住房需求和供给之间的巨大反差。住房短缺是一种典型的“城市病”。

这段文字意在说明:

A.住有所居是尊严的前提,幸福的基础

B.住房问题的产生和解决与城市发展密切相关

C.资源的集聚效应和稀缺效应是相伴而生的

D.住房短缺是伴随城市发展而产生的“城市病”

50.美国研究人员的一项研究显示,非洲最高峰乞力马扎罗山山峰的积雪正在快速融化,20年后乞力马扎罗山山峰的积雪可能消失殆尽。自 2000 年以来,乞力马扎罗山山峰的积雪减少了 26%,2007 年时,山峰积雪覆盖的面积比 1912 年时缩小了 85%。造成山峰积雪减少的最主要原因可能是气候变暖,而云的变化和降雪量的变化则是次要因素。

最能反映这段文字原意的是:

A.2007 年乞力马扎罗山山峰的积雪覆盖面积是 1912 年的 15%

B.进入 21 世纪,乞力马扎罗山山峰积雪的融化速度越来越快

C.如果不能改变气候变暖的趋势,乞力马扎罗山山峰积雪可能在 20 年后消失殆尽

D.进入 20 世纪,乞力马扎罗山山峰积雪开始融化

51.阴山以南的沃野不仅是游牧民族的苑囿,也是他们进入中原地区的跳板,只要占领了这个沃野,他们就可以强渡黄河,进入汾河或黄河河谷。如果他们失去了这个沃野,就失去了生存的依据,史载“匈奴失阴山之后,过之未尚不哭也”,就是这个原因。而汉族如果要排除从西北方面袭来的游牧民族的威胁,也必须守住阴山的峪口,否则这些骑马的民族就会越过鄂尔多斯沙漠,进入汉族居住区的心脏地带。

这段文字的中心意思是:

A.表明游牧民族和汉族都企图占据阴山以南的沃野

B.说明阴山以南的沃野对游牧民族和汉族具有同等重要的作用

C.指出阴山以南的沃野不仅是游牧民族的苑囿,也是他们进入中原地区的跳板

D.阐述阴山以南的沃野对游牧民族和汉族的战略意义

52.中国近代人物都比较复杂,它的意识形态方面的代表更是如此。社会解体的迅速,政治斗争的剧烈,新旧观念的交错,使人们思想经常处在动荡、变化和不平衡的状态中。先进者已接受或迈向社会主义思想,落后者仍抱住“子曰诗云”、“正心诚意”不放。同一人物,思想或行为的这一部分已经很开通很进步了,另一方面或另一部分却很保守很落后。政治思想是先进的,世界观可能仍是唯心主义;文艺学术观点可能是资产阶级的,而政治主张却依旧是封建主义。如此等等,不一而足,构成了中国近代思想一幅极为错杂矛盾的图景。

这段话支持了这样一个观点:

A.中国近代思想总体上还没有现代思想元素

B.中国近代人物或者是保守落后的,或者是开放进步的

C.中国近代思想的发展是错综复杂、充满矛盾的

D.中国近代思想的复杂性源于西方列强的侵略与经济落后的落后

53.2008 年开始的金融危机使全球陷入了史无前例的不景气经济环境,逆市当中,曾经出现在美国大萧条时代的“口红效应”再度应验,成为了经济危机下不多的一抹亮色。“口红效应”又名“吉芬效应”,就是每当经济不景气时,口红的销量反而会直线上升。因为美国人认为口红是一种比较廉价的消费品,在消费欲望与经济收入成反比的时候,人们会购买廉价商品来寻求心理安慰。时下,化妆品、电影业、快餐业出现的繁荣景象,就是“口红效应”的真切体现。

最适合做本段文字标题的是:

A.经济危机中的一抹亮色

B.金融危机带火“口红经济”

C.独特的“口红效应”现象

D.“口红经济”,危机下的商机

54.德洛尔 1967 年在《公共行政评论》杂志上发表了《政策分析家:一个政府部门中新的职业性角色》以来,“政策分析者”一词已普遍地用以指称那些职业从事政策研究的学术家或实践者,与这一特殊角色密切相关的职业伦理也已引起了人们的广泛关注。

作者接下来很有可能介绍的是:

A.政策分析的特点

B.职业伦理的特点

C.职业伦理政策分析的特殊性

D.政策分析职业伦理的特殊性

55.有人说,民主就像一个旋转的陀螺,重要的是旋转的过程。离开了这个过程,民主的陀螺就会倒下。就民主决策而言,正确的决策结果自然会给人们带来希望和信心,而决策的过程对

人们凝聚信心的影响更大。

这段文字中的比喻意在强调:

- A.民主决策过程对民主的重要性
- B.只有通过民主决策,才能凝聚信心
- C.决策过程中的民主,是广泛的社会参与
- D.有效的参与过程,便是凝聚信心的过程

56.理学重道德的修养固然不错,其对于中国社会日后的发展贡献,也不容忽视,但不能否认,理学所倡导的偏重道德轻视事功的倾向,还有它那过分的内省自律,正好为专制帝王起到了为渊驱鱼的效果。读书人的大丈夫气概日渐消亡,英雄豪杰只有在草莽中孕育,从梁山泊里诞生。宋、明两次亡于外族,无疑与宋代以来主流思想的自宫与内敛不无干系。

对这段文字的主旨理解最准确的是:

- A.理学特有的价值取向迎合了古代统治者的统治需求
- B.理学所倡导的精神导致古代读书人中很少出现英雄豪杰
- C.读书人大丈夫气概的缺失和理学自身的特点有关
- D.宋明两次亡于外族,理学伦理起到了推波助澜的作用

57.中国传统儒学有所谓“内圣”“外王”之学,由“修齐治平”的修养工夫可以达致“外王”的事功。但在近代西方的冲击下,原有的“夷夏之辨”所具有的文化优越感丧失殆尽。面对这一亘古未有的巨大冲击,岭南学者总是希图在“内圣”方面寻求转换,多在思想领域掀起变革波澜。但在湖湘人士看来,国力的强劲轻弱似乎只存留在物质与武力的角逐对抗之中,其中并不涉及道德“内圣”的层面。这种以事功成事实的态度,反而使他们能认识西方物质文明的长处,而不必纠缠于隐藏于物质层面背后的“内圣”因素,从而使湖湘人士在中国近代政治舞台上占得先机。

对这段文字的主旨概括最准确的是:

- A.说明中国传统儒学在西方冲击下分崩离析的命运
- B.阐述近代岭南学者和湖湘人士两种不同的选择
- C.分析湖湘人士在中国近代政治舞台上占得先机的文化层面的原因
- D.探讨中国传统儒学“内圣”“外王”思想的局限性

58.依次填入下面一段文字横线处的语句,衔接最恰当的一项是:

我躺在一个小小山地上,_____,_____,_____._____,_____,同一方向距离稍近些,枝柯疏朗的柿子树,正挂着无数玩具一样明黄照眼的果实。

- ①洒在我身上和身前一片带白色的枯草间
 - ②四围是草木蒙茸枝叶交错的绿荫
 - ③在十丈远近河堤边排成长长的行列
 - ④强烈阳光从枝叶间滤过
 - ⑤松树和柏树作成一朵朵墨绿色
- A.②④①⑤③ B.②⑤③④① C.⑤③②④① D.④②①⑤③

59.把下列句子组成语意连贯的一段文字,排序最恰当的一项是:

- ①过去有报道中形容他们是“娇生惯养的一代”,报道他们见多识广但也更个人中心、利己自私
- ②他们在 2008 北京奥运会上的集体亮相,让国际社会看到了富有热情、尊重规则、充满人

文情怀的新一代中国青年

③这一次他们有了新的代名词——“鸟巢一代”，《“鸟巢一代”赢得国际赞誉》、《鸟巢一代是怎样炼成的》

④2008 奥运会中，年轻的志愿者中大量都是 85 后甚至 90 后的一代人

⑤在这些报道中志愿者们热情敬业、吃苦耐劳、懂外语、有技能、善交流

A.④①③⑤② B.④②①③⑤ C.④③①②⑤ D.④①②③⑤

60.①在古代，这个信念有些神秘色彩。

②在一切比较深入的科学研究后面，必定有一种信念驱使我们。

③对于数学研究则还要加上一点：这个世界的合理性，首先在于它可以用数学来描述。

④可是发展到现代，科学经过了多次伟大的综合，如欧几里德的综合，牛顿的综合，爱因斯坦的综合，计算机的出现，哪一次不是或多或少遵循这个信念？

⑤这个信念就是：世界是合理的，简单的，因而是可以理解的。

将以上 5 个句子重新排列，语序正确的是：

A.②①④③⑤ B.①④②③⑤ C.②⑤③①④ D.①④②⑤③

61.大巴在崎岖的山路上盘旋，飞驰，高远的天空，像一面硕大无朋的镜子，映照辽阔的北国，使人心旷神怡。车子弯过一个山梁，只见长城_____，一会儿又扶摇而上，直到浩渺的太空！

填入下面文段横线处最恰当的一项是：

A.像灰色的绸带在苍茫的群山中飘舞，一会儿落进山谷，一会儿飘上山巅

B.像灰色的巨龙在苍茫的群山中出没，一会儿钻进山谷，一会儿攀上山巅

C.像灰色的巨蟒在苍茫的群山中游动，一会儿溜进山谷，一会儿爬上山巅

D.像灰色的巨龙在苍茫的群山中起落，一会儿降到山谷，一会儿升上山巅

62.过多使用塑料袋会造成“白色污染”，所以人们想了很多办法寻求塑料袋的替代品。纸袋很容易降解，自然成为首选。然而，制作纸袋需要耗费木材，一旦舍弃塑料袋而选择纸袋，大量的树木将被砍伐。而且生产一个纸袋所需的能量和产生的污染都要比塑料袋高得多。另外，由于纸袋比同样大小的塑料袋重 4 倍，这意味着运输过程中纸袋耗能更高。

这段文字意在表达：

A.纸袋相对于塑料袋并没有什么特殊的优势

B.要解决白色污染，必须另辟蹊径

C.用纸袋代替塑料袋并不是一个很好的选择

D.纸袋与塑料袋各有优劣，难以抉择

63.中国的网络文化市场在国际上有着巨大的吸引力，尤其在年轻、时尚、流行的消费层面上，其市场潜力是举世瞩目的。网络不仅把人类带进一个新的传播时代，而且把人类带进一个新的经济时代，在众多与网络相关的新兴产业中，网络文化产业是其中最富有生机和最引人注目的一部分。

这段话意在说明：

A.中国的网络文化市场备受世界瞩目

B.中国进入了一个新的传播时代

C.中国的网络文化市场富有生机，前景广阔

D.网络文化产业是一个新兴的产业

64. 电脑的屏幕是由小的荧光点组成的, 这些荧光点是闪烁的, 要想看清楚就需要我们眼睛不断地调节。我们自己感觉不到, 但却真实存在, 我们的眼睛要去适应它就容易产生疲劳。在打字的时候, 眼睛要不断在文稿、屏幕、键盘之间变换, 眼睛的焦点和距离不断地调节, 也会使眼睛感到疲劳。电脑伤眼已经是一个不争的事实。据调查, 每天在电脑前工作 3 小时以上的人中, 有 90% 的人眼睛有问题, 表现症状是: 眼睛发干、头痛、烦躁、疲劳、注意力难以集中。

对这段文字理解不正确的一项是:

- A. 电脑屏幕是闪烁的, 人眼要适应它很容易产生疲劳
- B. 眼睛焦点和距离的频繁调节, 容易使眼睛感到疲劳
- C. 虽然我们有时候感觉不到, 但电脑伤眼却是不争的事实
- D. 在电脑前工作的人 90% 存在用眼过度导致疲劳的问题

65. 朱光潜先生曾说过, 面对一棵古松, 有三种态度, 科学、实用和审美。审美的情形有两种, 一是直觉的, 一幅图画, 一处美景, 展现在你的面前, 你能够聚精会神地去观赏它, 领略它, 以至于暂时忘记了除它以外的其它事物。这时候, 你沉醉其中, 是一种审美的直觉。但更多时候, 我们不完全靠着一种直觉, 审美还有一种理念的参与。这时的审美就包含了一种文化的积淀。于是, 看见彩蝶翻飞, 我们会疑为庄子的梦境; 听到杜鹃鸟的哀鸣, 我们会心生悲愁; 而说到狐狸, 我们则有如进入了花妖狐魅之境。

这段文字意在说明:

- A. 面对眼前的事物, 要学会用审美的态度看待它
- B. 审美是比科学和实用更高一层的看待事物的态度
- C. 审美不单纯靠直觉, 更多时候还有文化理念的参与
- D. 审美情趣的培养, 必须以深厚的文化积淀为基础

※※※第二部分结束, 请继续做第三部分! ※※※

第三部分 数量关系

(共 15 题, 参考时限 20 分钟)

在这部分试题中, 每道题呈现一段表述数字关系的文字, 要求你迅速、准确地计算出答案。

请开始答题:

66. 一些小朋友排成一行, 从左边第一个人开始每隔 2 人发一个苹果; 从右边第一个人开始每隔 4 人发一个橘子, 结果有 10 个小朋友拿到苹果和橘子, 这些小朋友最少有多少人?

- A. 108
- B. 136
- C. 127
- D. 158

67. 现将 3 个相同的红球和 4 个相同的白球排成一列, 要使红球各不相邻, 则有多少种排法?

- A. 1
- B. 5
- C. 10
- D. 60

68. 某班同学为灾区捐款, 全班人数为 48 人, 平均每个女同学捐款 18 元, 每个男同学捐款 25 元, 已知全班女同学比男同学多捐 47 元, 则该班有男同学多少人?

- A. 15
- B. 19
- C. 21
- D. 22

69.某次数学竞赛准备了 22 支铅笔作为一、二、三等奖的奖品,原计划一等奖每人发 6 支,二等奖每人发 3 支,三等奖每人发 2 支。后来又改为一等奖每人发 9 支,二等奖每人发 4 支,三等奖每人发 1 支。问共有多少人获奖?

- A.3 B.6 C.8 D.10

70.某宾馆一层客房比二层客房少 5 间,某旅游团 48 人,若全安排在第一层,每间 4 人,房间不够,每间 5 人,则有房间住不满;若全安排在第二层,每间 3 人,房间不够,每间住 4 人,则有房间住不满,该宾馆一层有客房多少间?

- A.9 B.10 C.11 D.13

71.某部门规定:旅客随身携带的行李的长、宽、高的和不能超过 150 厘米。请问,旅客所带的长方体箱子体积不能超过多少立方厘米?

- A.100000 B.125000 C.150000 D.180000

72.有一项工程,甲单独做需要 36 天完成,乙单独做需要 30 天完成,丙单独做需要 48 天完成。现在由甲、乙、丙三人同时做,在工作期间,丙休息了整数天,而甲和乙一直工作至完成,最后完成这项工程也用了整数天,那么丙休息了多少天?

- A.4 B.11 C.7 D.15

73.小明和小强从 400 米环形跑道的同一点出发,背向而行。当他们第一次相遇时,小明转身往回跑;再次相遇时,小强转身往回跑;以后的每次相遇分别是小明和小强两人交替调转方向。小明每秒跑 3 米,小强每秒跑 5 米,则在两人第 30 次相遇时,小明共跑了多少米?

- A.11250 B.13550 C.10050 D.12220

74.某车间有 30 名工人,计划加工 A、B 两种零件。这些工人按技术水平分成甲、乙、丙三类人员,人数分别为 6、16、8 人。各类人员每人每天单独加工某一种零件的效率如下表。现在要求加工 A、B 零件各 3000 个,请问至少需要多少天?

零件 \ 人员	效率		
	甲	乙	丙
A	50 个	30 个	12 个
B	80 个	60 个	30 个

- A.4 B.5 C.6 D.7

75.有 120 名学生报考语文、数学、英语竞赛,已知现在有 35 人报考语文竞赛,45 人报考数学竞赛,55 人报考英语竞赛,其中 30 人同时报考了语文和数学竞赛,26 人同时报考了语文和英语竞赛,38 人同时报考了数学和英语竞赛,问至少还有多少人没有报考任何一科?

- A.0 B.41 C.53 D.79

76.有父子 5 人,年龄和为 79 岁,长子的年龄比父亲的 $\frac{1}{2}$ 少 7 岁,次子年龄的 3 倍比父亲少 3 岁,三子年龄的 6 倍比父亲多 6 岁,幼子的年龄是父亲的 $\frac{1}{21}$ 。则父亲今年为()岁。

- A.36 B.42 C.48 D.56

77.一项工作,甲先做 6 小时乙再做 12 小时可以完成,甲先做 8 小时乙再做 6 小时也可以完成。如果甲先做 3 小时接着由乙做,那么还需要多少小时才能完成?

A.12

B.15

C.18

D.21

78.某人上午 8 点要上班,可是发现家里的闹钟停在了 6 点 10 分,他上足发条但忘了对表就急急忙忙的上班去了,到公司一看还提前了 10 分钟。中午 12 点下班后,回到家一看,闹钟才 11 点整,假定此人上班、下班在路上用的时间相同,那么他家的闹钟停了多少分钟?

A.100

B.90

C.80

D.70

79.瓶子里装有浓度为 21% 的盐水 500g,现在分别加入 300g 的盐水 A 和 700g 的盐水 B 后,瓶子里的盐水浓度变为 19%。现已知所加的盐水 A 中所含盐分是盐水 B 的 2 倍,问盐水 A 的浓度为多少?

A.18%

B.23%

C.30%

D.40%

80.一个长方体前面和上面的面积和是 209 平方厘米。如果这个长方体的长、宽、高都是以厘米为单位的质数,那么这个长方体的体积是多少立方厘米?

A.20

B.342

C.374

D.418

※※※第三部分结束,请继续做第四部分!※※※

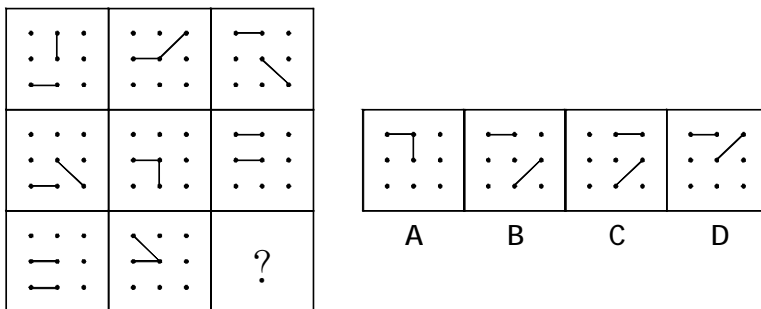
第四部分 判断推理

(共 40 题,参考时限 35 分钟)

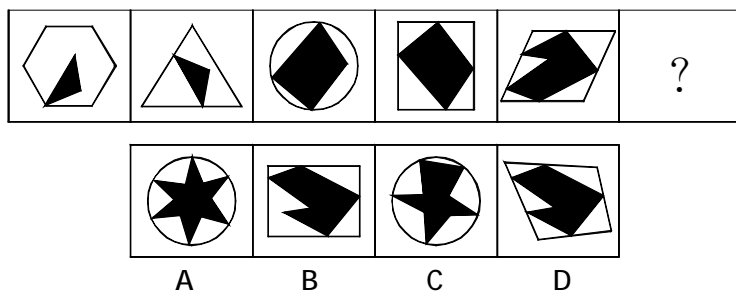
一、图形推理。请按每道题的答题要求作答。

请开始答题:

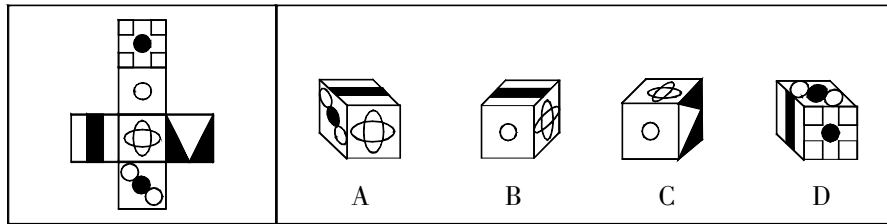
81.从所给的四个选项中,选择最合适的一个填入问号处,使之呈现一定的规律性:



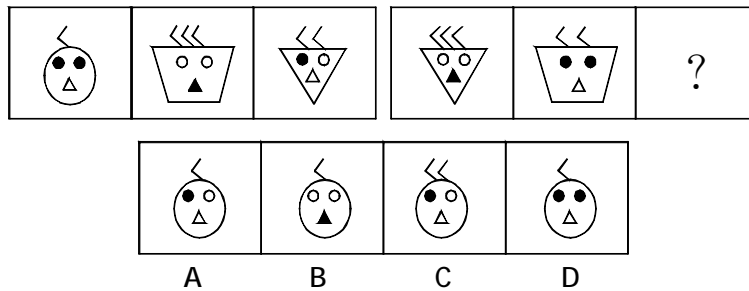
82.从所给的四个选项中,选择最合适的一个填入问号处,使之呈现一定的规律性:



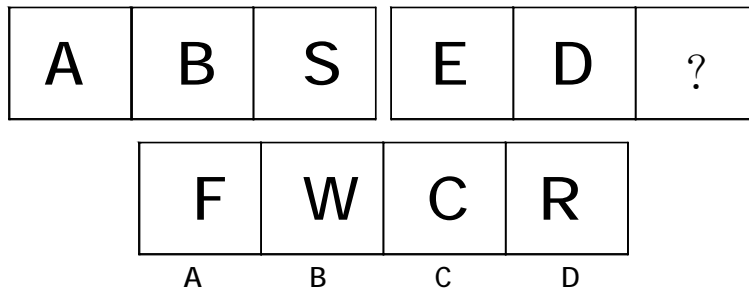
83. 左边给定的是纸盒的外表面, 下面哪一项能由它折叠而成?



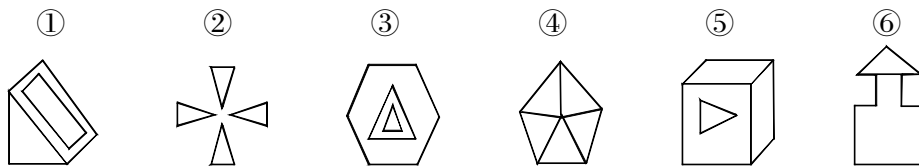
84. 从所给的四个选项中, 选择最合适的一个填入问号处, 使之呈现一定的规律性:



85. 从所给的四个选项中, 选择最合适的一个填入问号处, 使之呈现一定的规律性:



86. 把下面的六个图形分为两类, 使每一类图形都有各自的共同特征或规律, 分类正确的一项是:



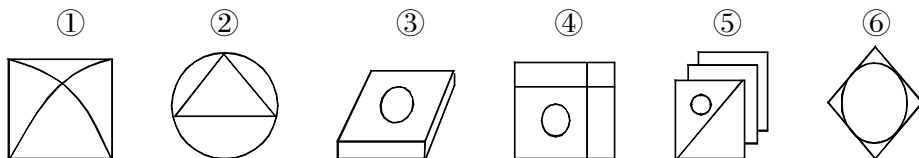
A. ①②③, ④⑤⑥

B. ①③④, ②⑤⑥

C. ①④⑥, ②③⑤

D. ①③⑥, ②④⑤

87. 把下面的六个图形分为两类, 使每一类图形都有各自的共同特征或规律, 分类正确的一项是:



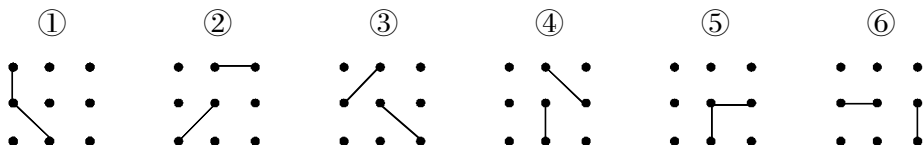
A.①②③,④⑤⑥

B.①③④,②⑤⑥

C.①④⑥,②③⑤

D.①③⑥,②④⑤

88.把下面的六个图形分为两类,使每一类图形都有各自的共同特征或规律,分类正确的一项是:



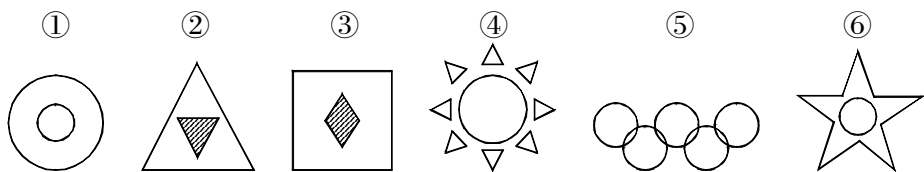
A.①②③,④⑤⑥

B.①②④,③⑤⑥

C.①④⑥,②③⑤

D.①③⑥,②④⑤

89.把下面的六个图形分为两类,使每一类图形都有各自的共同特征或规律,分类正确的一项是:



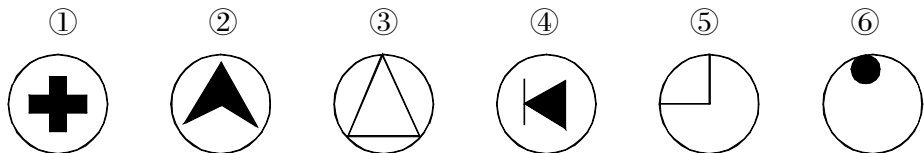
A.①②③,④⑤⑥

B.①②⑤,③④⑥

C.①④⑥,②③⑤

D.①③⑥,②④⑤

90.把下面的六个图形分为两类,使每一类图形都有各自的共同特征或规律,分类正确的一项是:



A.①②③,④⑤⑥

B.①②④,③⑤⑥

C.①④⑥,②③⑤

D.①③⑥,②④⑤

二、定义判断。每道题先给出定义,然后列出四种情况,要求你严格依据定义,从中选出一个最符合或最不符合该定义的答案。注意:假设这个定义是正确的,不容置疑的。

请开始答题:

91.刻板印象:指在人们头脑中存在的关于某些人或事物的带有偏见的固定印象。

下列不属于刻板印象的是:

- A.小陈看到长得清秀、文静的姑娘就认定她是来自成都或长沙
- B.一次舞会上小王拒绝了小张的邀请,从此小张就认为小王傲慢
- C.小肖认为北方人都豪爽,因为他有两个朋友是东北人,且性格豪爽
- D.小朱喜欢看《红楼梦》,他认为宝玉与黛玉的爱情是悲剧性的

92.生态旅游,是指具有保护自然环境和维护当地人民生活双重责任的旅游活动。生态旅游具有两个要点:其一是生态旅游的物件是自然景物;其二是生态旅游的物件不应受到损害。

根据上述定义,下列属于生态旅游的是:

A.某电影剧组在浙江某影视基地搭建的仿古建筑群,成为了著名的旅游景点,吸引了很多人前去参观

B.某校爱心社组织社员到北京十渡自然风景区观光旅游并沿途清理景区垃圾

C.小张参加了某旅行社组织的“北京三日游”活动,游览了故宫、天安门、长城、十三陵等多处著名的历史文化景点

D.经过政府的大力宣传,许多居民提高了环保意识,不遗余力地保护当地的自然景观

92.间接正犯:指利用他人作为工具作案,其与被利用者不存在共同犯罪。

下列属于间接正犯的是:

A.在一起入室盗窃案中,甲某只负责望风,没有实施具体的盗窃

B.甲某预谋谋杀一个病人,想方设法将毒药交与不知情的护士

C.甲某将抢劫得到的珠宝卖给了不知情的收购商

D.甲某将非法获得的照片免费发送给网友传阅

94.完全归纳推理:是指根据某一类事物中的每一个别事物具有某种性质,推出该类事物普遍具有这种性质的结论。

下列属于完全归纳推理的是:

A.金导电,银导电,铜导电,铁导电,铝导电,锡导电;所以,一切金属都导电

B.贪赃枉法的人是必定会受到惩罚的,你们一贯贪赃枉法,所以,你们今天是必定要受到法律的制裁,人民的惩罚的

C.在奴隶社会里文学艺术有阶级性;在封建社会里文学艺术有阶级性;在资本主义社会里艺术有阶级性;在社会主义社会里文学艺术有阶级;所以在阶级社会里,文学艺术是有阶级性的

D.我们在动物、植物中发现细胞,又在植物细胞中发现了细胞核,由此推导在动物细胞中也有细胞核,后来用显微镜观察,果然在动物的细胞中又发现了细胞核

95.自我效能:指人们对自己产生特定水准的,能够影响自己生活事件的行为之能力的信念。

根据上述定义,下列与自我效能无关的是:

A.公司领导严格要求小董每天接好电话,尊敬客户,工作期间不能玩电脑游戏

B.小常这个人总是把困难的任务当作有待征服的挑战而非需要回避的威胁,还常常为自己设立挑战性的目标,并保持对目标的承诺

C.小蔡在大家心目中的形象是:喜欢将失败归因为不够努力或缺少可以获得的知识及技能

D.兴隆实业有限公司的小郭常念念不忘自己的缺陷、将遇到的障碍和种种不利的结果,却不会仔细考虑如何去成功地行动

96.思维定势又称“习惯性思维”,是指人们按习惯的、比较固定的思路去考虑问题、分析问题,表现为在解决问题过程中做特定方式的加工准备。它阻碍了思维的开放性和灵活性,造成思维的僵化和呆板。这使得人们不能灵活运用知识,创造性思维的发展受到阻碍。

根据上述定义,下列选项体现了思维定势的一项是:

A.盲人摸象

B.买椟还珠

C.削足适履

D.亡羊补牢

97.边际效用,指的是消费者从一单位新增商品或服务中得到的效用(满意度或收益)。边际效用递减法则,是指当消费者消费某一物品的总数量越来越多时,其新增加的最后一单位物品的消费所获得的效用(即边际效用)通常会呈现递减的现象。

根据上述定义,下列最符合边际效用递减法则的是:

- A.随着约会次数的增多,恋爱中的两个人都觉得对方的吸引力在逐渐减弱
- B.往农田里撒第一个 100 公斤化肥增产最多,第二、三个 100 公斤化肥增产效果递减
- C.小刚非常爱吃妈妈做的红烧排骨,可是在接连吃了三天之后就吃不下去了
- D.随着记忆次数的增加,记忆效果逐渐加强,每次记忆的作用呈递减趋势

98.选择性注意,是指在外界诸多刺激中,人们仅仅注意到某些刺激或刺激的某些方面,而忽略了其他刺激。

根据上述定义,下列属于选择性注意的一项是:

- A.志愿者小张在奥运会期间,每天忙于奥运赛场的服务,无暇观看奥运比赛
- B.奥运结束后,一些学生仍对奥运精彩纷呈的赛事感到意犹未尽,无法投入到新学期的学习生活中
- C.意大利小伙子马克观看完北京奥运会开幕式后,对中国文化产生了浓厚兴趣,于是留在北京学习汉语
- D.北京奥运会期间,原本闹离婚的夫妻俩,由于一起收看奥运会节目,交流增多,关系缓和,不再闹离婚了

99.风险控制是指风险管理者采取各种措施和方法,消灭或减少风险事件发生的各种可能性,或者减少风险事件发生时造成的损失。

根据上述定义,下列不属于风险控制的一项是:

- A.某企业建立了预留基金以备应对突发事故
- B.某医院对诊室和病房进行定时清扫和消毒
- C.某公司为每位出差的员工都办理了交通意外保险
- D.某金融投资机构调查寻求融资的公司的管理水平

100.在计算机安全领域里,钓鱼式攻击,又名“网钓法”或“网络网钓”,是一种企图从电子通讯中,通过伪装成信誉卓著的法人媒体以获得如用户名、密码和信用卡明细等个人敏感信息的犯罪诈骗过程。

根据以上定义,下列选项中使用了钓鱼式攻击的是:

- A.某著名社交网站受到黑客攻击,以至于所有用户信息被盗
- B.工商银行向一些定制服务的客户定期发送含有客户账户明细的邮件
- C.使用支付宝的用户在交易成功以后都会收到支付宝发送的确认邮件
- D.某银行客户张某收到了该银行业务办理通知的邮件,按要求办理后却发现帐户被盗,事实上该银行未发出任何邮件

三、类比推理。每道题先给出一组相关的词,要求你在备选答案中找出一组与之在逻辑关系上最为贴近、相似或匹配的词。

请开始答题:

101.稻谷:大米

A.核桃:桃酥

B.棉花:棉籽

C.西瓜:瓜子

D.花生:花生酱

102.液体:阀门

A.车票:轨道

B.电流:开关

C.火车:站台

D.栅栏:木条

103.纸:草

A.火药:硝石

B.磁石:石头

C.树皮:细胞

D.酱油:大豆

104.寒冷:衣服:抵御

A.肿瘤:手术:祛除

B.饥饿:食物:消除

C.疾病:药物:治疗

D.黑暗:电筒:照亮

105.犯规:处罚:罚球

A.尽职:奖励:休假

B.喝酒:驾车:扣留

C.抄袭:处分:警告

D.犯罪:审判:刑罚

106.平行四边形:长方形:正方形

A.点:线段:三角形

B.三角形:等腰三角形:等边三角形

C.线段:三角形:四边形

D.直线:平面:空间

107.工程师:电脑:程序

A.画家:色彩:图画

B.学生:课本:知识

C.工人:建筑:施工

D.研究员:仪器:实验

108.() 对于 站岗 相当于 晋升 对于 ()

A.保安 提拔

B.放哨 职称

C.值班 升官

D.岗位 工作

109.() 对于 森林 相当于 放牧 对于 ()

A.耕地 牧场

B.伐木 草原

C.村庄 牧民

D.养殖 繁殖

110.挂饰 对于 () 相当于 () 对于 墙壁

A.手机 砖

B.大头贴 房屋

C.汽车 相框

D.纸 水泥

四、逻辑判断。每道题给出一段陈述,这段陈述被假设是正确的,不容置疑的。要求你根据这段陈述,选择一个答案。注意:正确的答案应与所给的陈述相符合,不需要任何附加说明即可以从陈述中直接推出。

请开始答题:

111.日常生活中,有的人在服药时为图省事,将药片放入口中后,不喝水或仅喝一口水,再用力一咽,就算是服完药了。有些人认为这种服药方式是不可取的。

以下哪项如果为真,最能支持这些人的观点?

A.服药时增加饮水量会降低药物的浓度

B.服药时大量饮水,可加快药物通过咽、食管进入胃的速度

C.有些药物,由于代谢产物溶解度低,容易在泌尿道中析出,引起其他症状,因此病人在服药期间,每天至少要饮水 1500 毫升

D.服药时饮水过少会使药片滞留在食管中时间较长,甚至产生副作用

112.域控制器存储了域内的账户、密码和属于这个域的计算机三项信息。当计算机接入网络时,域控制器首先要鉴别这台计算机是否属于这个域,用户使用的登录账户是否存在,密码是否正确。如果三项信息均正确,则允许登录;如果以上信息有一项不正确,那么域控制器就会拒绝这个用户从这台计算机登录。小张的登录账号是正确的,但是域控制器拒绝小张的计算机登录。

基于以上陈述能得出以下哪项结论?

- A.小张输入的密码是错误的
- B.小张的计算机不属于这个域
- C.如果小张的计算机属于这个域,那么他输入的密码是错误的
- D.只有小张输入的密码是正确的,它的计算机才属于这个域

113.S市环保检测中心的统计分析表明,2009年空气质量为优的天数为150天,比2008年多出22天;二氧化碳、一氧化碳、二氧化氮、可吸入颗粒物四项污染物浓度平均值,与2008年相比分别下降了约21.3%、25.6%、26.2%、15.4%,S市环保负责人指出,这得益于近年来本市政府持续采取的控制大气污染的相关措施。

以下除哪项外,均能支持上述S市环保负责人的看法?

- A.S市广泛展开环保宣传,加强了市民的生态理念和环保意识
- B.S市启动了内部控制污染方案:凡是排放不达标的燃煤锅炉停止运行
- C.S市执行了机动车排放国IV标准,单车排放比III标准降低了49%
- D.S市市长办公室最近研究了焚烧秸秆的问题,并着手制定相关条例

114.有网友发帖称,8月28日从湖北襄樊到陕西安康的某次列车,其有效座位为978个,实际售票数却高达3633张。铁道部要求,普快列车超员率不得超过50%,这次列车却超过了370%,属于严重超员。

如果以下陈述为真,哪一项对该网友的论断构成严重质疑?

- A.每年春运期间是铁路客流量的高峰期,但8月底并不是春运期间
- B.从湖北襄樊到陕西安康的这次列车是慢车,不是普快列车
- C.该次列车途经20多个车站,每站都有许多旅客上下车
- D.大多数网友不了解铁路系统的售票机制

115.一般认为,出生地间隔较远的夫妻所生子女的智商较高。有资料显示,夫妻均是本地人,其所生子女的平均智商为102.45;夫妻是省内异地的,其所生子女的平均智商为106.17;而隔省婚配的,其所生子女的智商则高达109.35。因此,异地通婚可提高下一代智商水平。

以下哪项如果为真,最能削弱上述结论?

- A.统计孩子平均智商的样本数量不够多
- B.不难发现,一些天才儿童的父母均是本地人
- C.不难发现,一些低智商儿童的父母的出生地间隔较远
- D.能够异地通婚者是智商比较高的,他们自身的高智商促成了异地通婚

116.在世界市场上,中国生产的汽车比其他国家生产的汽车要便宜得多,因此,其他国家的汽车工业将失去一部分市场,而这些市场将被中国汽车占据。

以下哪一项是上述论述所要假设的?

- I. 中国汽车的油耗比其他国家汽车的油耗更低
- II. 价格是汽车购买者考虑的重要因素
- III. 中国的汽车和其他国家的汽车的耐用性基本相同
- IV. 汽车购买者具有较高的品牌忠诚度

- A. I 和 II
- B. I、II 和 III
- C. II、III 和 IV
- D. II 和 III

117. 李赫, 张岚, 林宏, 何柏, 邱辉, 5 位同事近日他们各自买了一台不同品牌小轿车, 分别为雪铁龙, 奥迪, 宝马, 奔驰, 桑塔纳。这五辆车的颜色分别与 5 人名字最后一个字谐音的颜色不同。已知, 李赫买的是蓝色的雪铁龙。

以下哪项排列可能依次对应张岚, 林宏, 何柏, 邱辉所买的车?

- A. 灰色奥迪、白色宝马、灰色奔驰、红色桑塔纳
- B. 黑色奥迪、红色宝马、灰色奔驰、白色桑塔纳
- C. 红色奥迪、灰色宝马、白色奔驰、黑色桑塔纳
- D. 白色奥迪、黑色宝马、红色奔驰、灰色桑塔纳

118. 为了确定慢性疲劳综合症这种疾病究竟属于生理性的还是属于心理性的, 病理学家做了如下试验: 第一组患者被指定服用一种草药膏剂, 并被告知这种膏剂是在试用过程中, 其中 30% 的人在接受治疗三个月内得到了治愈; 第二组患者接受同样的草药膏剂治疗, 但被告知这种膏剂已经过广泛的临床实验, 被证明是有效的。结果有 85% 的人在同样的三个月内得到了治愈。由此可见, 人对从疾病中能够有复原机会的信念能够影响人从病中的康复。

以下哪项如果为真, 能够最有力地削弱上述论证?

- A. 参加实验的患者没有一个有过心理紊乱的治疗史
- B. 如果告诉第一组患者这种草药膏剂被证明是有效的, 这组人康复的比率就会和第二组一样

- C. 两组实验对象是随意从一批被诊断患有慢性疲劳综合症的人中挑选出来的
- D. 第一组成员普遍比第二组成员患慢性疲劳综合症的时间长, 病情也更严重

119. 拥挤的居住条件所导致的市民健康状况明显下降, 是清城面临的重大问题。因为清城和广川两个城市的面积和人口相当, 所以, 清城所面临的上述问题必定会在广川出现。

以下哪项最为恰当地指出了上述论证的漏洞?

- A. 不当地预设: 拥挤的居住条件是导致市民健康状况下降的唯一原因
- B. 未能准确区分人口数量和人口密度这两个概念
- C. 忽略了相同的人口密度可以有不同的居住条件
- D. 未能恰当地选择第三个比较对象以增强结论的说服力

120. 正常情况下, 在医院出生的男婴和女婴的数量大体相同。在某大城市的一家大医院, 每周有许多婴儿出生; 而在某乡镇的一所小医院, 每周只有少量婴儿出生。如果一个医院一周出生的婴儿中有 45%-55% 是女婴, 则属于正常周; 如果一周出生的婴儿中超过 55% 是女婴或者超过 55% 是男婴, 则属于非正常周。

如果以上陈述为真, 以下哪一个选项最有可能为真?

- A. 非正常周出现的次数在城市大医院比在乡镇小医院更多
- B. 非正常周出现的次数在乡镇小医院比城市大医院更多

- C.在城市大医院和乡镇小医院,非正常周出现的次数完全相同
- D.在城市大医院和乡镇小医院,非正常周出现的次数大体相同

※※※第四部分结束,请继续做第五部分! ※※※

第五部分 资料分析
(共 15 题,参考时限 15 分钟)

所给出的图、表、文字或综合型资料均有若干个问题要你回答。你应根据资料提供的信息进行分析、比较、计算和判断处理。

请开始答题:

一、根据以下资料,回答 121~125 题。

2007 年,黑龙江省大中型企业共 481 家,比上年增加 27 家;从业人员 110.2 万人,比上年增加 3.1 万人,完成工业总产值 5143 亿元,增长 9.8%;增加值 2546.1 亿元,增长 9.1%;实现主营业务收入 5541 亿,增长 10.1%;实现利税总额 1648.5 亿元,增长 0.9%;科技活动经费内部支出 61.2 亿元,增长 23.7%。2007 年全省大中型工业企业从事技术开发活动的人员 6.5 万人,比上年增加近 0.4 万人。其中科学家和工程师 4.1 万人,比上年增加 0.2 万人。从性别看,女性科技活动人员 1.6 万人,比上年增加 0.3 万人。从事科技活动全时人员为 3 万人,比上年增加 0.3 万人。2007 年全省大中型工业企业加大新产品开发投入,积极研制开发新产品。全年经费投入 10 万元(含 10 万元)以上的新产品项目数 1139 项,与上年持平。用于新产品开发经费 24.8 亿元,比上年增长 41.6%。平均每个新产品项目经费由上年的 218.3 万元上升到今年的 286.4 万元。投入增长带来了效益的增加。实现新产品产值 429.6 亿元,比上年增长 36.6%。新产品销售收入 437 亿元,比上年增长 44.3%。新产品出口 18.5 亿元比上年增长 26.8%。申请专利 851 件,比上年增长 16.4%。

121.根据资料,2006 年黑龙江省平均每个大中型企业约有从业人员多少人?

- A.1933 人
- B.2318 人
- C.2291 人
- D.2359 人

122.2006 年黑龙江省大中型企业工业增加值占工业总产值的比重是:

- A.47.6%
- B.49.8%
- C.45.4%
- D.52.1%

123.2007 年黑龙江省大中型工业企业从事技术开发活动的人员人均新产品开发经费多少元?

- A.3.8 万元
- B.4.1 万元
- C.218.3 万元
- D.286.4 万元

124.下面说法中正确的是:

- A.与去年相比,2007 年黑龙江大中型企业平均每个新产品项目经费增长 23.8%
- B.2006 年,黑龙江大中型企业实现新产品产值 314.5 亿元
- C.2006 年,黑龙江大中型企业科技活动经费内部支出 62.1 亿元
- D.2006 年,黑龙江大中型企业实现利税总额为 1669.5 亿元

125. 下列关于黑龙江大中型企业 2007 年的有关说法, 不正确的是:

- A. 2007 年黑龙江省从事科技活动人员队伍不断壮大, 女性科技活动人员明显增加
- B. 2007 年, 黑龙江大中型企业经费投入 10 万元以上的项目比去年明显增长
- C. 2007 年, 大中型企业科学家工程师增长率明显高于其他人员的增长率
- D. 2007 年, 黑龙江平均每个大中型企业从业人员与去年相比略有减少

二、根据以下资料, 回答 126~130 题。

“十五”期间全国部分省份(直辖市、自治区)人均水资源量

单位: m^3

地区	2001 年	2002 年	2003 年	2004 年	2005 年
全 国	2105	2200	2125	1856	2145
北 京	139	119	126	143	151
上 海	262	284	88	143	138
广 东	2856	2398	1834	1430	1901
内 蒙 古	1434	1324	2082	1836	1912
浙 江	2031	2648	1228	1432	2071
新 疆	5461	5607	4757	4358	4790
西 藏	164659	158932	176189	170261	160688
辽 宁	596	353	523	677	894
福 建	3826	3466	2313	2029	3964
重 庆	1074	1757	1887	1790	1822
甘 肃	766	580	950	656	1039
江 西	3638	4697	3203	2415	3503

126. 由上表可以看出, 整个“十五”期间, 人均水资源量一直低于全国平均水平的省份(直辖市、自治区)有:

- A. 4 个
- B. 5 个
- C. 6 个
- D. 7 个

127. 2003 年人均水资源量最多的地区, 其水资源量是相应水资源量最少地区的:

- A. 1998 倍
- B. 2000 倍
- C. 2004 倍
- D. 2002 倍

128. 表中所列各省(直辖市、自治区)中, 整个“十五”期间年人均水资源量高于相应时期全国年人均水资源量的有(除自治区外):

- A. 广东
- B. 福建和江西
- C. 江西和广东
- D. 福建、江西和广东

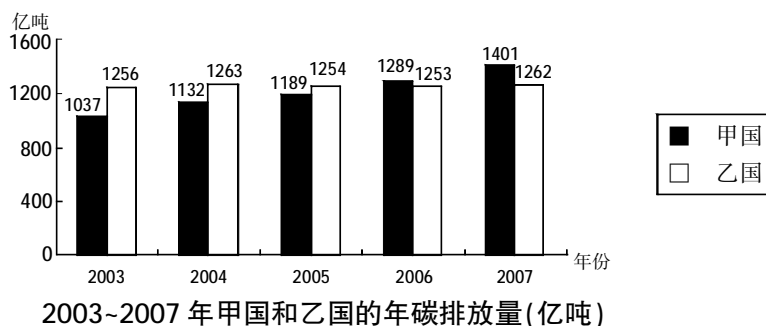
129. 2005 年西藏人均水资源量是表中其他所有地区人均水资源量之和的:

- A. 5.6 倍
- B. 7.2 倍
- C. 8.5 倍
- D. 9.3 倍

130. 若人均水资源量在 $1700 \sim 3000 \text{m}^3/\text{年}$ 为轻度缺水、 $1000 \sim 1700 \text{m}^3/\text{年}$ 为中度缺水、 $500 \sim 1000 \text{m}^3/\text{年}$ 为重度缺水、小于 $500 \text{m}^3/\text{年}$ 为极度缺水, 下列哪一项正确?

- A. “十五”期间, 浙江一直处于轻度缺水状态
- B. “十五”期间, 甘肃一直处于重度缺水状态
- C. “十五”期间, 北京和上海一直处于极度缺水状态
- D. “十五”期间, 广东一直处于轻度缺水状态

三、根据以下资料,回答 131~135 题。



131.2003~2007 年,乙国的年碳排放量最大值与最小值之间的差距为:

- A.7 亿吨 B.8 亿吨 C.9 亿吨 D.10 亿吨

132.2007 年两国碳排放量之和比 2006 年两国碳排放量之和约增加了:

- A.1% B.2% C.5% D.7%

133.2003~2007 年,甲国平均每年比乙国少排放的碳总量为:

- A.30 亿吨 B.48 亿吨 C.55 亿吨 D.60 亿吨

134.2004~2007 年,甲国的年碳排放量与上年相比增长幅度最大的年份是:

- A.2004 年 B.2005 年 C.2006 年 D.2007 年

135.根据以上资料,能够推出的是:

- A.碳排放量总是呈逐年上升趋势的国家是发展中国家,反之,发达国家的碳排放量总是呈逐年下降趋势
- B.2003~2006 年,乙国的年碳排放量稳中有升
- C.2003~2006 年,甲国的每年碳排放总量总低于乙国的每年碳排放总量
- D.甲国的年碳排放量的增速远大于乙国

※※※全部测验到此结束! ※※※