

2012 年度国家公务员录用考试 《行政职业能力测验》全真模拟预测试卷(三)

注意事项

- 1.行政职业能力测验共有五个部分,135 道题,总时限为 120 分钟。各部分不分别计时,但都给出了参考时限,供答题时参考。
- 2.将姓名与准考证号在指定位置上用黑色字迹的钢笔、签字笔或圆珠笔填写,并用 2B 铅笔在准考证号对应的数字上填涂。
- 3.请将题本上的条形码揭下,贴在答题卡指定位置。没有贴条形码的答题卡将按作废处理,成绩计为零分。
- 4.题目应在答题卡上作答,在题本上作答一律无效。
- 5.待监考老师宣布考试开始后,你才可以开始答题。
- 6.监考老师宣布考试结束时,你应立即停止作答,将题本、答题卡和草稿纸都翻过来放在桌上,待监考老师确认数量无误、发出离开指令后,方可离开考场。
- 7.试题答错不倒扣分。
- 8.严禁折叠答题卡!

第一部分 常识判断 (共 25 题,参考时限 15 分钟)

根据题目要求,在四个选项中选出一个最恰当的答案。

请开始答题:

- 1.党的十七大报告提出:在优化结构、提高效益、降低消耗、保护环境的基础上,实现_____到二〇二〇年比二〇〇〇年翻两番。
A.国内生产总值
B.国民生产总值
C.人均国内生产总值
D.人均国民生产总值
- 2.科学发展观是用来指导发展的,不能离开发展这个主题,离开了发展这个主题就没有意义了。这告诉我们,树立和落实科学发展观,必须始终坚持:
A.以经济建设为中心
B.以保护环境为中心
C.以调整结构为重点
D.以节约资源为重点
- 3.以下说法不正确的是:
A.福建第一大岛跨海大桥是平潭海峡大桥

B.嫦娥二号月面虹湾局部影像图的传回,标志着嫦娥二号任务所确定的工程目标全部实现

C.长征三号甲运载火箭成功将第六颗北斗导航卫星送入太空

D.亚洲残疾人运动会 12 月 12 日晚在广东奥林匹克体育场隆重开幕

4.参展上海世博会的我国各省市馆基本反映了当地的自然与人文特色。有展示鼓楼、苗寨、银饰等民族元素的;有展示蒙古包、祥云、马鞍等文化元素的;有以冰雪为主线布局展馆的。这些展馆所属省区依次是:

A.贵州、内蒙古、黑龙江

B.贵州、西藏、新疆

C.山西、内蒙古、黑龙江

D.山西、西藏、新疆

5.党的十七届四中全会通过的《中共中央关于加强和改进新形势下党的建设若干问题的决定》指出,党内民主是党的生命,要切实推进党内民主建设。推进党内民主是:

①增强党的创新活力的重要保证 ②加强党的思想建设的重要内容

③带动人民民主发展的重要举措 ④拓宽党的执政基础的重要途径

A.①②

B.①③

C.②④

D.③④

6.根据《农村土地承包经营纠纷调解仲裁法》,下列说法不正确的是:

A.解决农村土地承包经营纠纷的途径有和解、调解、仲裁和诉讼四种

B.农村土地承包经营纠纷仲裁应当开庭进行

C.农村土地承包经营纠纷采用“一裁终局”

D.农村土地承包经营纠纷仲裁不得向当事人收取费用

7.根据《社会保险法》,下列说法不正确的是:

A.个人跨统筹地区就业的,其基本医疗保险关系随本人转移,缴费年限累计计算

B.个人达到法定退休年龄时,基本养老金分段计算,统一支付

C.用人单位应当自用工之日起十五日内为其职工向社会保险经办机构申请办理社会保险登记

D.社会保险基金专款专用,任何组织和个人不得侵占或者挪用

8.根据《全国人民代表大会和地方各级人民代表大会代表法》的规定,下列说法不正确的是:

A.代表受原选区选民或者原选举单位的监督

B.代表对确定的候选人,只能投赞成票、反对票或者弃权

C.全国人民代表大会会议期间,一个代表团有权书面提出对国务院的质询案

D.全国人民代表大会会议期间,三十名以上的代表联名,有权书面提出对国务院的质询案

9.下列对应不正确的是:

A.《中国社会各阶级分析》——土地革命时期

B.《新民主主义论》——抗日战争时期

C.《论人民民主专政》——解放战争时期

D.毛泽东思想——建设中国特色社会主义理论的先导

10.下列关于生物常识,说法不正确的是:

A.转植酸酶基因玉米为“环保型、节约型、专用型”品种

B.莲藕基因组计划将绘制出世界第一份莲藕基因组精细图

C.人体共有 22 对常染色体和 1 条性染色体

D.詹姆斯·沃森和弗朗西斯·克里克提出 DNA 的双螺旋结构

11. 以下不属于“十二五”期间扩大内需战略的重点目标的一项是：
- A. 提升消费意愿 B. 促进消费升级
C. 切实改善消费者预期 D. 提高居民消费能力
12. 我国富有太阳能、地热能的地区是：
- A. 南方地区 B. 北方地区 C. 西北地区 D. 青藏地区
13. 扩张性货币政策的主要功能是：
- A. 抑制社会总供给 B. 缩小贸易顺差
C. 抑制社会总需求 D. 刺激社会总需求
14. 关于我国区域经济发展格局，说法不正确的是：
- A. 20 世纪 90 年代末期起，中国陆续出台了西部大开发、促进中部崛起和东北等老工业基地振兴等区域发展战略
- B. 1990 年 4 月 18 日，党中央、国务院作出开发开放浦东的重大决策
- C. 2010 年 6 月 18 日，重庆“两江新区”挂牌成立，是继上海浦东新区、天津滨海新区之后，我国第三个国家级新区、内陆唯一国家级新区
- D. 海西经济区是以上海为主体，范围涵盖浙江南部、广东北部和江西部分地区
15. 关于我国国防，说法不正确的是：
- A. 武装力量由中国人民解放军、中国人民武装警察部队、民兵组成
- B. 陆军主要由步兵、装甲兵、炮兵、工程兵、通信兵、防化兵等兵种组成
- C. 我国从 1949 年开始实行义务兵役制
- D. 中央军委的总部机关包括总参谋部、总政治部、总后勤部、总装备部
16. 解决我国民族问题的基本原则是：
- A. 在少数民族聚居的地方实行民族区域自治
- B. 维护祖国统一，坚持民族平等、互助、团结、合作和各民族的共同繁荣
- C. 保护和发民族语言文字，尊重各民族的风俗习惯
- D. 尊重和保护各民族的宗教信仰自由
17. 关于我国的特色城镇化道路，以下说法错误的是：
- A. 国情规定了我国必须走集约化的城镇化道路
- B. 我国城镇化道路的核心特征是和谐化
- C. 我国城镇化道路的总体规划是跨越式发展
- D. 在推进城镇化过程中，坚持市场引导和规划主导相结合
18. 我国是受自然灾害影响最严重的国家之一，下列关于我国自然灾害的表述中，符合实际的是：
- A. 长江中下游地区伏旱的同时，华北地区处于旱季
- B. 华北地区春旱的同时，新疆的河流进入汛期
- C. 我国山地面积大，是地震频发的重要原因
- D. 冻雨发生时，地面上空有一层温度高于 0℃ 的暖层，因此不会威胁飞机飞行安全
19. 以下说法错误的一项是：
- A. 隋唐时期，已有活字印刷的《史记》、《汉书》
- B. 韩非子主张建立君主专制，而黄宗羲则抨击君主专制，在他们各自所处的历史条件下，

其主张都具有进步性

C.“以伽利略的研究为基础,将其成果发挥至辉煌的顶点”的科学家是牛顿

D.17、18 世纪,欧洲思想领域出现了改造旧社会的政治构想

20.下列不属于我国四大佛教名山的是:

A.五台山

B.武当山

C.峨眉山

D.普陀山

21.关于人类探月,下列说法不正确的是:

A.“嫦娥一号”是我国的登月工程

B.阿姆斯特朗是登陆月球第一人

C.“阿波罗计划”是美国的登月工程

D.美国发射的“月球陨坑观测与遥感卫星”在月球上发现了水

22.下列各项,属于我国古代学习、吸收了外国经济文化成果的是:

①《缀术》

②唐乐

③熬糖法

④班田制

A.①②

B.①③

C.②③

D.③④

23.下列有关京剧的说法,不正确的是:

A.京剧是北京的地方剧种

B.京剧的行当主要有四类,即生、旦、净、丑

C.“四大徽班”进京是京剧形成中的重大事件

D.京剧中念白属于京韵

24.以下关于中国古代医学,说法不正确的是:

A.中医的“四诊法”是扁鹊所总结得出的

B.“五禽戏”是华佗模仿狮、鹿、熊、猿、鹤 5 种动物所创的中国传统健身方法

C.“医圣”是指东汉末年的张仲景

D.麻沸散是世界上最早的麻醉剂

25.科技创新与民生问题密切相关。下列表述不正确的是:

A.蒸汽机车、蒸汽轮船的出现,使交通运输业发生了革命性改变

B.电冰箱、洗衣机、吸尘器的使用,大大减轻了繁重的家务劳动

C.互联网的出现,标志着人类从信息封闭时代进入大众传播时代

D.“南优二号”杂交水稻的培育,有助于解决未来世界性饥饿问题

※※※第一部分结束,请继续做第二部分!※※※

第二部分 言语理解与表达

(共 40 题,参考时限 35 分钟)

本部分包括表达与理解两方面的内容。请根据题目要求,在四个选项中选出一个最恰当的答案。

请开始答题:

26.立春过后,大地渐渐从沉睡中苏醒过来。冰雪融化,草木萌发,各种花_____开放。再

过两个月,燕子_____归来。

填入划横线部分最恰当的一项是:

- A.次第 翩然 B.依次 悄悄
C.相继 悄然 D.竞相 姗姗

27.历史题材创作固然可以宽松些,不必严格_____某些历史细节的真伪,但艺术的虚构也不能_____基本的历史史实,只能在尊重史实的基础上寻找历史与艺术的契合点。

填入划横线部分最恰当的一项是:

- A.探究 忽略 B.考证 违背
C.推敲 违反 D.苛求 背离

28.“以人为本”是文艺复兴时期一度极大地解放生产力的口号。为适应新的发展要求,“以人为本”的_____进一步深化,_____进一步扩展,体现了深刻的文化“超越”。

填入划横线部分最恰当的一项是:

- A.内涵 外延 B.意义 影响
C.思想 对象 D.力度 广度

29.在王村,最好的游览方式是泛舟酉水之上,除了能将水光山色尽收眼底,河畔极具湘西特色的吊脚楼也是一绝——_____,依山逶迤,重重叠叠,直贯山腰,形成五里长街。

填入划横线部分最恰当的一项是:

- A.星罗棋布 B.鳞次栉比 C.美轮美奂 D.雕栏玉砌

30.震区各级政府在恢复和发展经济的同时,还要多想办法,积极_____再就业之路,以便使更多的下岗工人得到合理的_____。

填入划横线部分最恰当的一项是:

- A.拓宽 安顿 B.开辟 安排
C.开拓 安放 D.拓展 安置

31.那是一个大师辈起的年代,是一个充满_____的年代,也是一个尊重知识、_____“异端”、追求平等的年代。

填入划横线部分最恰当的一项是:

- A.问题 宽容 B.希望 排斥
C.困惑 赞赏 D.朝气 渴望

32.书籍是我们的良师益友,困惑时它给你_____,悲哀时它给你慰藉,得意时它给你_____,低落时它给你力量。

填入划横线部分最恰当的一项是:

- A.启发 指引 B.鼓舞 清醒
C.启发 清醒 D.鼓舞 指引

33.改革,哪怕是仅仅一小步的改革,也都是需要_____的。倘若一种行为从一开始就定错了目标,或者更有甚者,如果这种行为从一开始就没有定下目标,只是_____地走一步算一步,那完全是有可能“摸着石头过不了河”的!

填入划横线部分最恰当的一项是:

- A.远见 随波逐流 B.勇气 得过且过
C.魄力 漫无目的 D.目标 随遇而安

34. 以对联与书法为题材的出版物甚多,几乎可以说是_____,但是编纂形式基本类同。而这套五卷本的《名联颂中华》丛书却不落俗套,编者自出机杼,将对联与书法艺术完美地结合在一起,使这套丛书别开生面,给人_____的感觉。

填入划横线部分最恰当的一项是:

- A.触手可及 独树一帜 B.多如牛毛 别具一格
C.俯拾皆是 耳目一新 D.堆积如山 别出心裁

35. 我自己觉得,我并不是那样_____的人。我是把我自己的生命看得和自己身上的任何_____一样,只要用在得当的地方,我随时都可以送人。

填入划横线部分最恰当的一项是:

- A.斤斤计较 品质 B.贪生怕死 物品
C.小心翼翼 器官 D.损人利己 本领

36. 常有人说,效率与公平的关系问题是一个_____的问题,孰先孰后、孰轻孰重往往是公说公有理、婆说婆有理,难以定于一端。这说明,这个问题牵扯面广、十分复杂。对于这样复杂的问题,我们不妨跳出来,以更大的_____来分析,这样或许能得出一些新的认识。

填入划横线部分最恰当的一项是:

- A.见仁见智 视野 B.莫衷一是 眼界
C.因人而异 思路 D.众说纷纭 眼光

37. 雨丝,从其造型上去看,象是_____在天和地之间的条条琴弦;每个雨滴,是在琴弦上_____着的音符;天空和大地,是它演出的无边无垠的舞台;它演出的,是人世间无与伦比的大自然的美丽乐章。

填入划横线部分最恰当的一项是:

- A.连绵 跳动 B.连亘 翻滚 C.连接 跳跃 D.联结 飘逸

38. 这次国际金融危机_____了中国特色发展模式的优越性,中国积极应对国际金融危机,并以本国经济增长为相关国家和经济体_____困境提供市场和资金支持,进而在国际危机治理和国际机构改革过程中发挥了建设性作用,改善了国际形象,提升了道义感召力,国际社会开始重新_____中国发展模式。

填入划横线部分最恰当的一项是:

- A.凸显 摆脱 审视 B.显现 走出 注视
C.表明 远离 注意 D.突显 去除 思考

39. 英雄主义者往往也是理想主义者。一般来说,中国知识分子擅长_____,而不擅起而践行。也可以说,往往空谈理想而缺乏实现理想的能力和手段。

填入划横线部分最恰当的一项是:

- A.纸上谈兵 B.夸夸其谈 C.坐而论道 D.侃侃而谈

40. 季羨林、任继愈两位学术巨擘始终坚持自己的做人准则,诚信不欺,自有古人之风。即便是“黄钟毁弃,瓦釜雷鸣”,他们都不为所动,已过耄耋之年仍_____,面对世俗小人的_____,他们_____处之。

填入划横线部分最恰当的一项是:

- A.笔耕砚田 空穴来风 泰然 B.笔酣墨饱 流言蜚语 安然
C.笔下生花 风言风语 坦然 D.笔耕不辍 蜚短流长 淡然

41.大山因为有脊梁,所以挺拔俊美;人因为有脊梁,所以_____。新闻因为有了脊梁,才能出淤泥而不染;新闻人因为有了脊梁,才能_____,稳如泰山。

填入划横线部分最恰当的一项是:

- A.英姿飒爽 铁面无私 B.精神抖擞 克己奉公
C.威风凛凛 忠于职守 D.顶天立地 刚正不阿

42.在温带,温期和冰期的交互到来,气温大幅度变化,都会令新物种迅速出现,但也迅速_____。相反,在气温相对_____的热带,物种面临的环境挑战不那么_____,进化的速度自然变慢。

填入划横线部分最恰当的一项是:

- A.灭绝 恒定 严峻 B.灭亡 稳定 严酷
C.消失 平稳 严峻 D.消亡 确定 严酷

43.电影是以_____为始端,而后依靠其_____感染与_____变换走到了今天。

填入划横线部分最恰当的一项是:

- A.艺术 风格 技术 B.风格 艺术 技术
C.风格 技术 艺术 D.技术 艺术 风格

44.鉴于对出口的严重_____,中国的实体经济将不可避免地受到全球经济下滑的_____。但是经济危机也给中国带来新的机会,它在经历了危机的_____后会变得更强。

填入划横线部分最恰当的一项是:

- A.依赖 冲击 洗礼 B.依靠 拖累 磨砺
C.仰仗 打击 考验 D.倚重 影响 锻炼

45.人是会思考的芦苇,也是世界上唯一会运用逻辑推理的生物。环环相扣,_____的逻辑推理,确实可以帮助我们进行正确的思考、研究和决策。在二战前著名的德国国会纵火案中,季米特洛夫的无罪辩护,就是利用自己娴熟的法律知识和_____的逻辑推理,驳倒了法西斯分子的诬陷栽赃,使法官不得不当庭宣判无罪释放。但错误的逻辑推理也常常可以使人陷入诡辩荒唐的_____。

填入划横线部分最恰当的一项是:

- A.思维缜密 不容辩驳 泥潭 B.严丝合缝 毋庸置疑 泥沼
C.层层递进 不容置喙 泥塘 D.举一反三 无懈可击 泥淖

46.兔子是奔跑冠军,可是不会游泳。有人认为这是小兔子的弱点,于是,小兔子的父母和老师就强制它去学游泳。兔子耗了大半生的时间也没学会。它不仅很疑惑,而且非常痛苦。猫头鹰说:“兔子是为奔跑而生的,应该有一个地方让它发挥奔跑的特长。”看看我们的四周吧!大多数的教育都遵循一条不成文的定律:让人们努力改正弱点。人人都有这样的想法:只要能改正一个人的缺点,他就会变得更好。可悲的是,这种推断是完全错误的。只注意改正一个人的缺点,而不重视发挥它的优点,只能造就一个平常或平庸的人。

这段文字意在说明:

- A.每个人都有弱点,过于追求完美是没有必要的
B.一个人改正了缺点,不一定会变得更好
C.发现和激励一个人的特长比让其改正弱点更有利于其发展
D.看一个人不应该只看到他的短处,更要看到他的长处

47.从“返乡潮”到“用工荒”,一方面从侧面反映出我国应对国际金融危机的措施及时有力,经济形势不断企稳回升向好。但另一方面,也暴露出了我国目前整体劳动力结构失衡等深层次问题。一边是“就业难”,一边却是“用工荒”;一边是企业对中高级技术人才“求贤若渴”,一边却是民工以缺乏专业技能者居多。要化解“用工荒”问题,除了提高最低工资标准之外,还需要以长远眼光建立一整套长期稳定的工资增长激励机制,同时应加大对中低劳务人员的专业培训投资,让民工在工作中得到价值的不断提升。

对这段文字的主旨概括最准确的一项是:

- A.阐述“用工荒”折射出的积极效应及消极影响
- B.分析“用工荒”暴露出的问题及应采取的应对举措
- C.指出提高农民工待遇是化解“用工荒”的关键
- D.说明劳动力结构的失衡是导致“用工荒”的深层次原因

48.星座男女们热爱的星座理论、星座测试其实都是网络时代快餐式的占星术。《不列颠百科全书》给占星术下的定义是:占星术是一种伪科学。可为什么星座的描述语会让人感觉像是遇到了时空的知己?秘密其实就在星座语里。仔细研究你就会发现,这些描述语的遣词总是那么小心翼翼,造句总是那么模棱两可。总是挑你爱听的话说,而它们指责你的缺点也可从另一角度看做优点,从本质上来说,它们是在奉承你。星座男女们深信不疑,从另一个角度说只是不知不觉中接受了它们的奉承。

对这段文字理解不正确的一项是:

- A.星座男女们热爱的星座理论、星座测试其实是缺乏科学根据的
- B.星座的描述语总是倾向于模棱两可,留有余地,一般不会妄下定论
- C.星座的描述语本质上是一种奉承,一般不会轻易指责你的缺点
- D.从某种程度上来说,星座男女们相信星座语其实是接受了星座语的奉承

49.宋朝的朱熹,曾经给《论语》做过注释,可是假如当孔子正在跟颜回、子路他们谈话的时候,朱熹闯了进去,管保他们在讲什么,他是一句也听不懂的。不光是古代的话后世人听不懂,同一种语言在不同的地方也经历着不同的变化,久而久之也会使这个地方的人听不懂那个地方的话,形成许许多多方言。

这段话主要支持了这样一种观点,即:

- A.由于语言不通,朱熹对《论语》的注释不可能是完全正确的
- B.不同的语言、方言在很大程度上影响了人们的沟通和交流
- C.在不同的历史时期或不同的地区,语义语音的变化是非常显著的
- D.孔子、颜回和子路讲的方言和朱熹讲的方言是完全不同的

50.在海底的泥土中蕴藏着丰富的未被开发的非化石能源资源,其总储量可能大大超过目前已探明的化石能源的总储量。这些能源是甲烷的气水混合物。它是深海细菌、海水高压与海底低温的共同作用,经数千年积累而生成的,呈冰晶状。这种能源深埋在距海平面 500 米至 3000 米的沉积物中。

对“非化石能源资源”的解释,最准确的一项是:

- A.是由于深海细菌的作用,在高压低温条件下生成的储量丰富的非化石能源
- B.是蕴藏在海底泥土中,储量巨大,尚待开发的冰晶状的甲烷的气水混合物能源
- C.埋藏在深海沉积物中,数千年前形成的丰富的气水混合物的沉积物

D.是距海平面 500 米~3000 米的海底冰晶状能源,即甲烷的气水混合物的沉积物

51.混凝土是现代建筑的最主要材料之一,它在青藏铁路工程中尤为重要。青藏铁路桩基使用的水泥都是特殊配方的,以适应该地严酷的自然环境。浇铸桩基最主要的因素是湿混凝土的温度。将湿混凝土的温度降至零上 5 度,混凝土就会很快地与周围冻土冻结在一起。即使冻土的上层在夏天发生融沉,深入地下的桩基部分依然坚固,承载力不变。在永久冻土区修铁路时,温度可能是你最危险的敌人,也可能是你最好的朋友。

对上述文字概括最恰当的一项是:

- A.混凝土这一现代建筑材料在青藏铁路建设中发挥了汗马功劳
- B.在浇铸桩基过程中控制湿混凝土的温度解决了青藏铁路在永久冻土区的修建难题
- C.修建青藏铁路的核心问题是如何将混凝土桩基打入极不稳定的冻土,并且避免冻土融化
- D.在永久冻土区修铁路,温度是把“双刃剑”

52.尽管亚马孙热带雨林是世界上保护得较好的一片原始森林,但其面积正在日益缩减。近年来,雨林遭受破坏的速度非但没有被遏制住,还有加快的趋势,仅在 1999 年至 2007 年的 8 年间,就消失了近 1500 平方公里。热带雨林的破坏加速了气候变暖,并将给人类带来灾难性后果。一位英国科学家警告说,如果不注重雨林的保护,随着树木死亡,土壤将被烈日烤干,雨林因此可能变成沙漠。这,绝不是危言耸听;2006 年至 2007 年,拥有世界 20% 淡水量、世界水量最充沛的亚马孙河流域发生了干旱,就是最有力的证明。

这段文字意在说明:

- A.雨林持续遭到破坏,形势不容乐观
- B.雨林破坏后果严重,保护雨林刻不容缓
- C.保护雨林有望遏制全球变暖和干旱的趋势
- D.雨林保护不力,沙漠化威胁人类生存

53.一些人有这样一种思想误区,即只讲“实现自身价值”,不讲“提高自身价值”。人当然天生就有价值,这价值应当重视,但还有待提高。提高不能靠包装与炒作,必须要真正提高质量,具体表现无非就是德与才,这两方面的提高,只有通过克己修身,“玉不琢,不成器”,人不克己修身,如何能成“大器”? 所以孟子说:“天将降大任于斯人也,必先苦其心志,劳其筋骨,饿其体肤,空乏其身,行拂乱其所为,所以动心忍性,增益其所不能。”不经艰苦磨炼,如何能“增益其所不能”?

这段文字意在:

- A.澄清对待自身价值的思想误区
- B.强调德才兼备是人才质量的核心
- C.批评某些人一味自我包装炒作的行为
- D.阐明克己修身对提高自身价值的重要意义

54.性格内向从本质上说是一种个性特征。它与害羞和具有孤僻的性格特征不同,与疾病无关。它也不是你能改变的事物。

作者接下来最可能主要介绍的是:

- A.性格外向的本质
- B.如何改变性格内向
- C.性格内向的危害
- D.性格内向的特征

55.干部精神状态如何,或大或小地影响到老百姓的生活和福祉。如果每个人都振作起来,就会把各方面的工作干得更好,就可能使社会多增加一些就业岗位;就可能使农民收入增加;

就可能使贫困地区的中小学多增加几张课桌。

这段话的中心论点是：

- A.干部精神状态的好坏,直接决定着老百姓生活质量的高低
- B.农民生活水平的提高,与领导干部的带头模范作用分不开
- C.如果每个人都振作起来,就可能增加就业岗位
- D.干部作风和干劲是推动我们各项事业发展进程的领导力量

56.只要一个国家的决策者,真心希望发展市场经济,愿意按照资本创造与流动的规律办事,能够尊重多数国民基于现实的财产占有与处置权利,就可以让多数所有权变得合法,从而创造出让合法财产灵活流动的环境。这正如将彼此孤立的湖泊,串连成一片巨大的水域,避免零星的湖水,消失在一块块贫瘠的沙地里。一旦资本流动起来,财富创造与效率,就会在市场中野蛮生长。

对这段文字的主旨理解最准确的是：

- A.国家需要尊重多数国民的财产占有与处置权利
- B.没有法律保护的所有权,是效率偏低、缺乏活力的所有权
- C.市场经济的发展程度与一国决策者的水平密切相关
- D.所有权合法化,是市场经济正常发展的关键

57.世界银行在国际上享有盛誉并具有相当的约束力,它既能要求得资方国家进行产权保护等制度性改革,又能直接参与投资,后者本身也让民间投资者更有信心,因而使发展中国家的投资项目风险降低。这不仅能增加对发展中国家的投资,而且使他们的融资成本降低。

这段话主要讨论的是：

- A.世界银行如何帮助发展中国家
- B.世界银行如何降低投资风险
- C.世界银行具有什么样的作用
- D.世界银行如何建立投资者的信心

58.依次填入下面一段文字横线处的语句,衔接最恰当的一项是：

“锅庄舞”是藏族民间舞蹈。在节日、庆典之际,人们相聚在草地上、庭院里,男女各站一边,拉手成圈,_____,_____,_____,_____,_____,充分展示着藏族人民纯朴、热情和剽悍的民族性格。

- ①众人便欢呼着挥舞双袖
- ②众人随着浑厚嘹亮的歌声作“甩手踏步”沿圈走动
- ③通常由男子带头启唱
- ④撒开双臂侧身拧腰大步跳起
- ⑤唱词告一段落后

- A.②③①⑤④
- B.③⑤②①④
- C.②①⑤③④
- D.③②⑤①④

59.依次填入下面一段文字横线处的语句,衔接最恰当的一项是：

弘扬生命的价值,必须将作为个体的人和作为社会一分子的人统一起来。一个人打造生命品质,_____；_____；_____。_____。

- ①不是追求自我的幸福,而是将这份幸福和成功也体现在对社会的贡献上
- ②不是追求个人某方面的突破,而是追求人格的全面发展
- ③这样所弘扬的生命价值,就有了全面性
- ④不是追求局部的成功,而是生命的整体丰盈

- A.③①④②
- B.②④①③
- C.②①④③
- D.③②④①

60. ①在南坡,带状分布的原始云杉林海连绵不断,棵棵巨杉像一把把利剑,直插云天。

②在北坡五花甸草原上,你可以看见新疆细毛羊群和奔驰的伊犁马群。

③在遮天蔽日的杉林下,马鹿、狍鹿、棕熊、雪豹等野生动物出没其间。

④吃过早饭后,继续南下,就进入喀什河和巩乃斯河的草原带和森林带。

⑤各种森林鸟类,鸣声不断。

将以上 5 个句子重新排列,语序正确的是:

A. ①③⑤④②

B. ④②①③⑤

C. ①③⑤②④

D. ②④①③⑤

61. 每逢春节等中华传统节日,“舞龙”都是一个备受欢迎的节目。_____。可以说,不论天涯海角,凡是华人聚集的地方,都能看到“龙”的身影。

填入划横线部分最恰当的一句是:

A. 中华儿女都是“龙的传人”,中国人在海外被称为唐人

B. “龙”是中华民族图腾,中华儿女都是“龙的传人”

C. “龙”是中华民族图腾,中华儿女都是炎黄子孙

D. 中国人都是“龙的传人”,中国皇帝都称“真龙天子”

62. 文化的演变有自身规律。如果不尊重文化进化的自然规律,所谓建设文化就可能变成戕害文化。拿现在人们纷纷说要复兴的国学为例。据学者研究,中国历史上国学最繁荣的时期有三个,春秋战国、魏晋南北朝、清末民初,这三个时期有一个共同特征,那就是权威破碎,人们思想上的禁锢被打破,因此迸发出灿烂的创造之光。文化需要繁荣和发展,但如何给文化发展一个宽松的环境,如何更加解放思想,也许是更需要我们各方人士共同思考研究的问题。

这段文字意在说明:

A. 文化的发展应尊重其自身的进化规律

B. 应给文化的发展创造一个更加宽松的环境

C. 国学的复兴需要解放思想,体现创造性

D. 应继承和发扬传统文化,使其再焕光彩

63. 3 万年前,在山洞里围坐在篝火旁的一个家族或者部落,已经有了获取消息的需要。虽然那时没有摄影师,但已经有了可以完成类似工作的人,即那些在山洞墙壁上画下猎杀猛犸象的人。那时也没有记者,但却有讲故事的人,这些人热衷于观察周遭发生的一切,并用一种娱乐或是令人信服的方式讲给他人,而围坐在篝火旁的人则带着热情、惊恐或是微笑聆听,想知道打猎的时间、地点和过程等等。今天没有猛犸象,却有足球、政治、战争、经济危机、艺术、名人生活。虽然人的思维发生了根本性的改变,但是对于讲故事的人来说,可讲的故事很多很多。

根据这段文字,“但是对于讲故事的人来说,可讲的故事很多很多”的原因是:

A. 新闻并非稍纵即逝的时尚产品

B. 获取信息一直是人类不变的需求

C. 如果你有精彩的故事可讲,就不会缺少倾听的人

D. 人们乐意听故事,尤其是讲得精彩的故事

64. 近年来,北半球极端寒冷事件的频繁发生,使得人们对全球变暖趋势的质疑日益升温。俄罗斯气象界最近再次提出了“冰河理论”,他们认为,由于太阳活跃度减弱等原因,释放到地球的能量正在减少,而这恰恰是过去几次地球冰河期的主因之一。因此,未来 100 年地球的气

温趋势并非变暖而是变冷。然而“冰河理论”早在上世纪 80 年代就已提出,不过一直敌不过“变暖理论”。国际气象学界的主流观点仍支持变暖趋势。

对这段文字理解正确的一项是:

- A.“冰河理论”是对近年来北半球极端寒冷事件频发的解释之一
- B.全球变暖趋势有望缓解,地球可能进入冰河期
- C.北半球极端寒冷事件频发与气候变化趋势并无必然联系
- D.“冰河理论”有望取代“变暖理论”,但还有待进一步论证

65.领导带领机关干部扫大街,从官员和机关的角度看,这当然是好事,可以拉近与民众的距离,显示出领导干部勤政为民。但是,从干部的个人权利讲,义务劳动不是不可以,但不能是行政命令的驱使;从环卫部门的角度来看,如果干部常态化扫街确有必要,反映出的可能是两个方面的问题,要么环卫工人的数量不够,人手短缺;要么是环卫工人不好好干活,工作留下了很多死角。

下列表述最能概括上述文字内容的是:

- A.领导干部带头扫街、参加义务劳动是对个人权利的侵犯
- B.领导干部带头扫街能激发环卫部门工作人员的工作积极性
- C.领导干部带头扫街可以拉近与民众的距离,促进干群关系和谐
- D.领导干部带头扫街,很可能造成民众的误解,达不到理想效果

※※※第二部分结束,请继续做第三部分!※※※

第三部分 数量关系

(共 15 题,参考时限 20 分钟)

在这部分试题中,每道题呈现一段表述数字关系的文字,要求你迅速、准确地计算出答案。

请开始答题:

66.某班进行数学测试,共考 3 题,每题的评分是 0、1、2、3、4、5、6、7,有一群学生每人得分的乘积都是 36,而且任意两人各题得分不完全相同,那么这群学生最多有多少人?

- A.12
- B.15
- C.16
- D.18

67.有 16 个盒子,里面放了 27 个小球,每个盒子放了 1 个、2 个或者 3 个小球,其中放 1 个小球的盒子数与放 2 个和 3 个小球的盒子总数一样多,问放 2 个小球的盒子有多少个?

- A.3
- B.4
- C.5
- D.6

68.15 辆车组成一列车队以速度 v 经过主席台,已知主席台长度为 L ,车长为 S ,每辆车之间的距离为车长的 15 倍,请问这列车队经过主席台需要多少时间?

- A. $\frac{225S+L}{v}$
- B. $\frac{240S+L}{v}$
- C. $\frac{225S+2L}{v}$
- D. $\frac{210S+2L}{v}$

69.2008 年,父亲的年龄是兄弟两人年龄和的 2 倍;6 年前,父亲的年龄是兄弟两人年龄和的 4 倍。父亲是哪一年出生的?

- A.1966 年
- B.1958 年
- C.1960 年
- D.1968 年

70.五对夫妇排坐一长桌,要求夫妇相邻而坐,且同性别的相间而坐,问有多少种坐法?

A.24 B.120 C.240 D.14400

71.现有一批货物用汽车来运,如果增加 4 辆车,则可提前 1 天运完;如果减少 6 辆车,则需要推迟 3 天运完。请问原来需要多少天运完货物?

A.3 B.4 C.5 D.6

72.袋子里红球与白球的数量之比为 19:13,放入若干个红球后,红球与白球的数量之比变为 5:3,再放入若干个白球后,红球与白球的数量之比为 13:11,已知放入的红球比白球少 80 个。那么原来袋子里共有多少个球?

A.650 B.720 C.840 D.960

73.有老师和甲、乙、丙三个学生,现在老师的年龄刚好是三个学生的年龄和;9 年后,老师年龄为甲、乙两个学生的年龄和;又 3 年后,老师年龄为甲、丙两个学生的年龄和;再 3 年后,老师年龄为乙、丙两个学生的年龄和。那么老师现在的年龄是()岁。

A.33 B.35 C.36 D.39

74.现有 30ml 和 40ml 的试管各一个,纯净水和纯酒精各 2000ml。现在需要在大烧杯里配置某种酒精溶液 150ml,其中酒精和水的体积比为 1:2。若倒进或者倒出溶液都算一次操作,则最少需要多少次操作才能满足要求?

A.10 B.11 C.12 D.13

75.有 A、B、C 三支球队进行循环赛,每两队之间各赛一场,胜一场得 3 分,平一场得 1 分,负一场得 0 分。已知 A 队总进球数为 0,平了 1 场;B 队净胜球数为-2,胜了一场。则 C 队得了()分。

A.0 B.1 C.4 D.6

76.有一块长为 30 米、宽为 20 米的长方形苗圃,里面等距离的栽满了小树苗,每棵小树苗之间的间隔为 2 米,这个苗圃里面最多可以栽多少棵小树苗?

A.146 B.176 C.168 D.150

77.图书馆现将 8 本新书平均分成 4 份,请问一共有多少种分法?

A. $A_8^2 A_6^2 A_4^2 A_2^2$ B. $C_8^2 C_6^2 C_4^2 C_2^2$ C. $\frac{A_8^2 A_6^2 A_4^2 A_2^2}{A_4^4}$ D. $\frac{C_8^2 C_6^2 C_4^2 C_2^2}{A_4^4}$

78.容器里盛满 60 升纯酒精,倒出若干升后,用水加满,然后倒出比上次多 14 升的溶液,再用水加满,如果这时的纯酒精和水各占一半,问第一次倒出的纯酒精是多少升?

A.6 B.8 C.9 D.10

79.某公司现在将一些签字笔分给公司员工,平均每个人可以分得 $\frac{31}{7}$ 支;现决定多买一些笔,发现至少想买 24 支笔才能使得每个人所分得的笔数为整数。请问,该公司有多少位员工?

A.35 B.42 C.49 D.56

80. 2001 个球平均分给若干个人,恰好分完。若有一个人不参加分球,则每人可以多分 2 个,而且球还有剩余;若每人多分 3 个,则球的个数不够,则原来每人平均分到多少个球?

A.87 B.56 C.63 D.69

※※※第三部分结束,请继续做第四部分! ※※※

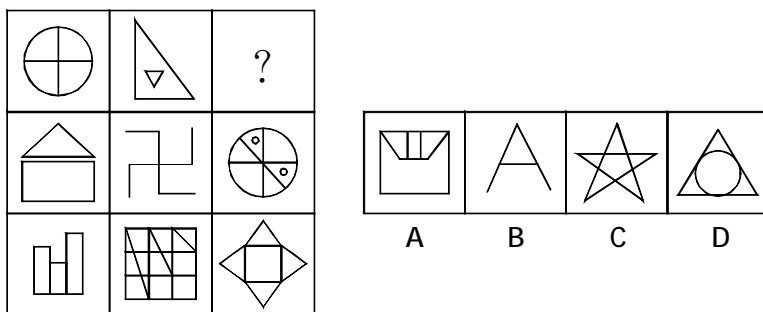
第四部分 判断推理

(共 40 题, 参考时限 35 分钟)

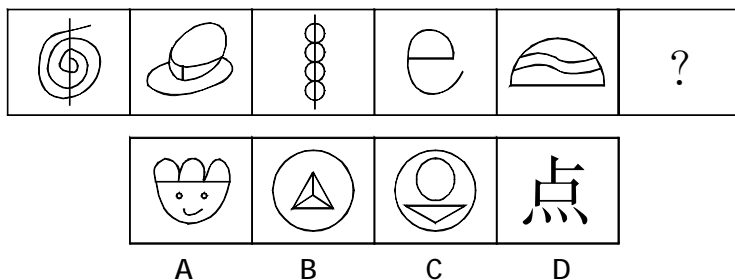
一、图形推理。请按每道题的答题要求作答。

请开始答题:

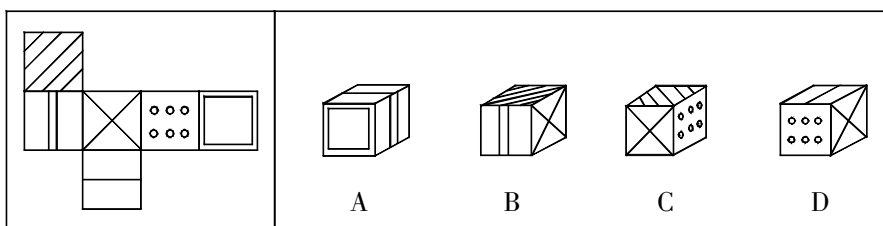
81. 从所给的四个选项中, 选择最合适的一个填入问号处, 使之呈现一定的规律性:



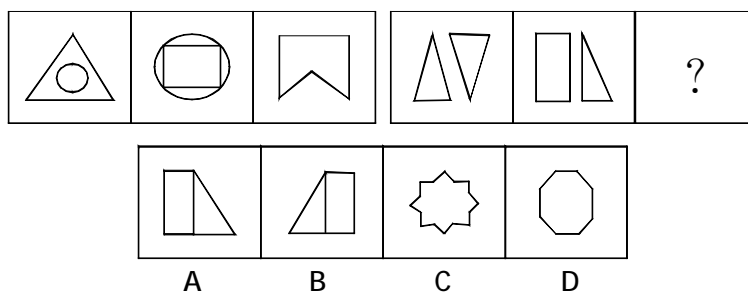
82. 从所给的四个选项中, 选择最合适的一个填入问号处, 使之呈现一定的规律性:



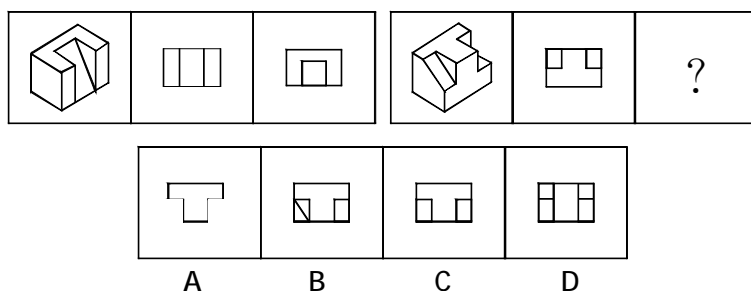
83. 左边给定的是纸盒的外表面, 下面哪一项不能由它折叠而成?



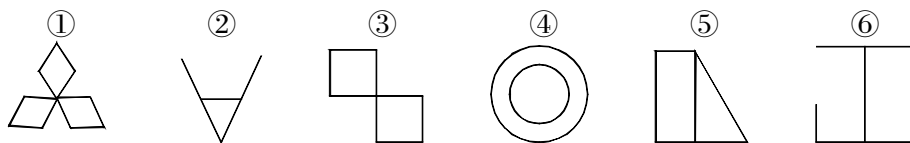
84. 从所给的四个选项中, 选择最合适的一个填入问号处, 使之呈现一定的规律性:



85. 从所给的四个选项中, 选择最合适的一个填入问号处, 使之呈现一定的规律性:



86. 把下面的六个图形分为两类, 使每一类图形都有各自的共同特征或规律, 分类正确的一项是:



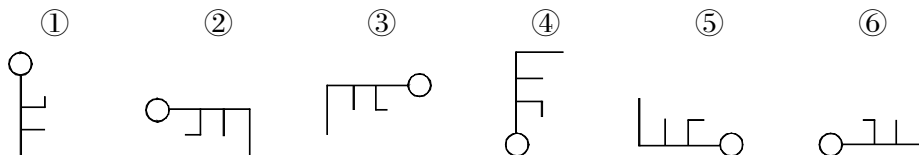
A. ①②③, ④⑤⑥

B. ①③⑤, ②④⑥

C. ①④⑥, ②③⑤

D. ①③⑥, ②④⑤

87. 把下面的六个图形分为两类, 使每一类图形都有各自的共同特征或规律, 分类正确的一项是:



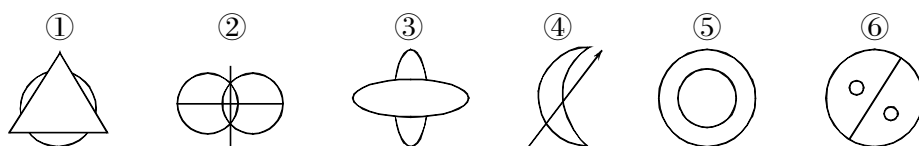
A. ①②③, ④⑤⑥

B. ①③④, ②⑤⑥

C. ①④⑥, ②③⑤

D. ①③⑥, ②④⑤

88. 把下面的六个图形分为两类, 使每一类图形都有各自的共同特征或规律, 分类正确的一项是:




A. ①②③, ④⑤⑥

B. ①③④, ②⑤⑥

C. ①④⑥, ②③⑤

D. ①③⑥, ②④⑤

89. 把下面的六个图形分为两类, 使每一类图形都有各自的共同特征或规律, 分类正确的一项是:



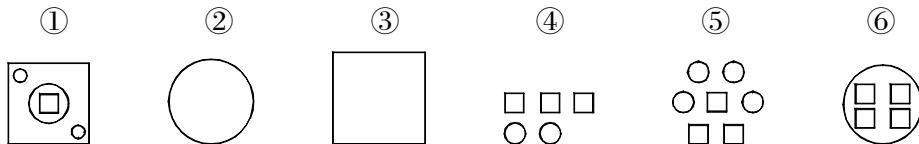
A. ①②⑤, ③④⑥

B. ①③④, ②⑤⑥

C. ①④⑥, ②③⑤

D. ①③⑥, ②④⑤

90. 把下面的六个图形分为两类, 使每一类图形都有各自的共同特征或规律, 分类正确的一项是:



A. ①②③, ④⑤⑥

B. ①②⑤, ③④⑥

C. ①④⑥, ②③⑤

D. ①③⑥, ②④⑤

二、定义判断。每道题先给出定义, 然后列出四种情况, 要求你严格依据定义, 从中选出一个最符合或最不符合该定义的答案。注意: 假设这个定义是正确的, 不容置疑的。

请开始答题:

91. 跨媒体制作是指将近期具有一定程度经济效益的作品通过不同传播媒体制作出数种副产品而展开的商业行为。

根据上述定义, 下列属于跨媒体制作的是:

- A. 电视剧《三国影义》改编自罗贯中的小说
- B. 奥运会开幕式同时采用了动态空中焰火组图、地面 LED 系统等技术
- C. 拍摄《黄飞鸿》系列电影
- D. 《喜洋洋与灰太狼》电视剧很受欢迎, 出现了同名电影

92. 印象管理, 指人们试图管理和控制他人对自己所形成的印象的过程。通常, 人们总是倾向于以一种与当前的社会情境或人际背景相吻合的形象来展示自己, 以确保他人对自己做出愉快的评价。

根据上述定义, 下列属于印象管理的是:

- A. 某香港明星的经纪人想尽办法让明星多参与电视娱乐节目, 以此提高人气
- B. 董事长批评陈经理说, 客户看到你们的办公室天天乱成这样, 哪里会对公司有信心
- C. 林某听到同学偷偷说自己的坏话就忍不住上去打了他
- D. 面试前, 小李在服饰、发型等方面都作了精心准备, 以求一次成功

93. 社会规范, 是人们社会行为的规矩, 社会活动的准则。它是人类为了社会共同生活的需要, 在社会互动过程中衍生出来, 相习成风, 约定俗成, 或者由人们共同制定并明确施行的。其本质是对社会关系的反映, 也是社会关系的具体化。

根据上述定义, 下列属于社会规范的是:

- A. 小刘与小李婚前约法三章, 约定婚后双方不能干涉对方自由
- B. 某校规定女生不能留长头发, 不合规定的要接受处分, 不允许回校上课
- C. 由中华人民共和国人民代表大会制定通过的《中华人民共和国宪法》
- D. 某企业实行末位淘汰制, 每次绩效考核结果最差的将被开除

94. 商业欺诈是指在市场交易、投资、服务过程中, 通过虚构隐瞒事实、发布虚假信息、签订虚假合同以及夸大宣传等手段, 误导、欺骗单位和个人, 骗取钱财和各种物质利益, 破坏市场经济秩序, 损害人民群众合法权益的行为, 是违背诚实信用原则, 以牟取利益为目的, 以欺骗为手段的不正当竞争行为。

根据上述定义,下列属于商业欺诈的是:

- A.王某在和邹女士同居之后不仅骗光了邹女士的钱,还拿走了她所有值钱物品
- B.某酒吧高价出售一位当红歌星歌友会的门票,结果当晚该歌星因交通意外没能到场
- C.某网站被植入发布虚假中奖信息的木马,只要点击中奖对话框电脑就会感染木马
- D.某医药企业请一位美国留学生冒充外国专家,拍摄药品虚假宣传广告在电视台播放

95.生态平衡是指在一定时间内生态系统中的生物和环境之间、生物各个种群之间,通过能量流动、物质循环和信息传递,使它们相互之间达到高度适应、协调和统一的状态。在一定限度的干扰下,生态系统能通过自我调节恢复到初始的稳定状态,一旦超过就会衰退乃至崩溃。

根据上述定义,下列表述不正确的是:

- A.草原应设定最大适宜载畜量,才能保证生态平衡
- B.应根据环境的自净能力规定污染物的排放量
- C.食物链是一种能量流动的形式
- D.生态系统衰退的主要原因是受到人类的污染

96.营销近视症是指不适当地把主要精力放在产品上或技术上,而不是放在市场需要上,结果导致企业丧失市场,失去竞争力。

根据上述定义,下列最符合营销近视症的一项是:

- A.物美价廉
- B.以质取胜
- C.一分钱一分货
- D.酒香不怕巷子深

97.妄想是一种病理性的歪曲信念,是病态的推理和判断,它具有以下特征:(1)信念的内容与事实不符,没有客观现实基础,但患者坚信不疑;(2)妄想内容均涉及患者本人,总是与个人利害有关;(3)妄想具有个人独特性;(4)妄想的内容因文化背景和个人经历而有差异,但常有浓厚的时代色彩。

下列描述的症状可以被判断为妄想的一项是:

- A.小王最近总是反复思考“先有蛋,还是先有鸡”这个问题,虽然自己也知道没有必要,可是就是无法把这个问题从脑子里清除掉
- B.丽丽最近感到身边的事物和环境发生了变化,变得不真实,周围好像舞台布景,树、房屋好像纸糊的一样,毫无生气
- C.老张最近总是在家中听到有人在门口骂他,尽管老伴告诉他说自己什么都没有听到
- D.因自己的腹部有一块椭圆形的胎记,小李认为自己是拥有超能力的外星人的后代,尽管听到的人都觉得这是无稽之谈,可他自己却深信不疑

98.伪造货币罪,是指仿照国家货币的票面、颜色、形状,采用各种方法制作假币,冒充真币的行为。

下列选项中,属于伪造货币罪的是:

- A.胡某将 100 张 100 元的人民币揭层加工,变成 200 张 100 元的人民币,并多次用于购物
- B.苏某在路边以 850 元的价格购买了假人民币 5000 元,并用于购物
- C.王某为炫耀本人画技,精心绘制了一张逼真的百元人民币,将其带到办公室向他人展示
- D.李某利用在印刷厂的亲戚关系印刷了大量缅币,并用其在边境上购得货物

99.权威接受论:如果上级发出的一个指令性的沟通交往信息为下级所接受,那么这个权力就是被遵从或成立了;如果下级不接受这种沟通交往信息,就是拒绝了这种权力。也就是说,一

项命令是否具有权威,取决于命令的接受者,而不是命令的发布者。

根据上述定义,下列描述不符合权威接受论的一项是:

- A.如果指令性信息的沟通出现障碍,则上级的权威受到影响
- B.只有下属理解并执行了命令,上级的权力才能够实现
- C.上级实际上没有任何权力,下级才是权力的真正所有者
- D.上级为了保持自己的权威,必须让下级认可和接受命令

100.外部经济,是指由于企业外部的各种因素所导致的生产费用的减少,这些影响因素包括企业离原材料供应地 and 产品销售市场远近、市场容量的大小、运输通讯的便利程度、其他相关企业的发展水平等等。外部不经济,是指由于企业外部的各种因素所导致的生产费用的增加。

根据上述定义,下列属于外部不经济的是:

- A.国家给予服装出口企业外贸补贴和退税优惠使其利润增大
- B.因为某国对我国某企业出口的产品加征反倾销关税使该企业损失严重
- C.某制药公司因为需要进口原料而使该成品药出厂价高于其他制药企业
- D.某机械设备制造公司因为生产设备落后而增加了起重机的生产成本

三、类比推理。每道题先给出一组相关的词,要求你在备选答案中找出一组与之在逻辑关系上最为贴近、相似或匹配的词。

请开始答题:

101.集萤映雪:凿壁借光

- A.离群索居:劳燕分飞
- B.分道扬镳:远走高飞
- C.披星戴月:日落而息
- D.破釜沉舟:背水一战

102.车票:火车

- A.电池:手机
- B.相机:相片
- C.正装:工作
- D.白糖:饼干

103.柳树:柳枝

- A.核桃:核桃仁
- B.公鸡:母鸡
- C.老虎:狮子
- D.果树:种子

104.运动:增强:体质

- A.政府:宏观:管理
- B.企业:利润:工资
- C.市场:计划:资源
- D.篝火:驱逐:寒冷

105.深刻:警句:警醒

- A.曲折:故事:阅读
- B.欢快:喜剧:愉悦
- C.精美:艺术品:欣赏
- D.讽刺:杂文:发表

106.初试:复试:落榜

- A.伊拉克:伊朗:战争
- B.打架:斗殴:违法
- C.进攻:突破:胜利
- D.塑形:喷漆:损坏

107.监考人:监考:考试

- A.投机者:消费:股市
- B.预言者:预言:统治
- C.挥霍者:挥霍:金钱
- D.生产者:销售:产品

108.() 对于 争斗 相当于 桃李 对于 ()

- A.战争 树木 B.和平 秋冬
C.武器 培育 D.干戈 学生

109.() 对于 涂鸦 相当于 惠顾 对于 ()

- A.信手 光临 B.斗胆 顿首
C.胡乱 感谢 D.艺术 客人

110.() 对于 规避 相当于 制度 对于 ()

- A.躲避 激进 B.信用 管理
C.风险 完善 D.法律 缺失

四、逻辑判断。每道题给出一段陈述,这段陈述被假设是正确的,不容置疑的。要求你根据这段陈述,选择一个答案。注意:正确的答案应与所给的陈述相符合,不需要任何附加说明即可以从陈述中直接推出。

请开始答题:

111.卡车只在晚上 8 点以后才上路行驶。酒后开车的司机都不开车灯。面包车晚上 8 点以后都不上路行驶。晚上 8 点以后路上行驶的车都开着车灯。有的军车晚上 8 点以后上路行驶。

如果以上命题都是真的,那么以下哪种情况是不可能出现的?

- A.面包车司机酒后开车 B.面包车在行驶中开着车灯
C.司机酒后开车撞上了卡车 D.军车司机酒后开车

112.中国与美国相比,中国汽油含税零售价格要高一些,但不含税价格基本相同。以 93 号汽油为例,目前北京 93 号汽油含税零售价为每升 6.37 元,不含税价格为每升 4.25 元;美国华盛顿、纽约、加利福尼亚州的汽油含税零售价格分别为每升 5.21 元、5.18 元和 4.41 元,不含税价格分别为 4.75 元、4.20 元和 4.41 元。

如果以下陈述为真,哪一项将最严重削弱上述论证?

- A.93 号汽油是中国价格较低的汽油,而题干所列举的事美国最高的油价
B.美国油价的构成非常透明,并且充分竞争,美国各州的油价差异很大
C.中国的成品油价格是由政府掌控的
D.美国人口仅占世界的 4.6%,能源消耗总量约占世界的 25%

113.H 地区 95%的海洛因成瘾者在尝试海洛因前曾吸过大麻。因此,该地区吸大麻的人数如果能减少一半,新的海洛因成瘾者将显著减少。

以下哪项如果为真,最能削弱上述论证?

- A.长期吸食大麻可能导致海洛因成瘾
B.吸毒者可以通过积极地治疗而戒毒
C.H 地区吸大麻的人成为海洛因成瘾者的比例很小
D.大麻和海洛因都是通过相同的非法渠道获得

114.普通的有线电视公司提供给它的客户 50 个电视频道,但新的光纤线可以让电话公司提供给它的客户 100 至 150 个电视频道,收取的价格和有线电视公司一样,只要 50 元,因此,在几年内有线电视公司将被电话公司提供的新的电视服务所取代。

下面哪个选项最有助于强化上面的论述?

A.安装新的光纤电视服务的初装费将超过安装有线电视服务的当前价格
B.有线电视中最受欢迎的电影频道和电视节目频道也会出现在电话公司所有的光纤线提供的频道

C.有线电视公司将通过增加他们能提供的频道的数量来与电话公司竞争
D.电话公司比有线电视公司更遵守政策法规

115.在某次课程教学改革的研讨会上,负责工程类教学的齐老师说,在工程设计中,用于解决数学问题的计算机程序越来越多了,这样就不必要求工程技术类大学生对基础数学有深刻的理解。因此,在未来的教学体系中,基础数学课程可以用其它重要的工程类课程替代。

以下哪项如果为真,能削弱齐老师的上述论证?

I.工程类基础课程中已经包含了相关的基础数学内容

II.在工程设计中,设计计算机程序需要对基础数学有全面的理解

III.基础数学课程的一个重要目标是培养学生的思维能力,这种能力对工程设计来说很关键

A.只有 II

B.只有 I 和 II

C.只有 I 和 III

D.只有 II 和 III

116.甲、乙、丙、丁、戊要么是女足运动员,要么是女排运动员。她们相互知道各自的身份,但其他人却不知道。一次联欢会上,她们请大家推理。甲对乙说:“你是女排队员。”乙对丙说:“你和丁都是女排队员。”丙对丁说:“你和乙都是女足队员。”丁对戊说:“你和乙都是女排队员。”戊对甲说:“你和丙都不是女排队员。”

如果规定同一个队的人之间说真话,不同队的人之间说假话,那么下面哪项必为真?

A.甲说真话,女排队员是甲、乙、丁

B.甲说真话,女排队员是甲、乙、丙

C.丙说真话,女排队员是丙、丁、戊

D.丁说假话,女排队员是甲、丙、丁

117.办公室主任:本办公室不打算使用循环再利用纸张。给用户的信件必须能留下好的印象。不能打印在劣质纸张上。

文具供应商:循环再利用纸张不一定是劣质的。事实上,最初的纸张就是用可回收材料制造的。一直到 19 世纪 50 年代,由于碎屑原料供不应求,才使用木纤维作为造纸原料。

以下哪项最为恰当地概括了文具供应商的反驳中存在的漏洞?

A.没有意识到办公室主任对于循环再利用纸张的偏见是由于某种无知

B.使用了不相关的事实来证明一个关于产品质量的断定

C.不恰当地假设办公室主任了解纸张的制造工艺

D.忽视了办公室主任对产品质量关注的合法权利

118.生活应该是一系列冒险,它很有趣,偶尔让人感到兴奋,有时却好像是通向不可预知的未来的痛苦旅行。当你试图以一种创造性的方式生活时,即使你身处沙漠中,也会遇到灵感之井、妙想之泉,它们却不是能事先拥有的。

下面哪一个选项所强调的意思与题干的主旨相同?

A.英国哲学家休谟说,习惯是人生的伟大指南

B.美国哲学家怀特海说,观念的改变损失最小,成就最大

C.法国化学家巴斯德说,机遇只偏爱有准备的头脑

D.美国诗人弗罗斯特说,假如我知道写诗的结果,我就不会开始写诗

119.“俏色”指的是一种利用玉的天然色泽进行雕刻的工艺。这种工艺原来被认为最早始于

明代中期。然而,在商代晚期的妇好墓中出土了一件俏色玉龟,工匠用玉的深色部分做了龟的背壳,用白玉部分作了龟的头尾和四肢。这件文物表明,“俏色”工艺最早始于商代晚期。

以下哪一项陈述是上述论证的结论所依赖的假设?

- A.“俏色”是比镂空这种透雕工艺更古老的雕刻工艺
- B.妇好墓中的俏色玉龟不是更古老的朝代留下来的
- C.因势象形是“俏色”和根雕这两种工艺的共同特征
- D.周武王打败商纣王时,从殷都带回来了许多商代玉器

120.产品价格的上升通常会使其销量减少,除非价格上升的同时伴随着质量的提高。时装却是一个例外。在某时装店,一款女装标价 86 元无人问津,老板灵机一动改为 286 元,衣服却很快售出。

如果以下陈述为真,哪一项最能解释上述反常现象?

- A.在时装市场上,服装产品是充分竞争性产品
- B.许多消费者在购买服装时,看重电视广告或名人对服装的评价
- C.有的女士购买时装时往往不买最好,只买最贵
- D.消费者常常以价格的高低作为判断服装质量的主要标尺

※※※第四部分结束,请继续做第五部分!※※※

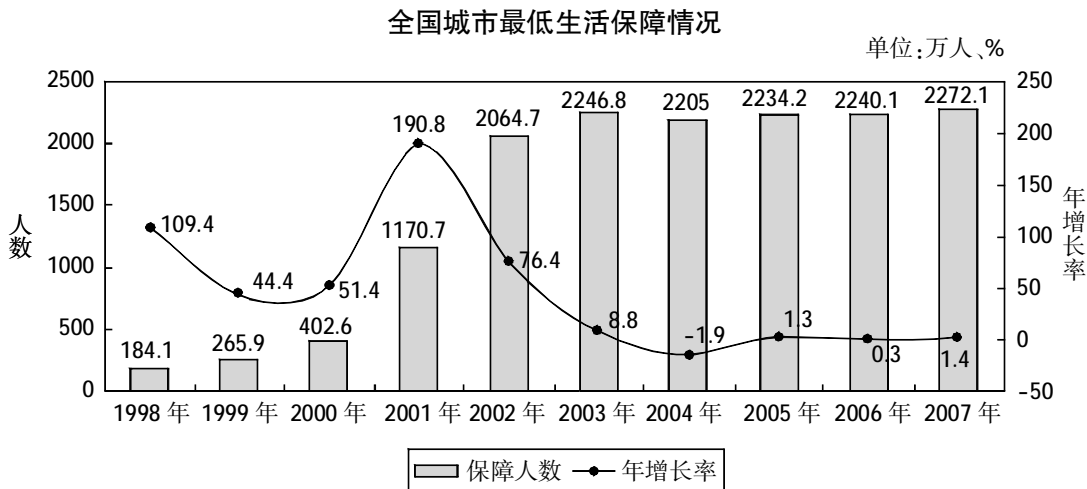
第五部分 资料分析

(共 15 题,参考时限 15 分钟)

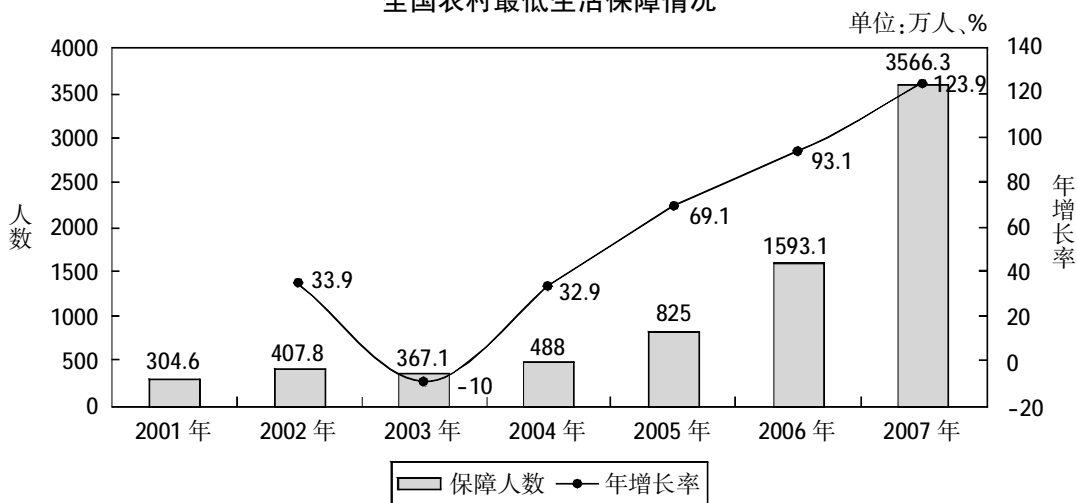
所给出的图、表、文字或综合型资料均有若干个问题要你回答。你应根据资料提供的信息进行分析、比较、计算和判断处理。

请开始答题:

一、根据以下资料,回答 121~125 题。



全国农村最低生活保障情况



121.1998 年城市居民最低生活保障人数比 1997 年多:

- A.75.1 万人 B.87.9 万人 C.94.3 万人 D.96.2 万人

122.2007 年城市和农村居民最低生活保障人数之比为:

- A.1.57:1 B.1:1.48 C.1:1.57 D.1:1.63

123.2007 年我国参加最低生活保障人数是 2001 年的:

- A.3.96 倍 B.3.73 倍 C.3.68 倍 D.3.41 倍

124.根据上面的图形,下列说法中不正确的一项是:

- A.1998-2007 年,城市居民最低生活保障人数增长率下降的有 5 年
 B.城市和农村居民最低生活保障人数都是逐年递增的
 C.城市居民最低生活保障人数最高的一年是 2007 年,增长率最高的一年是 2001 年
 D.农村居民最低生活保障人数和增长率最高的一年都是 2007 年

125.按 2007 年的增长率估计,2009 年农村居民最低生活保障人数为:

- A.1.4 亿 B.1.8 亿 C.2.2 亿 D.2.5 亿

二、根据以下资料,回答 126~130 题。

1990 年以后,辽宁城乡居民收入差距出现了一个上升——下降——再上升的过程,其变动轨迹大体可以划分为三个阶段。

第一阶段 1990-1994 年,城乡居民的收入比率由 1.85 扩大到 2.14,收入绝对差额由 714 元扩大到 1624 元。第二阶段 1995-1998 年,城乡居民收入差距出现短暂回落。城乡居民的收入比率由 2.1 下降到 1.79,收入绝对差额扩大的势头得到遏制,仅由 1935 元增加到 2037 元。第三阶段 1999-2007 年,城乡居民的收入比率由 1.96 再度扩大到 2.58,城乡居民收入绝对差额由 2398 元扩大到 7527 元。

城乡居民收入比率变化轨迹与我国城乡改革的进程基本吻合。90 年代以后,国家改革的重心逐步转向城镇,随着国有企业管理和收入分配体制的改革,城镇居民工资水平得到大幅度增长。1990-1994 年,城镇居民可支配收入年均增长速度达到 16.5%,快于农民纯收入的增长速度 2.6 个百分点,致使城乡居民收入比率扩大。在 1995-1998 年期间,国家连续两次提高农副产品收购价格,农民纯收入高速增长,增长速度达到 16%,快于城镇居民收入的增长速度 5

个百分点,城乡收入差距比率连续4年下降。1999-2003年,由于种养效益低、收入来源单一、负担沉重等原因,农民增收进入最困难时期,其中1999年和2000年,农民收入甚至出现了负增长。2004年以后,得益于国家一系列支持农民增收的重大政策,农民收入增速回升,但仍未改变慢于城镇居民收入增长速度的状况。在1999-2007年期间,农民纯收入的增长速度为7.1%,慢于城镇居民收入的增长速度4.4个百分点。城乡居民收入比率上升至2.58。

126.1995年辽宁农民人均纯收入约是1990年的:

- A.1.8倍 B.2.1倍 C.2.4倍 D.2.7倍

127.1999-2007年辽宁城镇居民人均可支配收入年均增长:

- A.7.1% B.4.4% C.2.7% D.11.5%

128.2007年,辽宁城镇居民人均可支配收入为:

- A.12290元 B.7527元 C.10880元 D.14700元

129.下列说法错误的是:

A.1994年辽宁城镇居民人均可支配收入比农村居民人均纯收入高1624元

B.1998年辽宁城镇居民人均可支配收入比农村居民人均纯收入多79%

C.1990-2007年辽宁农村居民人均纯收入的增长有些年份虽然没有城镇居民人均可支配收入增长得快,但每年都是增长的

D.2004年以后,虽然国家有一系列支持农民增收的重大政策,但仍未改变辽宁农村居民收入增长速度慢于城镇居民收入增长速度的状况。

130.下列说法正确的是:

①1990年以后,辽宁城乡居民收入差距在逐年加大,到2007年,城乡居民收入绝对差额已经扩大到7527元

②2004年以后,农民收入增速的回升得益于国家一系列支持农民增收的重大政策

③1990-2007年辽宁农村居民人均纯收入增速都低于城镇居民人均可支配收入

- A.仅①② B.仅①③ C.仅②③ D.仅②

三、根据以下资料,回答131~135题。

全国普通高等教育分科在校学生数

(单位:人)

项目	2002			2003		
	合计	本科	专科	合计	本科	专科
合计	9033631	5270845	3762786	11085642	6292089	4793553
哲学	6637	5624	1013	5974	5558	416
经济学	466433	284348	182085	604135	360683	243452
法学	474846	264039	210807	560916	313131	247785
教育学	470293	183528	286765	592123	223837	368286
文学	1368278	746090	622188	1719230	950274	768956
历史学	55565	40333	15232	56673	42543	14130
理学	852238	600480	251758	1004506	723579	280927
工学	3084999	1886996	1198003	3693401	2156584	1536817
农学	216040	140868	75172	249671	151756	97915
医学	656560	424401	232159	814741	496136	318605
管理学	1381743	694138	687604	1784272	868008	916264

131.与 2002 年相比,2003 年全国普通高等教育本科、专科及在校学生合计变化趋势不一致的学科是:

- A.哲学 B.历史学 C.工学 D.农学

132.2003 年,经济学、管理学在校学生数合计占全国普通高等教育在校学生数的:

- A.18.33% B.19.21% C.19.98% D.21.55%

133.2002-2003 年,全国普通高等教育平均在校学生中本科与专科之比大约为:

- A.4:3 B.3:2 C.5:4 D.6:5

134.2003 年,全国普通高等教育各学科中,在校学生人数同比增长超过 20%的有:

- A.7 个 B.6 个 C.5 个 D.4 个

135.根据材料,下面的说法中正确的一项是:

- A.2003 年全国普通高等教育本科在校学生数占比超过 2002 年

B.2002-2003 年,全国普通高等教育各学科中,本科、专科在校学生数占比最接近的学科是管理学

- C.2003 年,全国普通高等教育本科在校学生多于专科的学科数与 2002 年持平

D.2003 年,全国普通高等教育在校学生数最少的三个学科的在校学生数之和占比超过 2002 年

※※※全部测验到此结束! ※※※