

政法干警招录培养考试

《文化综合》模拟试卷

考生注意事项

- 1.答题前，考生须在答题卡和答题纸指定位置上填写姓名和准考证号，同时在答题卡上涂写考试科目和准考证号的信息点。
- 2.选择题答案必须涂写在答题卡上相应题号下，非选择题的答案必须书写在答题纸指定位置上，写在其他地方无效。
- 3.填（书）写部分必须使用黑色字迹钢笔、签字笔或圆珠笔，涂写部分必须使用 2B 铅笔。
- 4.考试结束，将答题卡、答题纸和试题本一并交回。

一、单项选择题（下列每题给出的四个选项中，只有一个选项是符合题目要求的。请在答题卡上将所选项的字母涂黑。1~35 小题，每小题 2 分，共 70 分）

1.马克思说：“希腊的内部极盛时期是伯利克里时代，外部极盛时期是亚历山大时代。”希腊“内部极盛”的主要原因是（ ）。

- A.对外交流频繁
- B.法律体系完备
- C.民主政治发展
- D.人文思想盛行

2.“雅典公民帕帕迪是一个目不识丁的人，他通过抽签来到法庭，参加审判苏格拉底。尽管许多问题听不懂，但最后举手投票时，帕帕迪投苏格拉底有罪！”（《苏格拉底之死》）以上描述不能说明的是（ ）。

- A.雅典民主制度较大幅度保障了公民的民主权利
- B.雅典民主创造了抽签制、投票制等民主的运作方式
- C.雅典民主使雅典人直接参与国家管理
- D.雅典民主容易导致权力的滥用或误用

3.西塞罗说：“如果人们之间的协调性能得到维护，那么人类便可以像神一样地生活。”古代罗马用以维护人们之间协调性的重要工具是（ ）。

- A.权威
- B.理性
- C.法律
- D.宗教

4.它“利用‘冷战’的阴影，把‘遏制’共产主义的计划与制造商、出口商的热情融为一体”。这里的“它”是指（ ）。

- A.马歇尔计划
- B.布雷顿森林体系
- C.关贸总协定
- D.北大西洋公约组织

5.第二次世界大战结束后，美国占领日本，采取削弱日本的政策。1948 年，美国改行扶植日本的政策，力图将日本建成冷战的前哨阵地。这一政策转变（ ）。

- A.成为日本长期推行仇视中国政策的开端
- B.促使美国承认美日平等伙伴关系
- C.提高了日本在美国全球战略中的地位
- D.标志着冷战在亚洲全面展开

6.1851 年 5 月 1 日，万国博览会在伦敦开幕，英国女王维多利亚怀着从未有过的骄傲和自信前往水晶宫为万国博览会剪彩，女王当时反复使用一个词语来表达自己的兴奋之情：荣光、

荣光、无尽的荣光。女王的自信和骄傲主要来自（ ）。

- A.“光荣革命”成功
- B.君主立宪制完善
- C.日不落帝国建立
- D.工业革命的巨大成就

7.乾隆时期，北京百姓“所好唯秦声、罗、弋，厌听吴骚，闻歌昆曲，辄哄然散去”的原因是（ ）。

- A.百姓与士大夫有矛盾
- B.朝廷扬“雅部”而抑“花部”
- C.秦声、罗、弋比昆曲好听
- D.昆曲脱离广大民众

8.下列事件不是发生在三国时期的是（ ）。

- ①官渡之战
 - ②赤壁之战
 - ③淝水之战
 - ④刘备称帝
 - ⑤孝文帝改革
 - ⑥三顾茅庐
- A.①②③⑤⑥
 - B.①②④⑤⑥
 - C.①②③④⑤
 - D.①③④⑤⑥

9.最早开辟新航路的迪亚士曾经说航行的目的是“为上帝和陛下服务，将光明带给那些尚处于黑暗中的人们”。其中“将光明带给那些尚处于黑暗中的人们”是指（ ）。

- A.给西欧以外地区的人们带去西欧人的思想
- B.给西欧以外地区的人们带去国王恩典
- C.让西欧以外地区的人们皈依基督教
- D.给渴望发财的人带去黄金

10.由美国次贷危机引发的金融风暴迅速恶化，演变为一场罕见的、冲击力强大的、席卷全球的、百年不遇的国际金融危机。这不禁让人想起 1929 年的大危机。当时美国为应对这场经济危机，曾专门成立了“联邦储蓄保险公司”，对公民存款实行政府保险。

当时美国采取这项措施的主要目的是（ ）。

- A.增加就业
- B.恢复银行信用
- C.防止盲目竞争
- D.刺激出口

11.毛泽东在《反对本本主义》中说：“马克思主义的‘本本’是要学习的，但是必须同我国的实际情况相结合。我们需要‘本本’，但是一定要纠正脱离实际情况的本本主义。”

毛泽东强调的是（ ）。

- A.理论联系实际
- B.理论的指导性
- C.学习经典著作
- D.实践检验真理

12.从蒸汽机的发明和电气技术的应用带来的后果看，科学技术进步对社会发展的作用是（ ）。

- ①社会生产力大幅度提高
 - ②社会结构和世界形势因此改变
 - ③人类的生活更加丰富多彩
 - ④资本主义经济危机周期性出现
- A.①②③④
 - B.①②③
 - C.②③④
 - D.①②④

13.当北印度洋海区洋流呈逆时针方向流动时，下列说法正确的是（ ）。

- A.开普敦地区温和多雨
- B.墨西哥湾飓风活动频繁
- C.中南半岛盛行西南季风
- D.地中海沿岸受西风控制

14.下列关于生物与地理环境关系的叙述，正确的是（ ）。

- A.生物是地理环境的产物，它只能被动地适应环境，没有能力改造环境
- B.生物的出现，深刻地影响和改造着周围的环境
- C.动物的分布受环境的制约影响较小，因为动物能自由移动
- D.光照是植物生长的必要条件，光照越强，植物长得越好

昼夜更替，潮起潮落，地球自转运动产生了许许多多的自然现象。

15. 在下列现象中，可以成为地球自转的证据是（ ）。

- A. 日月升落 B. 极昼极夜 C. 月相变化 D. 四季转换

16. 以太阳为参照点，地球自转一周所需时间为（ ）。

- A. 23 小时 56 分 B. 24 小时零 4 分
C. 24 小时 56 分 D. 24 小时

“我在仰望，月亮之上；有多少梦想，在自由地飞翔”。21 世纪人类将进入开发月球资源，探索太空的新时代，人类的美好愿望将变为现实。

17. 月球的表面形态给人类深刻印象。下列因素中，影响月表形态形成的主要因素是（ ）。

- A. 太阳的能量 B. 地球的引力
C. 陨石的撞击 D. 太阳风侵袭

18. 若科学家在未来的月球表面实验室进行科学实验，其利用的月球表面特殊条件是（ ）。

- ①弱重力 ②超高温 ③低辐射 ④高真空
A. ①② B. ③④ C. ②③ D. ①④

19. 某地水平运动物体左偏，一年中只有一次太阳直射的地点是（ ）。

- A. 赤道 B. 北回归线
C. 南回归线 D. 南极圈

20. 有关地球上的五带的正确叙述是（ ）。

- A. 一年之中只要有太阳光照为 90° 的地方就属热带
B. 温带地区的正午太阳高度介于 10° 与 90° 之间
C. 春分与秋分是热带地区白昼最长的两天
D. 寒带地区的正午太阳高度均为 0° 以下

21. 新疆地区的气温白天和夜晚的温差非常大，素有“早穿棉袄午穿纱，晚上围着火炉吃西瓜”之说。所以当这个地区的岩石裂隙中存有水份时会加速岩石的崩裂。主要原因是（ ）。

- A. 岩石太大了 B. 空气的热胀冷缩
C. 水是流动的 D. 水的热胀冷缩

22. 海尔集团将电冰箱等产品打入欧美市场，并不是依靠（ ）。

- A. 企业的全球战略
B. 自然资源优势和临海的地理位置优势
C. 世界级的技术水平和经营理念
D. 对欧美人消费特点的掌握

23. 治理黄河的关键是（ ）。

- A. 加固黄河大堤 B. 在黄河下游挖沙
C. 加大用水量，使水流量减少 D. 加强黄土高原的水土保持

24. 尽管电灯在发明后的一段时间里遇到了前所未有的阻力，大多数人都持观望态度而继续使用油灯。但是到了 19 世纪中后期，电灯还是最终战胜了油灯，成为欧美诸国主要的照明工具。电灯必然取代油灯的哲学依据是（ ）。

- A. 质量互变规律 B. 对立统一规律
C. 否定之否定规律 D. 内外因相互作用规律

25. 主张“世界上除了运动着的物质之外，什么也没有”的观点，属于（ ）。

- A. 否认人的意识存在的自然唯物主义

B.主张世界统一于物质的辩证唯物主义

C.否认时间与空间存在性的唯心主义

D.把人的意识理解成某种特殊的“精细物质”的机械唯物主义

26.实践作为检验真理的标准，既是确定的，又是不确定的，其不确定性是因为（ ）。

A. 实践主体的素质的差异

B. 实践的形式多种多样

C. 社会实践总要受到历史条件的限制

D. 实践受到实践主体的认识水平的制约

27.在美学中，总要谈到“移情”即“情景交融”，比如我们高兴的时候，仿佛太阳在笑，青松在招手，花儿也跟着点头；悲伤的时候，又觉得雨如泪，风如咽。“移情”的说法体现的哲学观点是（ ）。

A. 意识是人脑特有的机能

C. 意识对物质具有反作用

B. 意识是客观事物在人脑中形成的主观映象

D. 意识有正确与错误之分

28.商品的二因素是由（ ）。

A.商品的自然属性决定的

C.生产资料私有制决定的

B.生产商品的劳动二重性决定的

D.资本主义基本矛盾决定的

29.现代企业制度的基础是（ ）。

A.资产所有权制度

C.现代经营制度

B.现代产权制度

D.现代管理制度

30.外资经济，就其性质说是（ ）。

A.单纯的社会主义经济

B.单纯的资本主义经济

C.社会主义条件下的国家资本主义经济

D.社会主义条件下的国家垄断资本主义经济

31. 2009年5月，世界卫生组织召开成员国会议研究防控甲型H1N1流感的对策，中国政府表示，在做好国内疫情防控的同时，将加强与世界卫生组织、有关国家和地区的交流与合作，并提供必要的防控物资、经费和技术支持。这表明（ ）。

①解决国际问题必须通过国际组织

②国际组织是国际合作的纽带

③中国在国际事务中发挥主导作用

④中国在国际事务中发挥建设性作用

A.①③

B.①④

C.②③

D.②④

32. 2009年7月22日上午，我国迎来近500年来持续时间最长的一次日全食。在日全食来临之际，南京紫金山天文台的日食观测镜的价格由原本销售5元上涨到25元，但还是被抢购一空。

上述材料表明（ ）。

A. 价值决定价格

C. 供求影响价格

B. 市场决定价格

D. 价格影响供求

33.发展基层民主,保障人民享有更多更切实的民主权利,是我国发展社会主义民主政治的重要内容。

下列属于基层群众性自治组织的是（ ）。

A.业主委员会

C.居民委员会

B.消费者协会

D.乡人民政府

34.近年来,各地政府为促进“以创业带动就业”,从工商登记,资金筹措,信息咨询,技能培训,经营用地方面对农民工返乡创业予以大力支持。政府的做法履行了()。

- ①实施经济调节的职能 ②健全社会保障体系的职能
③提高公共服务的职能 ④协调人民利益关系的职能
A.①②③ B.①③④ C.①②④ D.②③④

35.2012年1月7日,据财政部门初步统计,2011年中央财政对“三农”的实际投入首次突破()大关,同比增长21.3%。

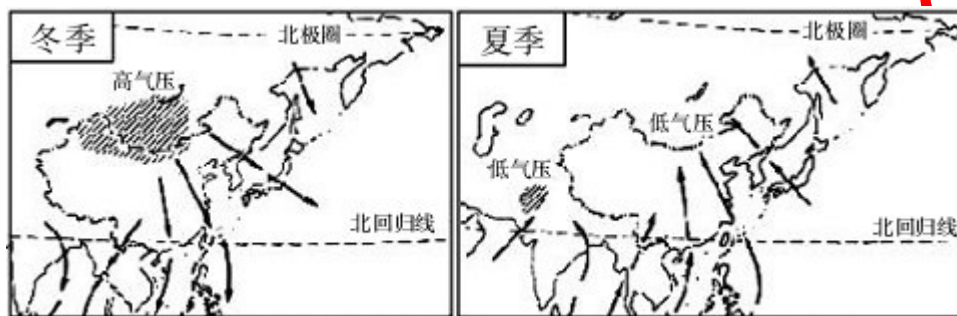
- A.8000亿元 B.9000亿元 C.10000亿元 D.11000亿元

二、非选择题(请将答案写在答题纸指定位置上。36~41小题,共80分)

36.西欧各国开辟新航路的原因和影响有哪些?(15分)

37.为什么说美国内战是美国历史上第二次资产阶级革命?(12分)

38.读影响我国的冬、夏季风分布示意图,回答下列问题。(10分)



(1) 由于我国位于_____大陆与_____洋之间,巨大的海陆热力差异使大部分地区一年内的风向随季节有显著变化,形成了典型的季风气候。

(2) 冬季,来自_____和西伯利亚一带的偏北风,加大了我国绝大部分地区气温_____的程度。

(3) 夏季,来自海洋的偏南风携带了丰沛的水汽,在我国季风区形成了大量的_____。

39.分析有关城市化及产业结构的图文资料,回答问题。(17分)

从各国城市化的实践出发,现代城市化新概念是指人类社会活动的生产要素从农村地区向城市地区转移的过程,即包含人口城市化和经济城市化。经济城市化是指城市的财富积累状态,通常以城市建成区内各类生产活动所产生的GDP(国内生产总值)衡量。

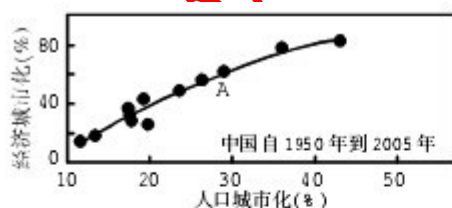


图1 中国人口城市化和经济城市化关系

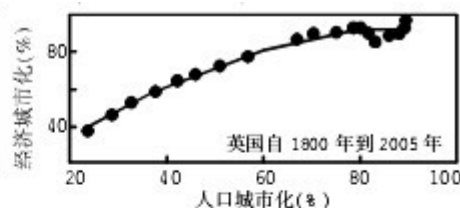


图2 英国人口城市化和经济城市化关系

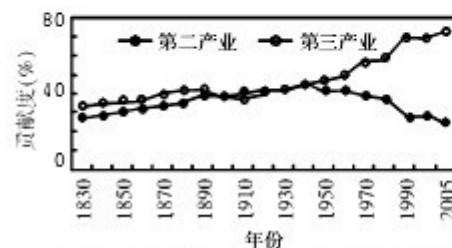


图3 发达国家产业发展对人口城市化的贡献

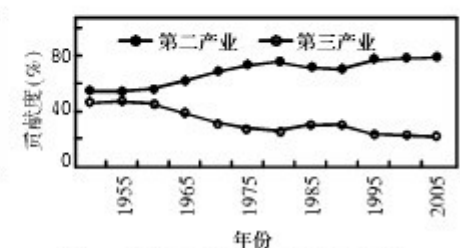


图4 中国产业发展对人口城市化的贡献

(1) 读图1中A点可知,在某一历史时期,我国经济城市化、人口城市化水平分别约为

%和____%。由趋势线可见,我国现代城市化过程中,经济城市化水平与人口城市化水平相比,发展水平较高的是_____。

(2)图1、图2可以显示,总体而言,无论是我国还是英国,经济城市化水平与人口城市化水平两项指标相比,发展水平始终居高的是_____。20世纪50年代以来,我国和英国相比,人口城市化水平较高的国家是_____,经济城市化与人口城市化发展水平的差异程度较大的国家是_____。

(3)从图3可以获得发达国家第二产业与第三产业对人口城市化发展贡献度变化的哪些地理信息?比较图4与图3,可以看出我国第二产业与第三产业对人口城市化发展贡献度的变化存在哪些不同特点?

(4)通过以上分析,在我国人口城市化与经济城市化的进程中,尤其应该关注哪个产业的发展?说明其理由。

40.阅读材料,回答问题。(12分)

拿破仑描写过骑术不精但有纪律的法国骑兵和当时无疑地最善于单个格斗但没有纪律的骑兵—马木留克兵之间的战斗,他写道:“两个马木留克兵绝对能打赢三个法国兵,一百个法国兵与一百个马木留克兵势均力敌,三百个法国兵大都能战胜三百个马木留克兵,而一千个法国兵则总能打败一千五百个马木留克兵。”

评析上述材料所体现的唯物辩证法规律以及这一规律对我国在新世纪新阶段进行现代化建设的启示。

41.试述五个统筹的实质与内涵。(14分)