

一、根据以下资料，回答 1-5 题。

2009 年前三个季度，我国规模以上电子信息制造业扭转了上半年下滑的势头，但比去年同期增速下降 10 个百分点以上。重点产品增长面逐步扩大。9 月，重点监测的 27 个产品中，14 个产品产量出现正增长，比上半年多了 3 个产品；其中计算机、显示器、彩电、数码相机继续保持增长，手机、集成电路扭转上个月下降的势头，分别增长 2.4%、4.7%。1-8 月，规模以上电子信息制造业实现主营业务收入 29618 亿元，同比下降 4.8%，实现利润 892 亿元，同比下降 21.5%，二者降幅分别比 1~5 月缩小 3.7、19.5 个百分点。电子信息 11 个行业中实现利润增长的行业扩大为 4 个，其中通信设备、视听产品行业分别增长 28.1%、6.4%，计算机、电子元件行业分别下降 35.5%、29.4%，电子器件行业扭亏为盈，实现利润 35 亿元。2009 年 1-9 月，我国规模以上电子信息制造业完成出口交货值 20329 亿元，同比下降 10.6%。1-9 月全行业实现出口交货值占销售产值的比重为 57.6%，比去年同期回落 5.7 个百分点。1-9 月，电子信息产业 500 万元以上项目完成固定资产投资 2808 亿元，同比增长 17.2%，增速低于去年同期 12.1 个百分点，低于同期全国制造业增速 11.5 个百分点。

1. 2008 年 1-9 月，规模以上电子信息制造业出口交货值约为：

- A. 20329 亿元 B. 22061 亿元
C. 22739 亿元 D. 31223 亿元

2. 2009 年 1-8 月，规模以上电子信息制造业主营业务收入利润率约为：

- A. 2% B. 3%
C. 4% D. 5%

3. 2008 年 1-9 月，电子信息产业 500 万元以上项目完成固定资产投资额约为：

- A. 2396 亿元 B. 2502 亿元
C. 2618 亿元 D. 2808 亿元

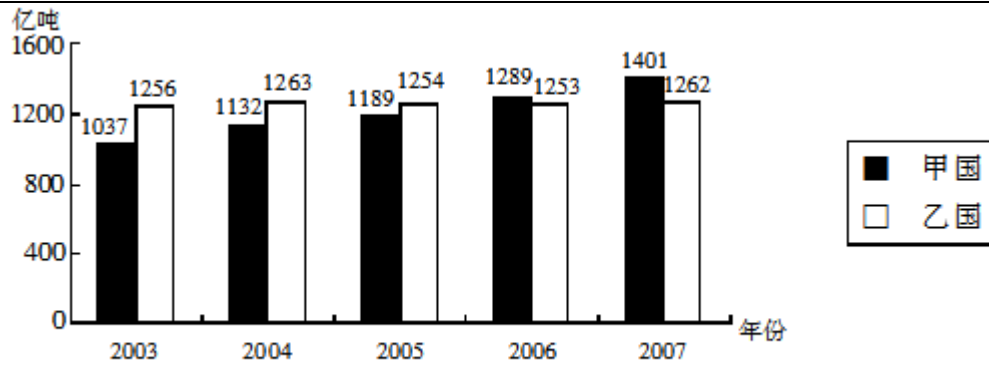
4. 2008 年 1-9 月，电子信息制造业全行业实现出口交货值占销售产值的比重约为：

- A. 51. 9% B. 57. 5%
C. 63. 3% D. 72. 8%

5. 根据以上资料，无法推出的是：

- A. 2009 年上半年，在规模以上电子信息制造业重点监测的 27 个产品中有 11 个产品产量出现正增长
B. 2009 年 1-9 月，电子信息产业 500 万元以上项目的固定资产投资同比增长超过 10%，增速低于去年同期
C. 2009 年 1-8 月，电子器件行业的利润超过 30 亿元
D. 2009 年前三季度，在规模以上电子信息制造业重点监测的产品中仅计算机、显示器和彩电保持增长

二、根据以下资料，回答 6-10 题。



2003-2007 年甲国和乙国的年碳排放量(亿吨)

6. 2003-2007 年, 乙国的年碳排放量最大值与最小值之间的差距为:
A. 7 亿吨 B. 8 亿吨
C. 9 亿吨 D. 10 亿吨
7. 2007 年两国碳排放量之和比 2006 年两国碳排放量之和约增加了:
A. 1% B. 2%
C. 5% D. 7%
8. 2003-2007 年, 甲国平均每年比乙国少排放的碳总量为:
A. 30 亿吨 B. 48 亿吨
C. 55 亿吨 D. 60 亿吨
9. 2004-2007 年, 甲国的年碳排放量与上年相比增长幅度最大的年份是:
A. 2004 年 B. 2005 年
C. 2006 年 D. 2007 年
10. 根据以上资料, 能够推出的是:
A. 碳排放量总是呈逐年上升趋势的国家是发展中国家, 反之, 发达国家的碳排放量总是呈逐年下降
B. 2003-2006 年, 乙国的年碳排放量稳中有升
C. 2003-2006 年, 甲国的每年碳排放总量总低于乙国的每年碳排放总量
D. 甲国的年碳排放量的增速远大于乙国
- 三、根据以下资料, 回答 11-15 题。

2000—2008 年××省进出口总额

年份	进出口(亿美元)			进出口(亿元)		
	总额	出口	进口	总额	出口	进口
2000	212.23	129.08	83.15	1756.87	1068.55	688.32
2001	226.26	139.22	87.04	1872.98	1152.49	720.49
2002	283.99	173.70	110.28	2350.85	1437.96	912.89
2003	353.26	211.32	141.94	2924.25	1749.28	1174.96
2004	475.27	293.95	181.32	3933.81	2433.00	1500.81
2005	544.11	348.42	195.69	4457.21	2854.15	1603.06
2006	626.59	412.62	213.97	4937.55	3251.43	1686.12
2007	744.51	499.40	245.10	5661.24	3797.47	1863.77
2008	848.21	569.92	278.29	5890.90	3958.14	1932.76

11. 由上表估计 2008 年人民币对美元的平均汇率约为:
A. 6.6450 B. 6.9450
C. 6.9740 D. 6.9920
12. 以 2000 年为基准, 该省 2008 年的出口额约增加了:
A. 1244 亿元 B. 2000 亿元
C. 2890 亿元 D. 4134 亿元
13. 2006—2008 年该省平均每年的进出口总额约为:
A. 650 亿元 B. 800 亿元
C. 5000 亿元 D. 5500 亿元
14. 2000—2008 年, 该省贸易顺差达到最大的年份是:
A. 2005 年 B. 2006 年
C. 2007 年 D. 2008 年
15. 根据以上资料, 能够推出的是:
A. 2001—2008 年, 该省每年出口总额相对上年增幅最小的年份是 2001 年
B. 2001—2008 年, 该省每年出口总额相对上年增幅最大的年份是 2002 年
C. 2001—2008 年, 该省出口总额呈逐年上升趋势
D. 2001—2008 年, 人民币对美元的平均汇率呈逐年上升的趋势

四、根据下表回答问题 16-19 题。

2003 年我国部分地区工业污染治理投资来源情况 (亿元)

地区	污 染 治 理 项 目 本 年 投 资 来 源 总 额						
		国 家 预 算 资 金	环 保 专 项 资 金	其 他 资 金	国内贷款	利用外贸	企业自筹
北京	6.40	0.22	4.43	1.75	0.06	—	—
江苏	15.00	0.04	0.96	14.03	1.35	1.03	11.62
浙江	10.50	0.51	0.27	9.67	2.28	0.14	6.63
福建	12.90	0.53	0.27	12.09	0.26	0.11	11.01
山东	35.20	1.33	0.86	32.96	5.01	0.26	24.57
广东	25.10	6.97	0.31	17.79	2.12	1.22	13.95
甘肃	3.57	0.31	0.12	3.15	0.64	—	1.78

资料来源: 国家环境保护总局

16. 2003 年甘肃全省污染治理投资总额约为同期北京环保专项资金的 ()。

- A. 55% B. 60%
C. 75% D. 80%

17. 2003 年上述七省市工业污染治理资金投资总额为 () 亿元。

- A. 108.67 B. 91.44
C. 69.56 D. 110.36

18. 如果 2001 年广东省工业污染治理国家预算内资金为 3.10 亿元, 则 2001 至 2003 年, 该项资金年平均增长率约为 ()。

- A. 75% B. 60%
C. 50% D. 36%

19. 以下说法正确的一项是 ()。

- A. 2003 年福建全省工业污染治理资金主要来源于企业自筹
B. 2003 年工业污染治理任务最重的是山东省
C. 2003 年浙江省工业污染治理国内贷款额比江苏省的少
D. 2003 年北京无需利用外资治理工业污染

五、请根据下表回答 20-23 题。

有学者跟踪研究了某群体 500 名成年人的收入情况, 并将 1991 年该人群的收入分布在 1996 年的变动情况绘制成表。如 1991 年属于收入最低 1/5 组的该人群在 1996 年时有 51 人依然处于同一位置, 而有 4 人进入了收入最高 1/5 组。

1991 年某群体 500 名成年人的收入分布在 1996 年的变动情况

	1996 年收入分组					全部成年人
	最低 1/5	次低 1/5	中 1/5	次高 1/5	最高 1/5	
1991 年收入分组						
最低 1/5	51	26	12	7	4	100
次低 1/5	25	35	22	12	6	100
中 1/5	11	21	33	23	12	100
次高 1/5	8	12	20	37	23	100
最高 1/5	4	6	11	21	58	100

注: 表内数字单位为“人”

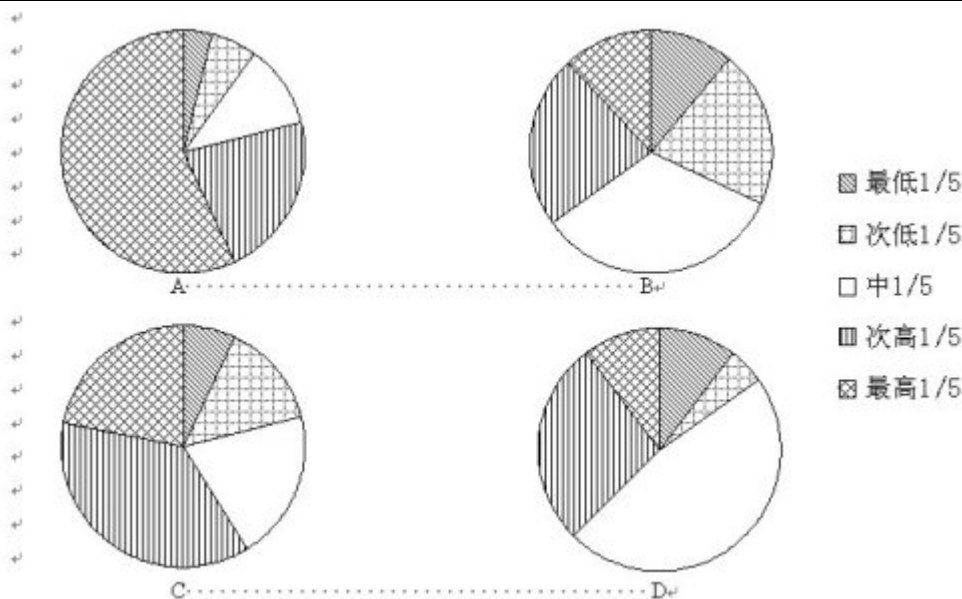
20. 在 1991 年, 收入属最低 1/5 组的该人群当中, 有 () 在 1996 年进入了收入次高的组别。

- A. 7 人 B. 12 人
C. 21 人 D. 23 人

21. 在 1996 年的该人群中, 约有 () 的人收入情况好于 1991 年。

- A. 54% B. 43%
C. 29% D. 37%

22. 下列图示能够反映 1991 年收入处于中等组的该人群在 1996 年收入分布情况的 ()。



23. 根据上表, 下列说法错误的是 ()。

- A. 收入情况属于某个分组的该人群在数年后依然留在该组的可能性比流入其他各组的可能性都大
- B. 该表数据不足以反映该人群长期性的收入特征
- C. 如果该人群的收入情况数年后发生了变化, 则他们最可能流入与他们最邻近的分组
- D. 1991-1996年六年间, 共有47.2%的该人群从未进入过次高收入组和最高收入组

六、根据以下资料, 回答24-27题。

2008年全年某省农作物总播种面积6606.46万亩, 同比增长0.9%。主要品种中, 粮食作物面积3749.91万亩, 同比增长0.8%; 其中: 稻谷面积2920.35万亩, 同比增长0.4%。甘蔗面积224.51万亩, 油料作物面积485.81万亩, 烟叶面积35.23万亩, 蔬菜面积1668.94万亩, 同比分别增长1.5%、4.3%、19.9%和4.5%。木薯面积128.38万亩, 瓜类面积60.64万亩, 青饲料面积93.09万亩, 同比分别下降10.4%、9.8%和17.6%。

2008年全年该省粮食作物产量1243.44万吨, 同比下降3.2%; 其中: 稻谷产量1003.30万吨, 同比下降4.1%。甘蔗产量1198.84万吨, 油料产量81.54万吨, 烟叶产量4.93万吨, 蔬菜产量2431.43万吨, 同比分别增长1.5%、4.9%、18.2%和3.4%。木薯产量158.89万吨, 瓜类产量97.78万吨, 青饲料产量125.34万吨, 同比分别下降9.0%、8.2%和23.4%。

24. 2007年, 该省农作物总播种面积约 () 万亩。

- A. 6320
- B. 6548
- C. 6453
- D. 6423

25. 2007年, 亩产量最高的作物是 ()。

- A. 稻谷
- B. 甘蔗
- C. 蔬菜
- D. 木薯

26. 2007—2008年, 总产量绝对值变动最大的是 ()。

- A. 稻谷
- B. 蔬菜
- C. 瓜类
- D. 青饲料

27. 2007年全年该省农作物总播种面积中, 稻谷的种植面积约 () 万亩。

A. 2 9 3 2

B. 2 9 0 9

C. 2 9 2 0

D. 8 3 0

七、阅读以下研究简介，回答 28-32 题。

为了验证“人们会从与自己相似的人那里获得行动线索”的假设，心理学家做了一个实验。

在纽约曼哈顿中心区，有超过 1 0 0 名的行人看到并拾起路上一个写着地址却没有贴邮票的信封。信封里有一个遗失的钱包和一封写给钱包主人的信。钱包里有两美元现金，一张签给 E. M. H 公司（研究项目成员名字的首字母组合）的支票，一张写着某人电话号码的纸片，一张钱包主人的身份信息卡（上面有钱包主人的姓名、电话号码和地址），以及其他一些东西。钱包主人名叫迈克尔·欧文——这个名字是研究者经过仔细挑选的，以避免含有种族或宗教的暗示。

在所有情况下，钱包和里面的东西都是一样的，有变化的是写给钱包主人的信。在一种实验条件下，写信者是与这些路人相似的人（即一个能流利使用英语、像本地人的写信者）；而在另一种实验条件下，写信者则是一个与路人不同的人（即一个几乎完全不懂英语的外国人）。另一个实验条件是不同的写信语气。在 1 / 3 的情况下，写信者用一种非常客气的语气（正性语气）写这封信，在另外 1 / 3 的情况下用一种中性的语气写信，在剩下 1 / 3 的情况下则是用一种不太客气的语气（负性语气）写信。

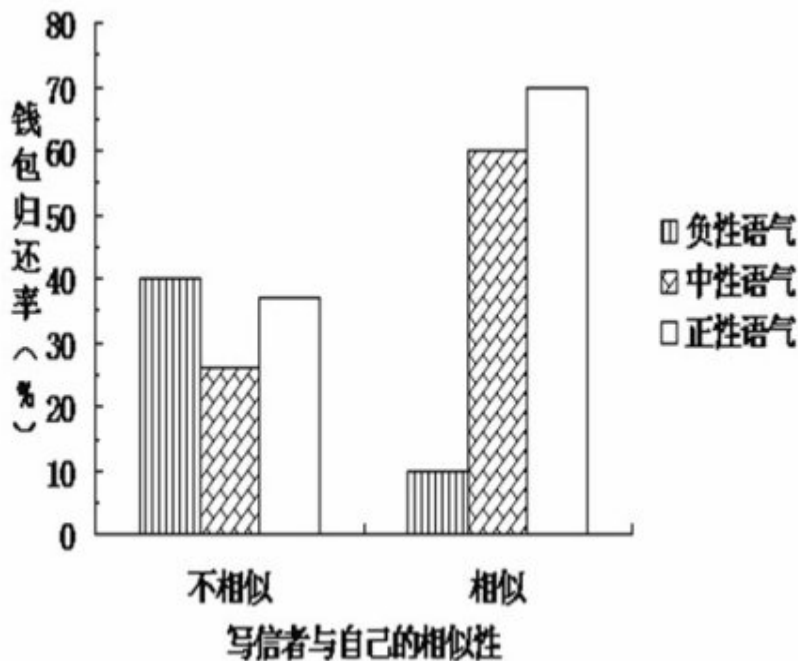
例如，一位操流利英语的人（“相似的人”）用不太客气的语气写的信是这样的：

欧文先生：我找到了你的钱包，如今物归原主。所有的东西都在里面。照看和归还这个钱包的整个过程实在是很麻烦，我觉得相当厌烦。希望你能够对我有所感激。

而一位不相似的人用不太客气的语气写的信是这样的：

欧文先生：我正在你们国家旅行，并不熟悉你们的行为方式。但是我发现你的钱包，东西都在里面了。对这个钱包负责并将它物归原主很费劲。其中的过程实在是繁琐，希望你能够对我有所感激。

行人们是否会归还钱包？对这些行人归还钱包情况的统计结果如下图所示。所谓钱包归还率就是指将钱包寄往失主地址的行人人数占该种实验条件下拾起钱包者的比重。



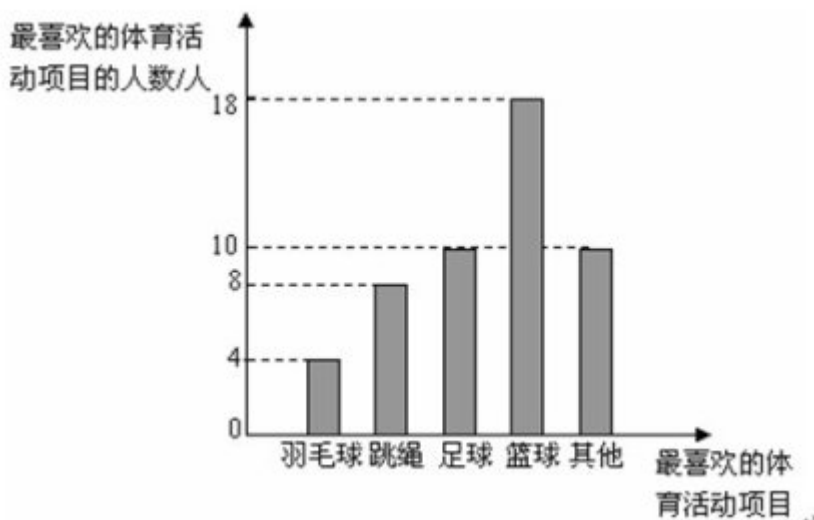
图·各种实验条件下行人归还丢失钱包的人数百分比

28. 从所有参加实验者来看，当写信者与自己相似的时候，人们归还钱包的比率大约为（ ）。

- A. 25% B. 35%
C. 45% D. 60%
29. 从所有参加实验者来看, 当写信者使用中性语气时, 人们归还钱包的比率大约为 ()。
A. 25% B. 40%
C. 55% D. 60%
30. 从参加实验的这 100 多个人所在的整个社会群体来看, 当写信者与自己不相似的时候, 信的正性语气与负性语气所引起的归还钱包的比率差异最可能为 ()。
A. 0 B. 10%
C. 20% D. 30%
31. 从参加实验的这 100 多个人所在的整个社会群体来看, 当写信者使用正性语气时, 写信者与参加实验者的相似性所引起的归还钱包的比率差异最可能为 ()。
A. 10% B. 20%
C. 30% D. 40%
32. 以下推断不正确的是 ()。
A. 研究者精心挑选钱包主人的名字, 是为了避免其他因素对实验结果产生干扰
B. 写信的语气以及写信者与参加实验者的相似性对钱包归还比率产生交互影响
C. 在写信者与参加实验者不相似的情况下, 信件中性语气比信件不太客气语气所导致的钱包归还率低。从这一结果来看, 该研究的人群抽样有很大漏洞
D. 实验的结果支持了“人们会从与自己相似的人那里获得行动线索”这一假设

八、请根据以下信息, 回答 33-35 题。

为了响应“每天锻炼一小时”这一号召, 某校围绕着“你最喜欢的体育活动项目是什么?”的问题, 对在校学生进行了随机抽样调查, 从而得到一组数据。每位被调查学生只允许选择一项体育活动。下图是根据这组数据绘制的条形统计图。请结合统计图回答下列问题:



33. 本次调查共调查了 () 人。
A. 18 B. 40
C. 50 D. 不能确定
34. 在所调查的学生当中, 最喜欢打篮球的学生约占 ()。
A. 18% B. 36%

C. 45%

D. 50%

35. 根据这次调查,若该校有850名学生,则可估计全校学生中最喜欢跳绳活动的学生约有()名。

A. 68

B. 72

C. 306

D. 136

九、根据以下资料,回答36-40题。

国家工商总局公布的数据显示,2009年第一季度,全国工商行政管理机关共查处各类违法违章案件68202件,同比下降29.98%;其中立案查处案件49654件,同比下降32.26%。案件总值33.57亿元,同比下降21.26%,罚没金额3.33亿元,同比下降39.49%。

从违反法规看,违法企业登记管理法规案件9216件,同比下降38.54%;违反产品质量法规案件6760件,同比下降27.51%;违反反不正当竞争法规案件4944件,同比增长6.51%;违反商标法规案件4119件,同比下降21.93%;违反广告法规案件2141件,同比下降24.27%;违反消费者权益保护法规案件1644件,下降13.66%;违反合同法规案件156件,同比下降57.02%。从违法主体看,在立案查处的案件中,个体工商户案件22142件,同比下降22.73%;自然人案件12472件,同比下降49.04%;公司案件6521件,同比下降21.37%,私营企业案件3957件,同比下降22.27%;集体企业案件728件,同比下降45.26%。

36. 若保持同比下降率不变,预计2010年第一季度全国立案查处案件数将:

A. 接近4.8万

B. 接近3.4万

C. 接近1.6万

D. 接近2.1万

37. 2009年第一季度,违反产品质量法规案件减少量是违反商标法规案件减少量的几倍?

A. 1.25

B. 1.56

C. 1.77

D. 2.22

38. 2009年第一季度,各类违法主体占立案查处案件比重的最高值与最低值相差多少?

A. 43.13%

B. 36.62%

C. 31.40%

D. 26.67%

39. 下列说法与资料相符的有几个?

(1) 2009年第一季度,罚没金额同比下降率大于案件总值同比下降率

(2) 2008年第一季度,违反合同法规案件为353件

(3) 2009年第一季度,公司案件数大于私营企业案件与集体企业案件数之和

A. 0

B. 1

C. 2

D. 3

40. 根据上述资料,以下描述不正确的是:

A. 2009年第一季度,自然人案件与集体企业案件同比下降均超过40%

B. 2009年第一季度,违反广告法规案件占各类违法违章案件的比重为3.14%

C. 2009年第一季度,违反各类法规案件与去年同期相比均有下降

D. 2009年第一季度,违反反不正当竞争法规案件数量大约是违反消费者权益保护法规案件数量的3倍

十、根据以下资料,回答41-45题。

2008年江西省各设区市普通中学分布情况表

地区	学校数(个)		毕业生数(人)		招生数(人)		在校学生数(人)	
	初中	高中	初中	高中	初中	高中	初中	高中
全省	2083	540	600680	286828	668121	278606	1744883	821981
南昌市	181	87	47482	74553	74553	26809	209567	78089
景德镇	78	28	24988	23007	23007	10333	54663	29470
萍乡市	91	22	13551	26689	26689	7496	70087	33300
九江市	356	67	68666	40160	68834	37493	179423	109059
新余市	32	16	13265	8372	12344	7776	30022	23240
鹰潭市	58	13	18063	8007	13185	7392	39768	22733
赣州市	380	74	131001	48442	125211	55439	293319	155709
吉安市	249	58	65675	27463	65805	31962	194517	90555
宜春市	211	42	73153	29307	82453	32252	196696	87152
抚州市	182	35	47893	29831	58480	23825	164501	73464
上饶市	364	98	96943	41482	117560	37829	312320	119213

41.

2008 年宜春市高中招生数占全省高中招生人数的比重为:

- A. 8. 55% B. 11. 47% C. 11. 58% D. 12. 34%

42. 下列各设区市中, 2008 年校均高中毕业生数量最少的是:

- A. 南昌 B. 鹰潭 C. 新余 D. 吉安

43. 2008 年赣州市初中招生人数是抚州市和景德镇两市初中招生数总和的多少倍?

- A. 1. 47 B. 1. 54 C. 2. 14 D. 5. 44

44. 2008 年初中和高中在校学生均高于全省平均水平的设区市有几个?

- A. 6 B. 5 C. 4 D. 3

45. 能够从上述资料中推出的是:

- A. 2008 年上饶市初中和高中学校数在全省都是最多的
B. 2008 年赣州市初中毕业生数占全省初中毕业生数的比重超过 25%
C. 2008 年抚州高中招生数高于萍乡市、新余市和鹰潭市高中招生数之和
D. 2008 年初中在校学生数最多与最少的设区市, 与高中在校学生数最多与最少的设区市相同

十一、根据以下资料, 回答 46-50 题。

2009 年上半年中部地区主要经济指标

地区 \ 指标	国民生产总值 (亿元)	地方财政收入 (亿元)	城镇固定资产投资 (亿元)	城镇居民人均可支配收入 (元)
河南	8962.80	589.93	4691.52	7428.62
山西	3105.99	464.26	1437.49	6858.54
安徽	4512.90	419.20	3752.60	7133.80
江西	2907.80	295.10	2182.71	6922.00
湖北	5378.05	398.33	3334.80	7470.00
湖南	5350.21	722.81	2689.15	7748.70

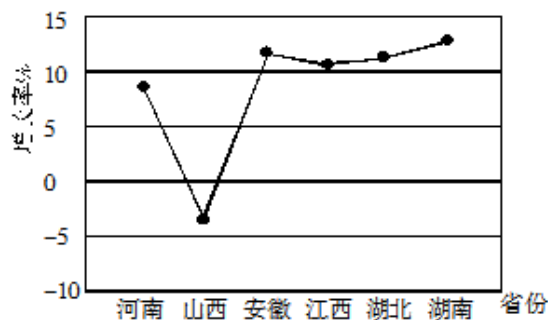


图 1: 2009 年上半年中部地区国民生产总值增长率

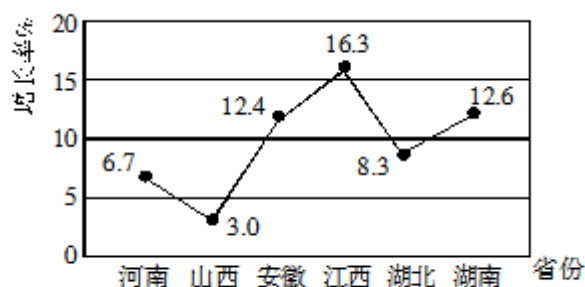


图 2: 2009 年上半年中部地区地方财政收入增长率

图 2: 2009 年上半年中部地区地方财政收入增长率

46. 2009 年上半年, 江西国民生产总值增长率在中部地区排名第几?
A. 第二 B. 第三 C. 第四 D. 第五
47. 2008 年上半年, 地方财政收入位居中部地区第二和第三的省份分别是:
A. 湖南和安徽 B. 河南和山西
C. 山西和安徽 D. 山西和湖南
48. 2009 年上半年, 城镇固定资产投资和城镇居民人均可支配收入均居同一位的省份有几个?
A. 0 B. 1 C. 2 D. 3
49. 2009 年上半年, 国民生产总值排名与国民生产总值增长率排名差距最大的省份是:
A. 河南 B. 安徽 C. 江西 D. 湖南
50. 能够从上述资料推出的是:
A. 湖北国民生产总值大于山西和江西国民生产总值之和
B. 河南城镇居民人均可支配收入高于湖北城镇居民人均可支配收入
C. 在这六个经济指标中, 湖北有三个指标排名高于湖南

D. 山西国民生产总值增长率为负, 且地方财政收入增长率排名中部第六

十二、根据以下资料, 回答 51-55 题。

2009 年 11 月, 首届世界低碳与生态经济大会技术博览会在江西南昌召开, 在这次大会上, 江西共签约项目 143 个, 总投资为 1045.95 亿元, 先后分三次签约; 第一次, 与 23 家央企签约 37 个合作项目, 项目总投资为 519.1 亿元; 第二次, 九江市人民政府与中信集团签订旅游基础设施投资框架协议, 项目总投资为 120 亿元; 第三次, 签约合同项目 105 个, 项目总投资为 407.85 亿元。

从签约项目主要领域来看, 旅游产业项目 14 个, 占 9.79%; 钨及稀土深加工产业项目 4 个, 占 2.82%; 医药化工产业项目 14 个, 占 9.79%; 电子信息产业项目 12 个, 占 8.39%。

在签约项目中, 与京、浙、沪、粤等省市(地区)签署的项目和投资总额较多, 签约项目投资较多的省市(地区)为: 北京 34 个, 占 23.77%; 广东省 25 个, 占 17.48%; 浙江省 17 个, 占 11.89%; 上海市 6 个, 占 4.2%; 港台地区合作项目数 10 个, 占 6.99%。

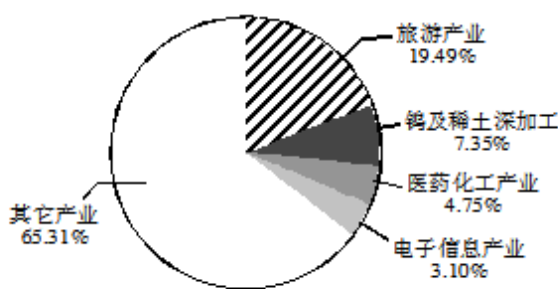


图 3: 签约项目投资总额分布情况图

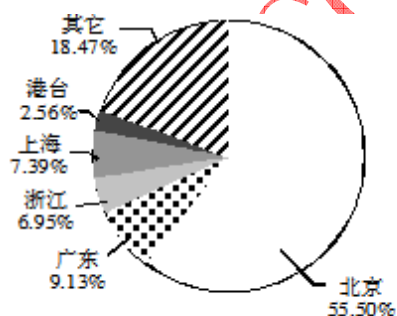


图 4: 签约项目投资总额地区分布情况图

51.

第一次签约项目投资额占总投资额的比重为:

- A. 25.87% B. 38.96% C. 49.58% D. 61.04%

52. 在签约项目中, 医药化工产业项目投资额为多少亿元?

- A. 32.46 B. 49.73 C. 76.95 D. 102.50

53. 在签约项目主要领域中, 项目投资额占总投资额比重最多的两个产业的项目数之差为:

- A. 0 个 B. 2 个 C. 9 个 D. 10 个

54. 在签约地区中, 签约项目数最多的两个省市(地区)的项目投资和为多少亿元?

- A. 288.96 B. 431.87 C. 676.64 D. 774.43

55. 能够从上述资料中推出的是:

- A. 这次大会签约项目平均投资额超过 8 亿元
B. 旅游产业签约项目数小于电子信息产业签约项目数
C. 钨及稀土深加工产业投资额所占比重小于医药化工产业项目数所占比重
D. 在签约省市(地区)中, 签约项目数所占比重小于签约投资额所占比重的省市(地区)有 3 个

十三、根据以下资料, 回答 56-60 题。

中国汽车工业协会发布的 2009 年 4 月份中国汽车产销数据显示, 在其他国家汽车销售进一步疲软的情况下, 国内乘用车销量却持续上升, 当月销量已达 83.1 万辆, 比 3 月份增长 7.59%, 同比增长 37.37%。

乘用车细分为基本型乘用车(轿车)、多功能车(MPV)、运动型多用途车(SUV)和交叉型乘用车。其中, 轿车销量比 3 月份增长 8.3%, 同比增长 33.04%; MPV 销量比 3 月份下降 3.54%, 同比下降 4.05%; SUV 销量比 3 月份增长 19.27%, 同比增长

22.55%；交叉型乘用车销量比3月份增长3.62%，同比增长70.66%。轿车、MPV、SUV和交叉型乘用车销量占4月份乘用车总销量的比重分别为71%、2%、6%和21%。

56. 与上年同期相比，2009年4月份乘用车销量约增长了多少万辆？

- A. 13.2 B. 22.6
C. 31.1 D. 40.4

57. 2009年3月份轿车销量约为多少万辆？

- A. 50 B. 54
C. 59 D. 64

58. 2008年4月，SUV销量比MPV销量约：

- A. 多2.3万辆 B. 少2.3万辆
C. 多3.4万辆 D. 少3.4万辆

59. 关于2009年3月份各种车型销量在总销量中所占比重的描述，以下正确的是：

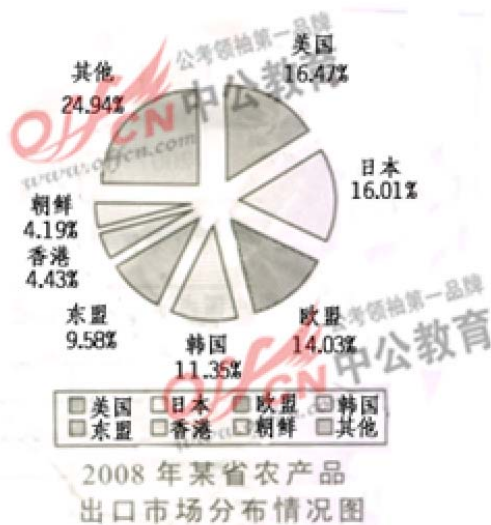
- A. 轿车超过71% B. MPV超过2%
C. SUV超过6% D. 交叉型乘用车低于21%

60. 关于2009年4月乘用车销量的描述不正确的是：

- A. 轿车销量比上年同期增加了20万辆以上
B. SUV以外车型销量占乘用车总销量比重比上月有所下降
C. MPV车型当时不受市场追捧
D. 同比增长率最高的是交叉型乘用车

十四、根据以下资料，回答 61-65 题。

2008年，某省农产品进出口贸易总额为7.15亿美元，比上年增长25.2%。其中，出口额为5.02亿美元，增长22.1%；进口额为2.13亿美元，增长33.2%。农产品进出口贸易额占全省对外贸易总额的4.5%。出口额居前5位的产品为蔬菜、畜产品、水果、粮食和茶叶，而绿茶出口额占茶叶出口额的四分之三。全省农产品对东欧、非洲、拉美等国家和地区的市场进一步开拓，出口额比上一年进一步增长。其中，对美国的出口额增长16.0%；对日本的出口额增长7.3%；对韩国的出口额增长59.8%；对东盟的出口额增长58.6%。

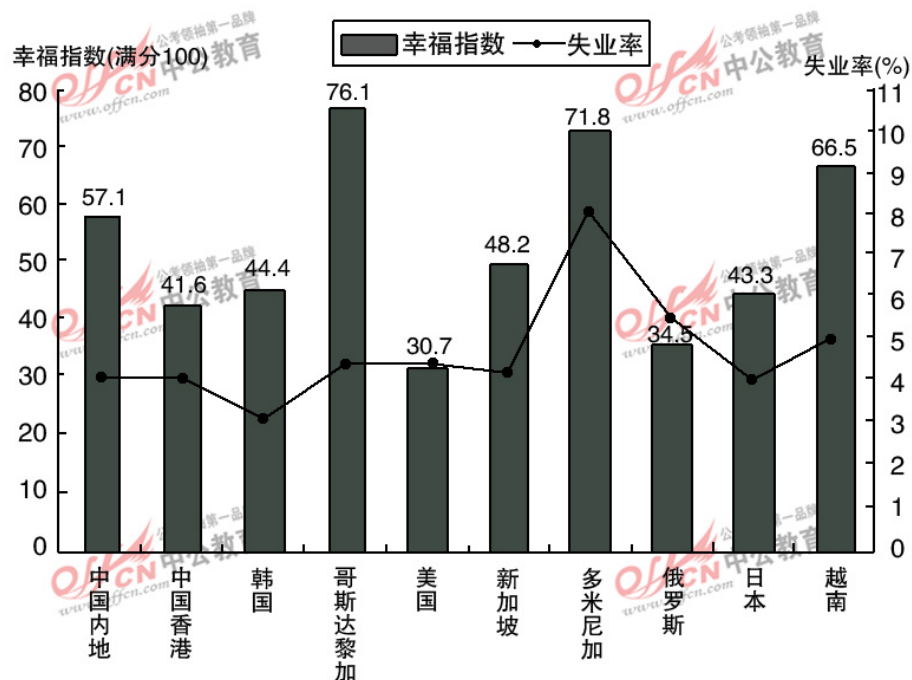


61. 2008年, 该省的对外贸易总额约为多少亿美元?
A. 158.89 B. 134.66
C. 91.78 D. 79.25
62. 2008年, 该省的绿茶出口额为多少万美元?
A. 4387 B. 3080
C. 2255 D. 1307
63. 2008年, 该省农产品外贸顺差比上年增长了:
A. 5% B. 15%
C. 25% D. 35%
64. 与2007年相比, 2008年该省出口韩国的农产品总额约增加了多少万美元?
A. 5100 B. 4500
C. 3200 D. 2100
65. 能够从上述资料中推出的是:
A. 2008年, 该省蔬菜的出口额超过1亿美元
B. 2008年, 该省出口日本的农产品总额接近8000万美元
C. 2008年, 该省的粮食出口额比上年有所增长
D. 2007年, 该省对东亚及东南亚地区的农产品出口占总出口额的一半以上

十五、根据以下资料, 回答66-70题。

2007年部分国家(地区)国民生产总值

国家(地区)	人均国民生产总值 (美元)	国民生产总值 (亿美元)
中国内地	2360	32081
中国香港	31610	2067
韩国	19690	9698
哥斯达黎加	5560	252
美国	46040	138112
新加坡	32470	1613
多米尼加	3550	367
俄罗斯	7560	12910
日本	37670	43767
越南	790	712



66. 2007年,下列国家(地区)中人口最少的是:
A. 中国香港 B. 哥斯达黎加
C. 新加坡 D. 多米尼加
67. 资料中失业率最高与最低的国家(地区),其幸福指数相差:
A. 22.1 B. 27.4
C. 28.5 D. 31.4
68. 资料中人均国民生产总值和幸福指数均排名前五的国家(地区)有几个?
A. 1 B. 2
C. 3 D. 4
69. 能够从上述资料中推出的是:
A. 资料中人均国民生产总值越高的国家(地区),其失业率越低
B. 人均国民生产总值排名第二的国家(地区),幸福指数排名第八
C. 资料中只有一个亚洲国家(地区)的失业率高于美国
D. 美国的失业人口少于俄罗斯
70. 下列说法与资料相符的有几个?
①国民生产总值小于1000亿美元的国家(地区),幸福指数均高于其他国家(地区)
②人口过亿的国家(地区),失业率越低,幸福指数越高
③比中国内地失业率低的国家(地区),幸福指数均低于中国内地
④人均国民生产总值超过2万美元的国家(地区),幸福指数均低于其他国家(地区)
A. 0 B. 1 C. 2 D. 3

十六、根据以下资料,回答71-75题。

2009年5月全国邮电业务基本情况表

	单位	5月		比去年同期增长(%)	
		累计(1~5月)	当月	累计	当月

D. 2009年1~5月,电信业务同比增长率高于邮政业务

电话: 010-51657188, 82387775, 82387776
邮箱: offcn.com@163.com

1949~2008 年公共卫生体系发展状况统计表

年份	卫生机构数 (个)	床位数 (万张)	卫生技术人员数 (万人)
1949	3670	8	51
1957	122954	30	104
1962	217985	69	141
1965	224266	77	153
1978	169732	185	246
1985	200866	223	341
1990	208734	259	390
2000	324771	291	449
2005	298997	314	446
2008	278337	375	503

76. 1949~2008 年, 我国卫生机构平均每年约增加:
 A. 4397 个 B. 4578 个
 C. 4655 个 D. 4736 个
77. 建国以来, 我国医院和卫生院床位数年平均增长率最高的时期为:
 A. 1957~1962 年 B. 1962~1965 年
 C. 1965~1978 年 D. 1978~1985 年
78. 与 1978 年相比, 2008 年平均每个卫生机构的卫生技术人员数约增加了:
 A. 5% B. 15%
 C. 25% D. 35%
79. 2008 年, 每万人口拥有的卫生机构数量约是 1949 年的多少倍?
 A. 3 B. 8
 C. 15 D. 30
80. 能够从上述资料中推出的是:
 A. 1957 年, 我国卫生技术人员总数首次超过百万
 B. 1949 年, 我国每千人口拥有的卫生技术人员数不足 1 人
 C. 2005~2008 年, 医院和卫生院床位数年均增长率超过 10%
 D. 20 世纪 80 年代后期, 我国卫生机构的数量呈现负增长态势

十八、根据以下资料, 回答 81-85 题。

经初步核算, 2009 年上半年我国国内生产总值同比增长 7.1%, 比一季度加快 1.0 个百分点。其中, 第一产业增加值 12025 亿元, 增长 3.8%; 第二产业增加值 70070 亿元, 增长 6.6%; 第三产业增加值 57767 亿元, 增长 8.3%。上半年, 全社会固定资产投资 91321 亿元, 同比增长 33.5%, 增速比上年同期加快 7.2 个百分点。其中, 城镇固定资产投资 78098 亿元, 增长 33.6%, 加快 6.8 个百分点; 农村固定资产投资 13223 亿元, 增长 32.7%, 加快 9.5 个百分点。上半年, 社会消费品零售总额 58711 亿元, 同比增长 15.0%。其中, 城市消费品零售额 39833 亿元, 增长 14.4%; 县及县以下消费品零售额 18878 亿元, 增长 16.4%。上半年, 进出口总额 9461 亿美元, 同比下降 23.5%。其中, 出口 5215 亿美元, 进口 4246 亿美元, 贸易顺差同比减少 21 亿美元。上半年, 城镇居民家庭人均总收入 9667 元。其中, 人均可支配收入 8856 元, 同比增长 9.8%。在城镇居民家庭人均总收入中, 工资性收入 6394 元, 增长 11.1%; 转移性收入 2273 元, 增长

16. 0%; 经营净收入 778 元, 增长 3. 9%; 财产性收入 222 元, 增长 9. 1%。农村居民人均现金收入 2733 元, 增长 8. 1%。其中, 工资性收入 954 元, 增长 8. 4%; 家庭经营收入 1512 元, 增长 5. 5%; 财产性收入 78 元, 增长 9. 9%; 转移性收入 189 元, 增长 31. 4%。

81. 2009 年上半年, 我国国内生产总值为:

A. 139862 亿元 B. 147953 亿元 C. 148632 亿元 D. 151429 亿元

82. 2008 年上半年, 全社会固定资产投资同比增长:

A. 40. 7% B. 33. 5% C. 26. 3% D. 24. 2%

83. 2008 年上半年, 我国进出口贸易顺差为:

A. 1018 亿美元 B. 990 亿美元 C. 970 亿美元 D. 948 亿美元

84. 2008 年上半年农村居民人均财产性收入约占农村居民人均现金收入的:

A. 2. 7% B. 2. 8% C. 2. 9% D. 3. 0%

85. 以下对 2009 年上半年我国经济运行状况的表述中, 不正确的一项是:

A. 固定资产投资快速增长

B. 国内市场销售平稳较快增长, 县及县以下增长快于城市

C. 对外贸易形势乐观, 进出口企稳回升

D. 城乡居民收入继续增长, 转移性收入增幅较大

十九、根据以下资料, 回答 86-90 题。

2008 年我国全年建设占用耕地 19.16 万公顷, 灾毁耕地 2. 48 万公顷。生态退耕 0. 76 万公顷, 因农业结构调整减少耕地 2. 49 万公顷。土地整理复垦开发补充耕地 22. 96 万公顷。

全年水资源总量 27127 亿立方米, 比上年增加 7. 4%; 人均水资源 2048 立方米, 增加 6. 9%, 全年平均降水量 659 毫米, 增加 8. 0%, 年末全国大型水库蓄水总量 1962 亿立方米, 比上年末多蓄水 93 亿立方米, 全年总用水量 5840 亿立方米, 比上年增加 0. 4%。其中, 生活用水增长 0. 6%, 工业用水增长 1. 8%, 农业用水减少 0. 2%, 生态补水减少 0. 7%, 万元国内生产总值用水量 231. 8 立方米, 比上年下降 7. 9%, 万元工业增加值用水量 130. 3 立方米, 下降 7. 0%, 人均用水量 440. 9 立方米, 下降 0. 1%。

全年完成造林面积 477 万公顷, 其中人工造林 329 万公顷, 林业重点工程完成造林面积 312 万公顷, 占全部造林面积的 65. 4%, 全民义务植树 23. 1 亿株, 截至 2008 年底, 自然保护区达到 2538 个, 其中国家级自然保护区 303 个, 新增综合治理水土流失面积 4. 7 万平方公里, 新增实施水土流失地区封育保护面积 2. 6 万平方公里。

初步测算, 全年能源消费总量 28. 5 亿吨标准煤, 比上年增长 4. 0%; 煤炭消费量 27. 4 亿吨, 增长 3. 0%; 原油消费量 3. 6 亿吨, 增长 5. 1%; 天然气消费量 807 亿立方米, 增长 10. 1%, 电力消费量 34502 亿千瓦时, 增长 5. 6%, 全国万元国内生产总值能耗下降 4. 59%。主要原材料消费中, 钢材消费量 5. 4 亿吨, 增长 4. 2%, 精炼钢消费量 538 万吨, 增长 6. 9%, 电解铝消费量 1260 万吨, 增长 4. 3%, 乙烯消费量 998 万吨, 下降 2. 9%, 水泥消费量 13. 7 亿吨, 增长 3. 5%。

86. 2007 年全年我国水资源总量约为:

A. 24780 亿立方米

B. 25260 亿立方米

C. 25630 亿立方米

D. 26120 亿立方米

87. 2007 年全年我国万元国内生产总值用水量约是万元工业增加值用水量的:

A. 1. 5 倍

B. 1. 6 倍

C. 1. 7 倍

D. 1. 8 倍

88. 2008 年全国人工造林面积约占造林总面积的:

A. 63%

B. 65%

C. 69%

D. 71%

89. 与 2007 年相比, 2008 年我国的水泥消费增加量和以下哪个最接近?

A. 8000 万吨 B. 5000 万吨 C. 800 万吨 D. 500 万吨

90. 根据以上资料，下列说法不正确的是：

- A. 我国原有耕地在 2008 年减少了 24.89 万公顷
B. 2007 年年末全国大型水库蓄水总量 1869 亿立方米
C. 截至 2008 年底，我国国家级自然保护区占自然保护区的比重超过 13%
D. 2007 年全国乙烯消费量超过 1000 万吨

二十、根据以下资料，回答 91-95 题。

地区	2007 年度		2008 年度	
	财政收入 (万元)	房地产开发 企业施工房屋面积 (万平方米)	财政收入 (万元)	房地产开发 企业施工房屋面积 (万平方米)
上海	20744792	10767	23587464	10784
山东	16753980	15165	19570541	20099
湖南	6065508	8162	7227122	10716
吉林	3206892	4370	4227961	4965
新疆	2856600	2054	3610616	2639
天津	5404390	4837	6756186	5704
云南	4867146	4302	6140518	5368

91. 山东 2008 年度财政收入在 2007 年度基础上大约增长了：

- A. 16.8% B. 16.2% C. 15.9% D. 15.4%

92. 2008 年度“财政收入”和“房地产开发企业施工房屋面积”都比云南多的地区有：

- A. 2 个 B. 3 个 C. 4 个 D. 5 个

93. 2007 年度上海的财政收入约是新疆的：

- A. 7.3 倍 B. 7.6 倍 C. 7.9 倍 D. 8.1 倍

94. 与 2007 年度相比，2008 年度“房地产开发企业施工房屋面积”增长最快的是：

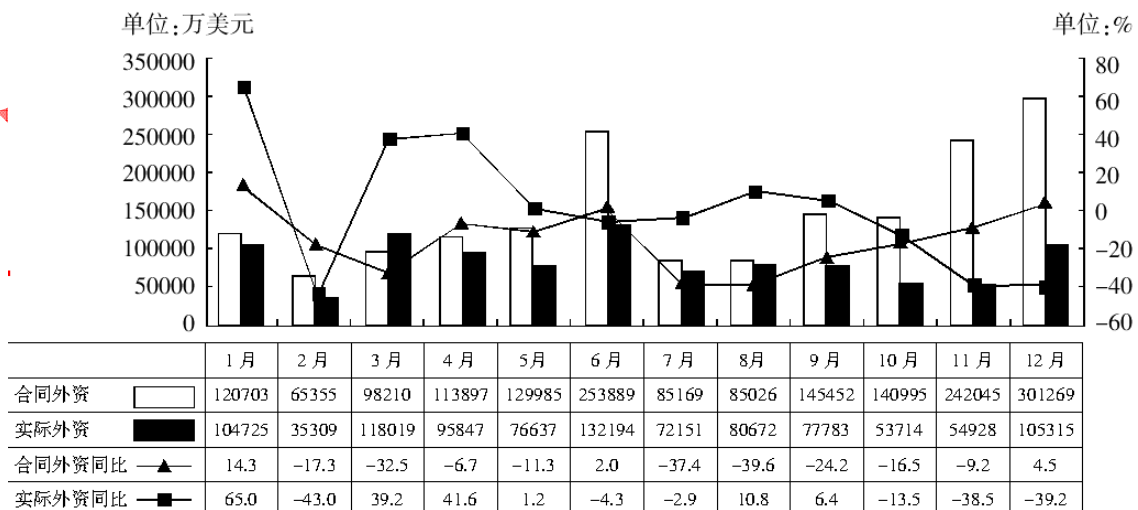
- A. 新疆 B. 山东 C. 吉林 D. 云南

95. 2008 年度“房地产开发企业施工房屋面积”最大的三个地区的面积之和比 2007 年度该三个地区之和增加了：

- A. 7615 万平方米 B. 7595 万平方米 C. 7535 万平方米 D. 7505 万平方米

二十一、根据以下资料，回答 96-100 题。

2008 年浙江省外商直接投资趋势图



96. 2008 年浙江省合同外资约为 ()。
- A. 156 亿美元 B. 154 亿美元 C. 178 亿美元 D. 189 亿美元
97. 估算 2007 年第四季度浙江省的实际外资总和约为 ()。
- A. 30.5 亿美元 B. 32.5 亿美元 C. 34.5 亿美元 D. 36.5 亿美元
98. 2008 年实际外资最多的月份的合同外资约是实际外资最少的月份的合同外资的 ()。
- A. 3.1 倍 B. 3.3 倍 C. 3.6 倍 D. 3.9 倍
99. 2008 年浙江省合同外资与实际外资的差在以下哪个范围 ()。
- A. 70-80 亿美元 B. 55-65 亿美元 C. 50-55 亿美元 D. 45-50 亿美元
100. 根据资料, 以下关于 2008 年浙江省外商直接投资的说法不正确的一项是 ()。
- A. 2008 年浙江省的合同外资比 2007 年少
- B. 12 个月份中, 合同外资和实际外资的同比增长率都是负数的有四个
- C. 12 个月份中, 合同外资大于实际外资的有 11 个
- D. 实际外资与合同外资相差最悬殊的月份和最接近的月份分别是 11 月份和 8 月份

二十二、根据下列材料回答 101-105 题:

相邻六省生产性服务业从业人员分析表 (2005 年)

单位: 万人

省份	交通运输、仓储及邮电通信业	信息传输、计算机服务和软件产业	租赁和商务服务业	金融保险业	房地产业	科学技术服务业
A 省	126.7	28.5	14.7	22.4	72.5	7.0
B 省	187.3	17.1	20.9	7.7	14.0	11.1
C 省	133.8	16.0	11.9	16.7	16.3	6.4
D 省	84.2	11.4	8.7	7.3	8.2	5.5
E 省	28.1	4.3	11.6	5.8	6.3	9.0
F 省	20.0	4.1	12.1	1.3	4.8	5.9

101. 六省从业人数比例最悬殊的生产性服务业是 ()。
- A. 交通运输、仓储及邮电通信业
- B. 信息传输、计算机服务和软件产业
- C. 金融保险业
- D. 房地产业
102. C 省与 D 省相比, 从业人数最接近的生产性服务业是 ()。
- A. 信息传输、计算机服务和软件产业
- B. 租赁和商业服务业
- C. 金融保险业
- D. 科学技术服务业
103. 六省的生产性服务业, 按从业人数多少排名相同的行业是 ()。
- A. 交通运输、仓储及邮电通信业
- B. 信息传输、计算机服务和软件产业

- C. 租赁和商业服务业
- D. 科学技术服务业

104. 以从业人数为标准, C 省与其他五省相比, 相对软弱的行业是 ()。

- A. 交通运输、仓储及邮电通信业
- B. 信息传输、计算机服务和软件产业
- C. 金融保险业
- D. 科学技术服务业

105. 从就业人数规模看, 以下关于六省生产性服务业的判断不正确的是 ()。

- A. A 省房地产业相对发达
- B. E 省、F 省的信息传输、计算机服务和软件产业相对薄弱
- C. F 省的金融保险业很发达
- D. B 省从业人员数量最悬殊的两个行业是交通运输、仓储及邮电通信业与金融保险业

二十三、根据下列材料回答 106-110 题:

截止 2007 年 12 月, 网民数已达到 2.1 亿人, 比 2007 年 6 月增加 4 800 万人, 2007 年一年增加了 7 300 万, 年增长率为 53.3%。一年中平均每天增加网民 20 万人。目前, 中国的网民人数略低于美国的 2.15 亿, 位于世界第二位; 中国 16% 的互联网普及率仍比全球平均水平 19.1% 低 3.1 个百分点。

从地域上看, 北京和上海的互联网普及率较高, 已经分别达到 46.6% 和 45.8%; 从增量上看, 广东由于手机网民数增长的拉动, 增长人数最多, 一年内共增加了 1 500 万网民。

2007 年农村网民规模年增长率超过 100%, 达到 127.7%, 农村网民数量达到 5 262 万人。7 300 万新增网民中的 4 成, 即 2 917 万来自农村。从网民居住地上看, 网民居住在城镇的较多, 74.9% 都居住在城镇, 城镇网民数已达到 1.57 亿人, 而同期农村网民数量仅有 5 262 万人。但农村网民数量增长非常迅速, 年增长率超过 100%, 已达到 127.7%, 远高于城镇网民 38.2% 的增长率。但城镇与农村的互联网发展水平仍存在很大差距, 城镇居民的互联网普及率是 27.3%, 农村仅为 7.1%。

中国的宽带网民数量增长迅速。2007 年 12 月的宽带网民数已经达到 1.63 亿, 占网民总体的 77.6%, 比 2007 年 6 月增加了 4 094 万人, 比 2006 年 12 月的 1.04 亿增加了 5 938 万人。

106. 农村网民数量占全国网民的比例达到了 ()。

- A. 1/3
- B. 1/4
- C. 2/5
- D. 1/5

107. 2007 年, 农村网民增长率比城市网民增长率高 ()。

- A. 87.5%
- B. 89.5%
- C. 91.5%
- D. 93.5%

108. 2007 年 6 月与 2006 年相比, 中国宽带网民增长了 ()。

- A. 17.4%
- B. 33.2%
- C. 45%
- D. 56.7%

109. 与世界互联网普及率相比, ()。

- A. 中国城镇居民互联网普及率高出 3.1 个百分点
- B. 中国农村居民互联网普及率低 7.1 个百分点
- C. 北京互联网普及率要高出 25.5 个百分点
- D. 上海互联网普及率要高出 26.7 个百分点

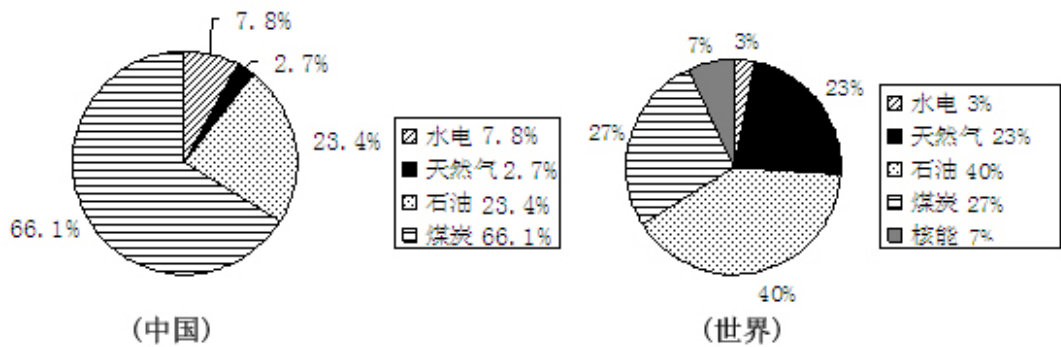
110. 以下判断正确的是 ()。

- A. 中国互联网普及率仅次于美国, 已经居世界前列

- B. 中国农村网民增长速度高于城市，但互联网普及率低于城市
C. 广州手机网民数量超过了宽带网民数量
D. 2007 年中国的城市网民新增数量及增长率都高于农村

二十四、根据下列材料回答 111-115 题。

2002年中国与世界能源消费结构图



111. 2002 年中国煤炭消费比重高出世界煤炭消费比重多少个百分点?

- A. 9.8 B. 10.2
C. 39.1 D. 66.1

112. 2002 年世界能源消费构成中，占主导的是（ ）。

- A. 煤炭 B. 石油
C. 天然气 D. 水电

113. 2002 年中国能源消费构成中，占主导的是（ ）。

- A. 煤炭 B. 石油
C. 天然气 D. 水电

114. 在国际上今后我国应着重保障_____的可靠、合理和稳定的供应。

- A. 煤炭 B. 石油
C. 天然气 D. 水电

115. 2002 年中国能源消费结构图中没有核能这一项，其中原因最可能是（ ）。

- A. 2002 年前中国还没有建立核电站
B. 核能消费可能产生污染，所以，不使用核能
C. 2002 年中国的核能消费比重可能太小，没有列入
D. 中国的能源储备丰富，暂时不需要使用核能

二十五、根据下列统计资料回答 116-120 题

2007 年我国对主要国家和地区货物进出口额及其增长速度

单位：亿美元

国家和地区	货物出口额	比上年增长%	货物进口额	比上年增长%
欧盟	2452	29. 2	1110	22. 4
美国	2327	14. 4	694	17. 2

中国香港	1844	18.8	128	18.9
日本	1021	11.4	1340	15.8
东盟	942	32.1	1084	21.0
韩国	561	26.1	1038	15.6
俄罗斯	285	79.9	197	12.1
印度	240	64.7	146	42.4
中国台湾	235	13.1	1010	16.2

116.2007 年我国对主要国家和地区货物进出口贸易逆差额(进口额-出口额)最大的国家(地区)是

- A. 欧盟 B. 美国
C. 韩国 D. 中国台湾

117.2007 年我国对韩国货物进出口总额约比上年增长

- A. 15.6% B. 19.1%
C. 26.1% D. 44.2%

118.与上年相比,2007 年我国对主要国家和地区货物进出口总额增长率超过 20%的国家(地区)有

- A. 3 个 B. 4 个
C. 5 个 D. 6 个

119.与上年相比,2007 年我国对主要国家和地区货物进出口总额增长率最高的国家(地区)的进口额为

- A.146 亿美元 B. 197 亿美元
C. 240 亿美元 D. 285 亿美元

120.下列说法中,不正确的是

- A.2007 年,我国对欧盟的货物出口额最大
B. 与上年相比,2007 年我国对主要国家和地区货物进出口总额增长率都超过 10%
C.2007 年,我国对主要国家和地区货物进口额总共约为 9 907 亿美元
D.2006 年,我国对日本的货物进口额最大

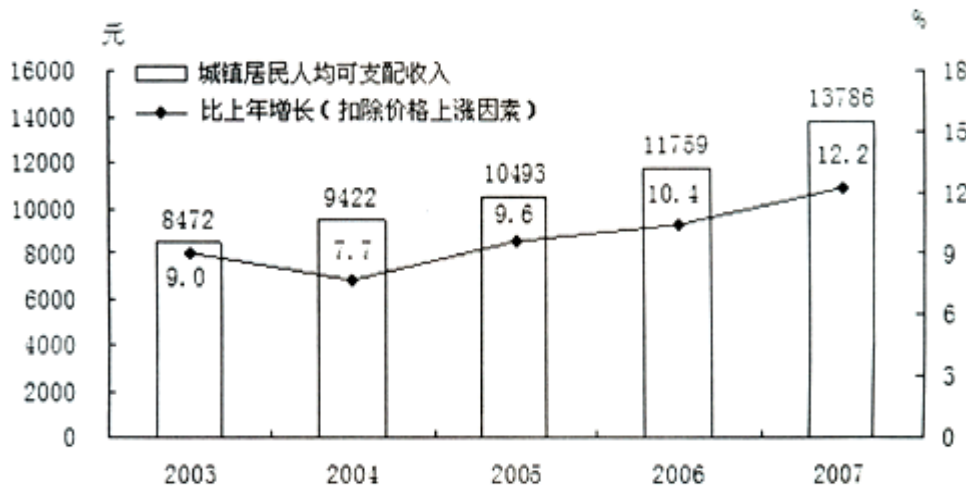
二十六、根据下列统计资料回答 121—125 题

2007 年末全国总人口为 132 129 万人,比上年末增加 681 万人。全年农村居民人均纯收入 4 140 元,扣除价格上涨因素,比上年实际增长 9.5%;城镇居民人均可支配收入 13 786 元,扣除价格上涨因素,比上年实际增长 12.2%。按农村绝对贫困人口标准低于 785 元测算,年末农村贫困人口为 1 479 万人,比上年末减少 669 万人;按低收入人口标准 786—1 067 元测算,年末农村低收入人口为 2 841 万人,比上年末减少 709 万人。

2003-2007年农村居民人均纯收入及其增长速度



2003-2007年城镇居民人均可支配收入及其增长速度



121. 2007 年末全国农村低收入人口所占比例约比 2006 年末下降了多少个百分点?

- A. 0.6 B. 10.6
C. 31.1 D. 40.6

122. 2006 年末, 全国农村低收入人口与贫困人口所占比例约为

- A. 4.3% B. 2.2%
C. 1.1% D. 不好估算

123. 根据上述材料, 下列描述错误的是:

- A. 2003-2007 年, 农村居民人均纯收入与城镇居民人均可支配收入间的差距呈增大趋势
B. 2005-2007 年, 农村居民人均纯收入与城镇居民人均可支配收入增长速度的走势大致相同
C. 2005-2007 年, 扣除价格上涨因素后城镇居民人均可支配收入年平均增长率为 11.3%
D. 2004 年, 农村居民人均纯收入与城镇居民人均可支配收入增长速度间的差距最大

124. 2007 年农村居民人均纯收入与城镇居民人均可支配收入间的差距和 2006 年相比

- A. 约增大了 11%
B. 约减少了 11%

C. 约增大了 18%

D. 约减小了 18%

125. 如果不扣除价格上涨因素, 增长速度同于上年, 预计 2008 年农村居民人均纯收入约为:

A. 4 533 元

B. 4 778 元

C. 15 468 元

D. 16 162 元

二十七、根据下列材料回答 126-130 题

2007 年上半年某镇完成工业总产值 66 625 万元, 比去年同期增长 32.7%, 增速提高 12.7 个百分点。其中规模以上工业企业完成产值 56 869 万元, 比上年同期增长 43.9%, 占全年工业总产值计划的 45.3%。完成工业增加值 22 177 万元, 同比增长 26.2%, 其中规模以上工业企业实现 19 270 万元, 同比增长 47.9%。

骨干企业群体壮大, 对经济增长的带动作用明显, 上半年, 全镇规模以上工业企业中有 3 家企业完成工业总产值超过 5 000 万元, 累计完成工业总产值 28 501.8 万元, 同比增长 48.9%。有 10 家企业产值同比增加额超过 1 000 万元, 比去年增加 3 家, 共完成工业总产值 18 852.7 万元, 同比增长 88.1%。这 13 家骨干企业拉动规模以上工业企业经济增长 20 个百分点。

10 个行业大类中, 服装行业实现价值 3.01 亿元, 同比增长 84.9%; 机械行业实现产值 2 236.8 万元, 同比增长 49.5%, 酒业完成价值 1 284 万元, 同比增长 118.7%, 童车行业实现产值 1 107.2 万元, 同比增长 19.3%, 五金机械行业完成价值 377.3 万元, 同比增长 34.4%; 箱包行业实现产值 1 363.2 万元, 同比增长 31.7%; 羊毛衫行业实现产值 1.75 亿元, 同比增长 11.6%; 有机化学行业实现产值 792.7 万元, 同比增长 16.4%; 纸制品行业实现产值 1 713 万元, 同比增长 7.0%; 砖瓦行业由于今年砖窑厂数量的减少, 实现产值 329.5 万元, 同比下降 64%。

126. 2006 年上半年, 该镇工业增加值中由规模以上企业实现的增加值约为

A. 5. 02 亿元

B. 3.95 亿元

C. 1.75 亿元

D. 1.3 亿元

127. 2006 年上半年, 该镇工业增加值中由规模以上企业实现的比例约为

A. 74. 1%

B. 78.8%

C. 85.4%

D. 86.9%

128. 2007 年上半年该镇有 10 家企业产值同比增加额超过 1 000 万元, 这 10 家骨干企业的产值较去年同期增长

A. 0.38 亿元

B. 0.41 亿元

C. 0.88 亿元

D. 1.0 亿元

129. 2007 年上半年, 该镇完成的工业总产值约占全年工业总产值计划的

A. 17.7%

B. 45.3%

C. 53.1%

D. 无法计算

130. 由上述材料可知

A. 2007 年上半年, 该镇 10 个行业大类对全镇工业产值增加的贡献率相同

B. 2007 年上半年, 该镇 10 个行业大类中有 6 个行业产值的同比增长率超过 20%

C. 2007 年上半年, 该镇 10 个中有 8 个行业产值保持增长

D. 2005 年上半年, 该镇完成工业总产值约为 4.18 亿元

二十八、根据下列统计资料回答 131-135 题

某省城镇就业人员增长明显快于乡村。2007 年全省城镇就业人员比 1978 年增长

2 091.4 万人, 增加 3.4 倍, 年均增长 6%; 所占比重达到 43.5%, 上升 23.8 个百分点。全省乡村就业人员比 1978 年增加 1 020.2 万人, 增长 40.8%, 年均增长 1.2%; 所占比重为 56.5%, 下降 23.8 个百分点。

非农产业成为就业的主导产业。2007 年全省第三产业就业人员比 1978 年增加 1 574 万人, 增加 2.9 倍, 年均增长 7.1%, 所占比重达到了 34%, 上升 16.6 个百分点, 成为拉动就业增长的主要力量。与 1978 年相比, 第一产业就业人员减少 85.7 万人, 所占比重下降了 37.0 个百分点; 第二产业就业人员增加 1 623.3 万人, 所占比重上升 20.4 个百分点。

非公有经济的就业比例迅速上升。1978 年全省个体经济就业人员仅有 2 353 人。2007 年个体工商户就业人员达到了 397.8 万人, 所占比重为 6.4%; 私营企业就业人员达到 522.7 万, 比重为 8.4%; 港澳台企业就业人员 27.4 万人, 比重为 0.4%; 外商投资企业就业人员 108.3 万人, 比重 1.7%。

131. 1978 年, 该省乡村就业人员数量为:

- A. 1 762.0 万人 B. 2 500.5 万人
C. 2 967.8 万人 D. 3 520 万人

132. 1978 年, 该省乡村就业人员所占比例为城镇就业人员的多少倍

- A. 1.3 B. 4.1
C. 8.7 D. 无法计算

133. 如果增长趋势同于年均增长速度, 预计 2008 年该省第三产业就业人员数量为

- A. 403.6 万人 B. 542.8 万人
C. 2 116.8 万人 D. 2 267.1 万人

134. 1978 年, 全省第三产业就业人员所占比重为

- A. 16.6% B. 17.4%
C. 34% D. 50.6%

135. 2007 年全省非公有经济就业人员所占比重比 1978 年增加多少百分点

- A. 56.7 B. 37.6
C. 16.9 D. 无法计算

二十九、根据下列统计资料回答 136-140 题

2008 年, 初步核算, 全年国内生产总值 300670 亿元, 比上年增长 9.0%。分季度看, 一季度增长 10.6%, 二季度增长 10.1%, 三季度增长 9.0%, 四季度增长 6.8%。分产业的看, 第一产业增加值 34000 亿元, 增长 5.5%; 第二产业增加值 146183 亿元, 增长 9.3%; 第三产业增加值 120487 亿元, 增长 9.5%。

全年规模以上工业比上年增长 12.9%, 比上年下降 5.6 个百分点, 东、中、西部地区分别增长 11.6%、15.8% 和 15.0%。

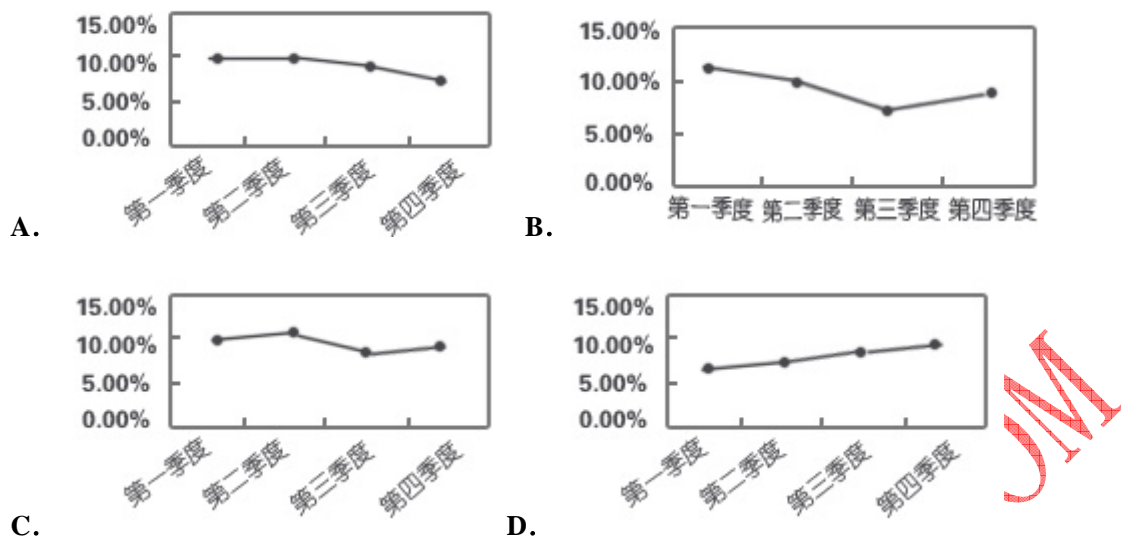
全年全社会固定资产投资 172291 亿元, 比上年增长 25.5%, 同比上年加快 0.7 个百分点。其中, 城镇投资 148167 亿元, 增长 26.1%; 加快 0.3 个百分点; 农村投资 24124 亿元, 增长 21.5%。在城镇投资中, 第一产业投资 2256 亿元, 比上年增长 54.5%; 第二产业投资 65036 亿元, 增长 28.0%; 第三产业投资 80875 亿元, 增长 24.1%。东、中、西部地区城镇投资分别增长 21.3%、33.5% 和 26.7%。全年房地产开发投资 30580 亿元, 比上年增长 20.9%。

全年社会消费品零售总额 108488 亿元, 比上年增长 21.6%, 增速比上年加快 4.8 个百分点。分城乡看, 城市消费品零售额 73735 亿元, 增长 22.1%, 增速加快 4.9 个百分点, 县及县以下消费品零售额 34753 亿元, 增长 20.7%, 增速加快 4.9 个百分点。分行业看, 批发和零售业消费品零售额 91199 亿元, 增长 21.5%; 住宿和餐饮业消费品零售额 15404 亿元, 增长 24.7%。

136. 2006 年, 全年社会消费品零售总额为 ()。

- A. 76384.5 亿元 B. 89217.1 亿元
C. 92883.6 亿元 D. 131872.8 亿元

137. 下列选项中, 符合我国 2008 年全年生产总值增长情况的是 ()。



138. 下列选项中, 正确的是 ()。

- A. 2007 年, 我国城镇固定资产投资中第一产业投资额高于 2000 亿元
- B. 2007 年, 我国城镇固定资产投资中第二产业投资额低于第三产业投资额
- C. 2007 年, 我国城镇固定资产投资额低于 100000 亿元
- D. 2007 年, 我国城镇固定资产投资额比 2008 年少 50000 余亿元

139. 2007 年, 城市消费品零售额与县及县以下消费品零售额相比, 增速 ()。

- A. 相同 B. 略快 C. 略慢 D. 无法比较

140. 下列说法中, 错误的是 ()。

- A. 2007 年, 批发和零售业与住宿和餐饮业消费零售额的差值比 2008 年小
- B. 2008 年, 分地区来看, 中部地区比西部和东部地区的经济发展快
- C. 2008 年, 国内销售增长较快, 城乡消费旺盛
- D. 2008 年, 我国第一、二、三产业发展均衡

三十、根据下列统计资料回答 141-145 题

2008 年, 居民消费价格比上年上涨 5.9%, 其中食品价格上涨 14.3%, 固定资产投资价格上涨 8.9%。工业品出厂价格上涨 6.9%, 其中生产资料上涨 7.7%, 生活资料价格上涨 4.1%。原材料、燃料、动力购进价格上涨 10.5%。农产品生产价格上涨 14.1%, 农业生产资料上涨 20.3%。70 个大中城市房屋销售价格上涨 6.5%, 其中新建住宅价格上涨 7.1%, 二手住宅价格上涨 6.2%, 房屋租赁价格上涨 1.4%。

图2 2004-2008年居民消费价格涨跌幅度

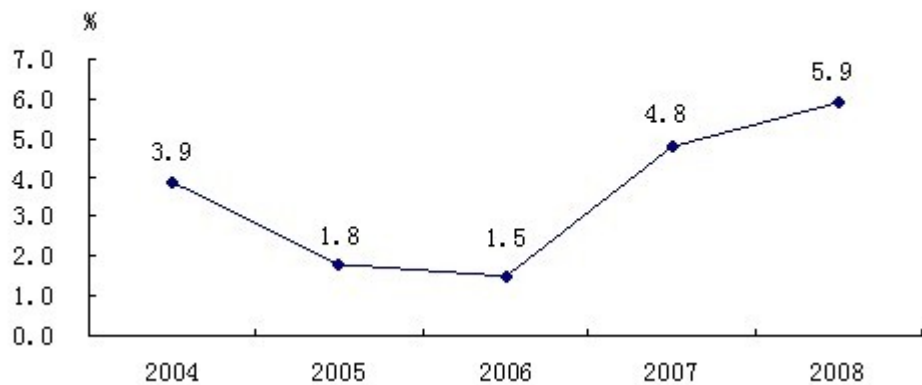


表 2008 年居民消费价格比上年涨跌幅度

单位: %

指标	全国	城市	农村
居民消费价格	5.9	5.6	6.5
食品	14.3	14.5	14.9
其中: 粮食	7.0	7.2	6.7
肉禽及其制品	21.7	22.6	20.0
油脂	25.4	24.9	25.9
鲜蛋	3.7	3.8	3.6
鲜菜	10.7	10.5	11.3
鲜果	9.0	8.9	9.3
烟酒及用品	2.9	3.1	2.6
衣着	-1.5	-1.8	-0.6
家庭设备用品及服务	2.8	3.0	2.4
医疗保健及个人用品	2.9	2.8	3.2
交通和通信	-0.9	-1.6	0.7
教育文化用品及服务	-0.7	-0.9	-0.1
居住	5.5	4.3	8.2

141. 2004-2008 年, 居民消费价格平均涨幅为 ()。

- A. 3.48% B. 3.58%
C. 3.83% D. 4.47%

142. 2008 年城市居民消费涨幅最小的是 ()。

- A. 衣着
B. 医疗保健及个人用品
C. 家庭设备用品及服务
D. 交通和通信

143. 2008 年, 下列价格指标中涨幅最大的是 ()。

- A. 固定资产投资价格

- B. 农产品生产价格
C. 大中城市房屋销售价格
D. 农业生产资料价格

144. 下列说法中，正确的是（ ）。

- A. 2008 年，我国所有消费价格均呈上涨趋势
B. 2008 年，农村居民交通和通信消费价格涨幅低于城市
C. 2008 年，居民消费价格中食品价格涨幅最大
D. 2008 年，全国衣着消费额低于 2007 年

145. 下列说法中，不正确的是（ ）。

- A. 农村居民食品价格涨幅低于城市
B. 与城市相比，农村衣着类消费品价格降幅较小
C. 与城市相比，农村交通和通信消费需求更大
D. 城市和农村鲜蛋价格涨幅趋同

三十一、根据下列统计资料回答 146-150 题

全社会客运运输量（2008 年 9 月）

指标	单位	9 月	比上年同月增长%	1-9 月	比上年同期增长%
客运量:					
铁路	亿人	1.25	12.8	11.20	11.8
公路	亿人	18.47	11.4	163.06	7.4
水运	亿人	0.20	-2.1	1.73	-2.7
民航	亿人	0.16	0.7	1.41	1.7
旅客周转量:					
铁路	亿人公里	656.67	9.3	6 073.82	7.2
公路	亿人公里	1 067.85	12.4	9 316.19	9.4
水运	亿人公里	6.46	0.2	52.79	-6.4
民航	亿人公里	240.96	-2.5	2 113.91	1.5

146. 2008 年 1-9 月，公路占旅客周转量比重约比铁路多多少个百分点？（ ）

- A. 2.2 B. 3.1
C. 18.5 D. 5.0

147. 2007 年 1-8 月，水运旅客周转量约为多少亿人公里？（ ）

- A. 1.5 B. 9.6
C. 43.2 D. 50

148. 2008 年 1-8 月，公路客运量比上年同期增长（ ）。

- A. 6.9% B. 7.4%
C. 7.9% D. 11.7%

149. 2007 年 9 月民航旅客周转量在当年 1-9 月民航旅客周转量中所占比例约为（ ）。

- A. 11.4% B. 11.9%
C. 60% D. 88.1%

150. 与上年同期相比，2008 年 1-9 月增长速度最快的是（ ）。

- A. 公路客运量 B. 公路旅客周转量
C. 铁路客运量 D. 铁路旅客周转量

三十二、根据下列统计资料回答 151-155 题

部分国家研究与发展经费支出总额及国内生产总值

(单位: 亿美元)

国家	研究与发展经费			国内生产总值 (GDP)		
	2001	2003	2005	2001	2003	2005
中国	125.95	186.01	298.98	13248	16410	22343
加拿大	146.78	173.71	224.25	7154	8661	11315
芬兰	41.33	56.49	68.07	1252	1647	1957
法国	294.29	390.16	452.62	13397	17999	21266
德国	465.34	615.54	700.84	18910	24395	27869
日本	1278.94	1352.80	—	40877	42313	45590
韩国	124.79	160.02	235.87	4819	6081	7876
西班牙	55.72	92.69	125.60	6091	8832	11260
英国	268.09	323.79	—	14352	18128	22263
美国	2778.20	2924.37	—	100789	109080	123979
以色列	56.50	51.37	61.07	1186	1151	1298
俄罗斯	36.09	55.34	81.59	3066	4315	7636

151. 2001-2005 年, 西班牙研究与发展经费的年平均增长率为 ()。

- A. 22.5% B. 50.1%
C. 122.5% D. 150.1%

152. 表中所列国家中, 2003 年研究与发展经费最多的国家是 ()。

- A. 日本 B. 新加坡
C. 美国 D. 德国

153. 2005 年中国研究与发展经费占 GDP 的比重, 比 2001 年提高了约多少个百分点? ()

- A. 0.9 B. 3.8
C. 0.4 D. 1.3

154. 2003 年, 加拿大 GDP 在表中所列国家中的排名为 ()。

- A. 第六 B. 第七
C. 第八 D. 第九

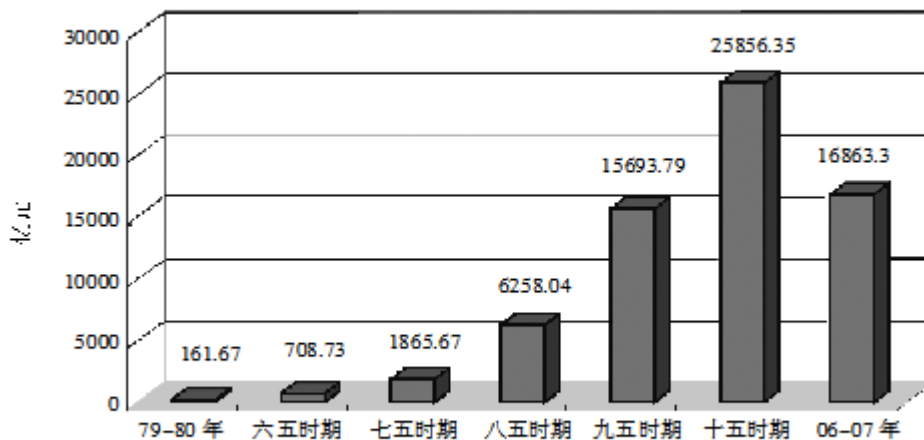
155. 2001 年, 研究与发展经费占本国 GDP 的比重最高的国家是 ()。

- A. 西班牙 B. 以色列
C. 美国 D. 芬兰

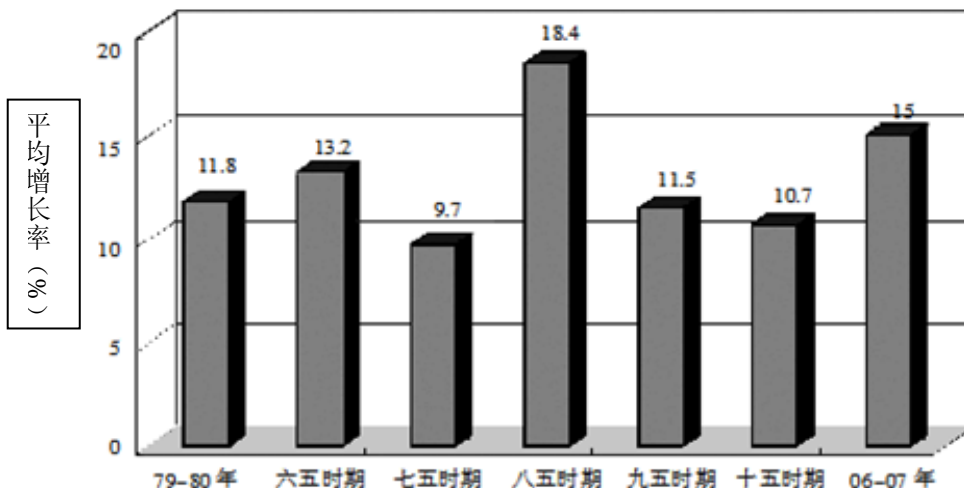
三十三、根据以下资料, 回答 156-160 题。

废水、废气、固体废物“三废”治理效率情况

A 省各计划时期生产总值 (GDP) 总量



A 省各计划时期生产总值 (GDP) 年平均增长率



161. 从 1981 年到 2005 年, A 省生产总值年均增长率最高的是:

- A. “六五”时期 B. “八五”时期
C. “九五”时期 D. “十五”时期

162. 已知 A 省 2007 年生产总值为 9075 亿元, “十一五”时期年均增长率不变, 在 2008 年可实现的生产总值为:

- A. 10113. 16 亿元 B. 10397. 21 亿元
C. 10436. 25 亿元 D. 11078. 65 亿元

163. A 省“十五”时期的生产总值比“六五”时期增加了:

- A. 33. 48 倍 B. 35. 48 倍
C. 36. 48 倍 D. 37. 24 倍

164. 从 1979 年到 2007 年, A 省生产总值总量为:

- A. 50543. 75 亿元 B. 67146. 25 亿元
C. 67407. 55 亿元 D. 68512. 25 亿元

165. 在下列关于 A 省的说法中, 不能从图中得出结论的是:

- A. “十五”时期的 GDP 总量大约是“九五”时期的 1. 65 倍

- B. 生产总值年均增长除了“七五”时期低于10%外,其余时期均高于10%
- C. 如果保持现有的GDP年增长率,可以预测“十一五”时期的生产总值将明显高于“十五”时期
- D. 改革开放30年来,国民经济得到了迅猛发展,2007年GDP增速居全国第二位

三十五、根据以下资料,回答166-170题。

改革开放以来,某省从业人员总量伴随经济增长而持续增加,城乡就业规模不断扩大,就业结构经过调整逐步合理,从业人员素质逐步提高,城镇登记失业率稳中有降,成功地解决了经济结构调整以及城市化进程中的就业问题。至2007年底,某省从业人员总量达到2015.33万人,比1978年底增加1090.92万人,年均增长2.7%,全省从业人员占全省总人口比重比1978年上升了18.5个百分点,达到56.3%。其中,全省城镇从业人员数673.26万人,比1978年增长了2.26倍。仅2001-2007年7年间就增加251.16万人,占1978年以来增加人数的53.8%。从2003年以来,城镇登记失业持续下降,2007年全省城镇登记失业率为3.9%,比2002年低0.3个百分点,比全国同期平均水平低0.1个百分点。人员素质显著提高,全省国有企事业单位专业技术人员从1978年的8.41万人增加到2007年的62.38万人。1982年至2007年,大专及以上文化程度的人口占总人口的比重从0.6%上升到4.8%,高中(含中专)人口所占比重从5.7%上升到12.0%,而文盲、半文盲人口比重从25.2%下降到10.0%。人员素质的提高,专业技术人员的增加,为全省经济建设奠定了良好的基础。

166. 到2007年底,该省全社会从业人员总量比1978年底增长了:
- A. 1.02倍 B. 1.18倍 C. 1.32倍 D. 2.26倍
167. 根据文中资料,可推算出1978年该省总人口大约为:
- A. 2162万人 B. 2446万人 C. 2542万人 D. 2668万人
168. 改革开放三十年以来,该省城镇从业人数净增(),平均每年增加()。
- A. 251.16万人, 8.37万人 B. 362.40万人, 12.08万人
- C. 379.24万人, 12.64万人 D. 466.74万人, 15.56万人
169. 2007年该省国有企事业单位专业技术人员总数比1978年增长了:
- A. 5.38倍 B. 6.42倍 C. 7.42倍 D. 8.21倍
170. 根据文中资料,不能得出的结论是:
- A. 近年来,该省失业人数持续下降,预计今后几年将进一步下降
- B. 2001~2007年七年间,该省城镇从业人数大幅度提高
- C. 改革开放三十年以来,该省劳动就业成绩显著
- D. 改革开放三十年以来,该省劳动人员素质显著提高,学历层次也明显提高

三十六、根据下面的材料,回答171-175题。

据初步测算,2006年广东完成生产总值25968.55亿元,比上年增长14.1%,经济总量继续列全国第一位置。其中,第一产业增长3.8%,第二产业增长16.9%,第三产业增长12.2%。与此同时,鲁、苏、浙、沪也稳定协调发展,其中山东、江苏赶超步伐不减,增速分别高广东0.6个和0.8个百分点。山东完成生产总值21846.71亿元,增长14.7%;江苏完成生产总值21548.36亿元,增长14.9%;浙江生产总值为15649亿元,增长13.6%,分别列全国第二到第四位;上海完成生产总值10297亿元,增长12.0%。在四省一市中,广东经济增长速度居中间。

广东规模以上工业完成增加值10718.57亿元,低于山东工业增加值(11122.76亿元),高于江苏工业增加值(10015.12亿元),鲁、粤、苏分列前三位。浙江工业增加值5655.05亿元,上海工业增加值4456.04亿元。广东工业增长18.3%,增速低于山东(23.6%)、江苏(21.4%)和浙江(17.1%),高于上海(13.4%)。

广东工业经济效益有所提高,规模以上工业实现利润1958.34亿元,增长24.8%;山东实现

利润 2633.97 亿元, 增长 21.7%; 江苏实现利润 1901.83 亿元, 增长 37.4%; 浙江实现利润 1324.55 亿元, 增长 20.6%; 上海实现利润 1086.7 亿元, 增长 15.7%。

广东固定资产投资稳定增长, 完成全社会固定资产投资 8116.89 亿元, 增长 16.7%; 其中, 城镇以上固定资产投资 6552.58 亿元, 增长 11.2%。山东城镇以上固定资产投资 8714.86 亿元, 增长 19.8%。江苏城镇以上固定资产投资 7473.69 亿元, 增长 20.2%。浙江城镇以上固定资产投资 5428.03 亿元, 增长 13.4%, 上海城镇以上固定资产投资总额 3497.48 亿元, 增长 9.8%。广东城镇以上固定资产投资落后于江苏和山东, 列总量第三位。

广东房地产开发投资保持理性, 全年完成房地产开发投资 1834.34 亿元, 增长 22.4%。江苏房地产投资 1901.01 亿元, 增长 23.0%。山东房地产开发投资 1178.71 亿元, 增长 21.0%。浙江房地产开发投资 1572.79 亿元, 增长 8.0%。上海房地产开发投资 1275.59 亿元, 增长 2.3%。广东房地产开发投资总量低于江苏, 增速较高。

171.2005 年山东省城镇以上固定资产投资为 () 亿元。

- A.2633.79 B.21846.71 C.7274.51 D.6955.35

172.2006 年广东省工业增速排在第 () 位。

- A.二 B.三 C.四 D.五

173.2005 年广东省生产总值位列第一, 高于第三位 () 亿元。

- A.6552.58 B.2633.97 C.3575.36 D.4005.46

174.2006 年广东省房地产投资占全社会固定资产投资比重比 2005 年 ()。

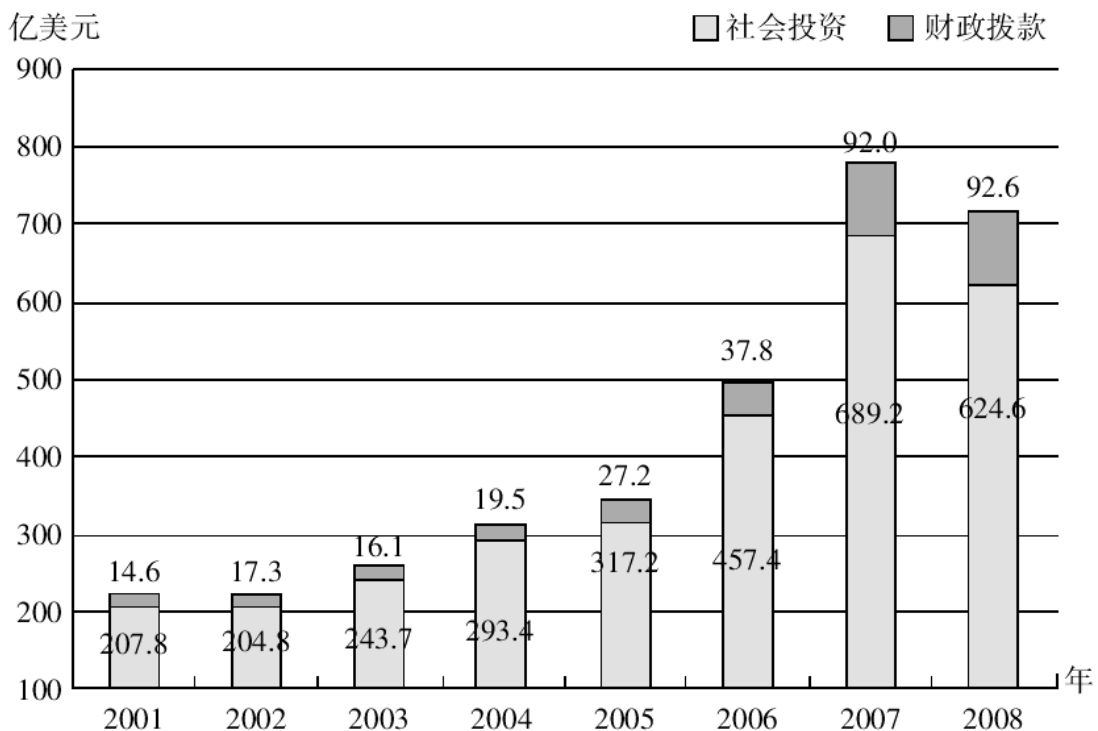
- A.增加了约 1 个百分点 B.降低了约 1 个百分点
C.增加了约 1.5 个百分点 D.降低了约 1.5 个百分点

175.下列说法正确的是 ()。

- A.2006 年广东省规模以上工业实现利润为全国首位
B.2006 年广东省生产总值增速位列全国第二
C.2005 年广东省全社会固定资产投资 6955.35 亿元
D.2005 年山东省房地产开发投资为 1178.71 亿元

三十七、根据材料, 回答 176-180 题。

2001-2008 年地质勘查投资情况



176. 下列年份中, 财政拨款用于地质勘查投资的增长幅度最大的是 ()。

A. 2002 年

B. 2004 年

C. 2005 年

D. 2008 年

177. 若按照 2005 年的增长率来计算, 2009 年的社会投资用于地质勘查投资的资金约是 ()。

A. 675 亿美元

B. 765 亿美元

C. 640 亿美元

D. 456 亿美元

178. 用于地质勘查投资的资金最多的一年比最小的一年多出 ()。

A. 152%

B. 225%

C. 252%

D. 352%

179. 2001-2008 年, 社会投资用于地质勘查投资的资金平均每年约增加 () 亿美元。

A. 52.1

B. 59.5

C. 72.9

D. 416.8

180. 下列说法正确的是 ()。

A. 这八年来, 财政拨款用于地质勘查投资的资金逐年上升

B. 与 2003 年相比, 2007 年社会投资用于地质勘查投资的比重增加了

C. 社会投资用于地质勘查投资的增长幅度从 2001-2007 年一直高于财政拨款的增长幅度

D. 2004 年财政拨款用于地质勘查投资比 2002 年增长了约 12.7%

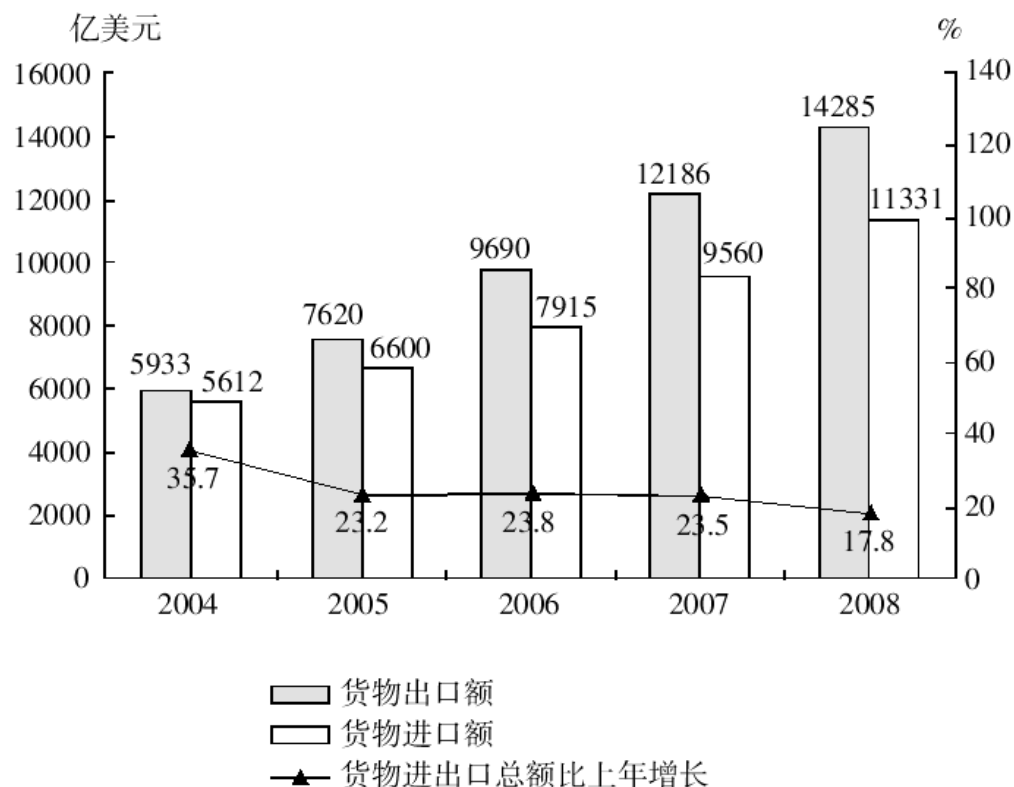
三十八、根据所给资料, 回答 181-185 题。

2008 年我国大陆地区对主要国家和地区货物进出口额及其增长速度

单位: 亿美元

国家和地区	货物出口额	比上年增长%	货物进口额	比上年增长%
欧盟	2929	19.5	1327	19.6
美国	2523	8.4	814	17.4
中国香港	1907	3.4	129	0.9
日本	1161	13.8	1507	12.5
东盟	1141	20.7	1170	7.9
韩国	740	31.0	1122	8.1
俄罗斯	330	15.9	238	21.0
印度	315	31.2	203	38.7
中国台湾	259	10.3	1033	2.3

2004-2008 年我国大陆地区货物进出口总额及其增长速度



181. 2007 年我国大陆地区对美国的货物进出口总额为 ()。

- A. 2523 亿美元 B. 3337 亿美元
C. 3021 亿美元 D. 814 亿美元

182. 2008 年对主要国家和地区货物进出口贸易逆差额(进口额-出口额)最大的国家(地区)是 ()。

- A. 欧盟 B. 美国
C. 韩国 D. 中国台湾

183. 2007 年对东盟的进口额占当年进口额的比重约是 ()。

- A. 7.7% B. 11.3%

C. 23%

D. 34%

184. 与2004年相比, 2008年货物进出口总额的增长幅度约为()。

A. 121.9%

B. 21.9%

C. 221.9%

D. 45%

185. 下列说法中, 不正确的是()。

A. 与上年相比, 我国大陆地区对外进出口总额的增加额在2007年达到最大

B. 与上年相比, 2008年我国大陆地区对主要国家和地区货物进出口总额增长率都超过10%

C. 2008年, 我国大陆地区对主要国家和地区货物出口额总共约为1130.5亿美元

D. 2004-2008年, 我国大陆地区的进口额和出口额都呈现出上升趋势

三十九、根据下列文字材料, 回答186-190题。

对外开放30年, 我国服务贸易取得长足发展, 服务贸易总额由1982年的43亿美元增加到2007年的2509亿美元。2007年, 服务贸易总额占我国全部对外贸易总额的比重从1982年的9.4%上升到10.3%, 占世界服务贸易的比重从0.6%升至4%, 世界排名仅次于美国、英国、德国和日本, 居第五位, 成为世界贸易的重要国家。

186. 2007年我国服务贸易总额是多少美元?

A. 43

B. 2509

C. 43亿

D. 2509亿

187. 我国服务贸易总额从1982年到2007年, 大约增长了多少倍?

A. 56

B. 57

C. 58

D. 59

188. 2007年我国对外贸易总额约是多少亿美元?

A. 0.24万

B. 0.25万

C. 2.4万

D. 2.5万

189. 从1982年到2007年, 世界服务贸易的总额大约增加了多少亿美元?

A. 0.56万

B. 0.46万

C. 5.6万

D. 4.6万

190. 2007年英国服务贸易总额可能为下面哪一项?

A. 0.23万亿美元 B. 0.24万亿美元

C. 0.25万亿美元 D. 0.26万亿美元

四十、根据下表回答第191-195题。

某市2007、2008年度高校各专业学生数

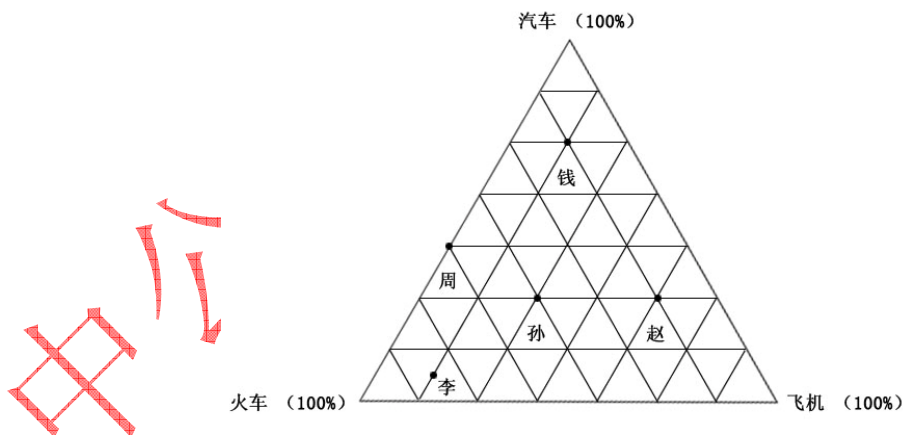
专业	2007年		2008年	
	毕业人数	在校人数	毕业人数	在校人数
哲学	9	54	10	66
经济学	573	3599	659	4664
法学	615	3879	800	4748
教育学	526	3745	798	4703
文学	1578	10593	1985	13683
历史学	102	534	98	556
理学	1158	7163	1315	8522
工学	3491	24912	4598	30850

农学	285	1860	363	2160
医学	626	5294	795	6566
管理学	1399	10275	1932	13817

191. 2008 年该市高校学生在校人数最多的是哪个专业？
A. 经济学 B. 教育学
C. 文学 D. 工学
192. 2007 年的毕业生中，文学专业所占的比例大概是多少？
A. 10% B. 12%
C. 15% D. 18%
193. 下列说法正确的是哪一项？
A. 与 2007 年相比，2008 年各专业毕业人数都有不同程度的上升
B. 2007 年在校人数较多的三个专业占当年总在校人数大半
C. 与 2007 年相比，2008 年理学专业毕业生的增长率比法学的高
D. 与 2007 年相比，2008 年文学专业在校人数的增长率比管理学的高
194. 2008 年与 2007 年相比，在校生增长率超过 25% 的专业有几个？
A. 3 B. 4
C. 5 D. 6
195. 与 2007 年相比，2008 年毕业人数增长率最高的是哪个专业？
A. 经济学 B. 管理学
C. 教育学 D. 历史学

四十一、根据下图回答 196-200 题。

赵钱孙李周五位先生长途出行的方式都是乘坐汽车、火车或飞机，大致情况如下：



196. 周先生最喜欢的出行方式是：
A. 汽车 B. 火车
C. 飞机 D. 无法确定
197. 五人中最喜欢坐汽车出行的是：
A. 赵先生 B. 钱先生
C. 孙先生 D. 李先生
198. 孙先生大概长途出行多少次才坐一次飞机？
A. 3 B. 3.5

C. 4

D. 4.5

199. 赵先生长途出行坐火车次数与坐飞机次数的比例是:

A. 1: 2

B. 1: 3

C. 1: 4

D. 1: 5

200. 下列说法正确的是:

A. 周先生比赵先生喜欢出行

B. 李先生较喜欢坐飞机出行

C. 相对于孙先生而言, 钱先生更喜欢坐火车出行

D. 钱先生和赵先生都不怎么喜欢坐火车出行

1. 【答案】C。
2. 【答案】B。
3. 【答案】A。
4. 【答案】C。
5. 【答案】D。
6. 【答案】D。
7. 【答案】C。
8. 【答案】B。
9. 【答案】A。
10. 【答案】D。
11. 【答案】B。
12. 【答案】C。
13. 【答案】D。
14. 【答案】D。
15. 【答案】C。
16. 【答案】D。
17. 【答案】A。
18. 【答案】C。
19. 【答案】A。
20. 【答案】A。
21. 【答案】C。
22. 【答案】B。
23. 【答案】D。
24. 【答案】B。
25. 【答案】B。
26. 【答案】B。
27. 【答案】B。
28. 【答案】C。
29. 【答案】B。
30. 【答案】A。
31. 【答案】C。
32. 【答案】D。
33. 【答案】C。
34. 【答案】B。
35. 【答案】D。
36. 【答案】B。
37. 【答案】D。
38. 【答案】A。
39. 【答案】C。
40. 【答案】C。
41. 【答案】C。
42. 【答案】D。
43. 【答案】B。

44. 【答案】A。
45. 【答案】C。
46. 【答案】C。
47. 【答案】B。
48. 【答案】C。
49. 【答案】A。
50. 【答案】D。
51. 【答案】C。
52. 【答案】B。
53. 【答案】D。
54. 【答案】C。
55. 【答案】C。
56. 【答案】B。
57. 【答案】B。
58. 【答案】A。
59. 【答案】B。
60. 【答案】A。
61. 【答案】A。
62. 【答案】B。
63. 【答案】B。
64. 【答案】D。
65. 【答案】A。
66. 【答案】B。
67. 【答案】B。
68. 【答案】A。
69. 【答案】C。
70. 【答案】C。
71. 【答案】B。
72. 【答案】C。
73. 【答案】C。
74. 【答案】B。
75. 【答案】B。
76. 【答案】C。
77. 【答案】A。
78. 【答案】C。
79. 【答案】D。
80. 【答案】B。
81. 【答案】A。
82. 【答案】C。
83. 【答案】B。
84. 【答案】B。
85. 【答案】C。
86. 【答案】B。

87. 【答案】D。
88. 【答案】C。
89. 【答案】B。
90. 【答案】C。
92. 【答案】C。
93. 【答案】A。
94. 【答案】B。
95. 【答案】D。
96. 【答案】C。
97. 【答案】B。
98. 【答案】D。
99. 【答案】A。
100. 【答案】D。
101. 【答案】C。
102. 【答案】D。
103. 【答案】A。
104. 【答案】D。
105. 【答案】C。
106. 【答案】B。
107. 【答案】B。
108. 【答案】A。
109. 【答案】D。
110. 【答案】B。
111. 【答案】C。
112. 【答案】B。
113. 【答案】A。
114. 【答案】B。
115. 【答案】C。
116. 【答案】D。
117. 【答案】B。
118. 【答案】B。
119. 【答案】A。
120. 【答案】C。
121. 【答案】A。
122. 【答案】A。
123. 【答案】D。
124. 【答案】C。
125. 【答案】B。
126. 【答案】D。
127. 【答案】A。
128. 【答案】C。
129. 【答案】C。
130. 【答案】D。

131. 【答案】B。
132. 【答案】B。
133. 【答案】D。
134. 【答案】B。
135. 【答案】D。
136. 【答案】A。
137. 【答案】A。
138. 【答案】B。
139. 【答案】B。
140. 【答案】D。
141. 【答案】B。
142. 【答案】B。
143. 【答案】D。
144. 【答案】C。
145. 【答案】C。
146. 【答案】C。
147. 【答案】D。
148. 【答案】A。
149. 【答案】B。
150. 【答案】C。
151. 【答案】A。
152. 【答案】C。
153. 【答案】C。
154. 【答案】C。
155. 【答案】B。
156. 【答案】B。
158. 【答案】D。
159. 【答案】B。
160. 【答案】D。
161. 【答案】B。
162. 【答案】C。
163. 【答案】B。
165. 【答案】D。
166. 【答案】B。
167. 【答案】B。
168. 【答案】D。
169. 【答案】B。
170. 【答案】A。
171. 【答案】C。
172. 【答案】C。
173. 【答案】D。
174. 【答案】A。
175. 【答案】C。

176. 【答案】C。
177. 【答案】A。
178. 【答案】C。
179. 【答案】B。
180. 【答案】D。
181. 【答案】C。
182. 【答案】D。
183. 【答案】B。
184. 【答案】A。
185. 【答案】B。
186. 【答案】D。
187. 【答案】B。
188. 【答案】C。
189. 【答案】C。
190. 【答案】D。
191. 【答案】D。
192. 【答案】C。
193. 【答案】B。
194. 【答案】B。
195. 【答案】C。
196. 【答案】B。
197. 【答案】B。
198. 【答案】B。
199. 【答案】C。
200. 【答案】D。